



## Question Paper Preview

### Notations :

- Options shown in green color and with  icon are correct.
- Options shown in red color and with  icon are incorrect.

Question Paper Name:	ASSISTANT TEACHER PRIMARY 29th Nov 2018 Shift 2
Subject Name:	ASSISTANT TEACHER PRIMARY
Creation Date:	2018-11-29 16:22:18
Duration:	120
Total Marks:	200
Display Marks:	Yes
Share Answer Key With Delivery Engine:	Yes
Actual Answer Key:	Yes
Calculator:	None
Magnifying Glass Required?:	No
Ruler Required?:	No
Eraser Required?:	No
Scratch Pad Required?:	No
Rough Sketch/Notepad Required?:	No
Protractor Required?:	No
Show Watermark on Console?:	Yes
Highlighter:	No
Auto Save on Console?:	No

### Mental Ability

Group Number :	1
Group Id :	162653101
Group Maximum Duration :	0
Group Minimum Duration :	0
Revisit allowed for view? :	No
Revisit allowed for edit? :	No
Break time:	0
Group Marks:	20
Revisit allowed for group Instructions? :	Yes
Maximum Instruction Time:	0
Minimum Instruction Time:	0

### Mental Ability

Section Id :	162653101
Section Number :	1
Section type :	Online
Mandatory or Optional:	Mandatory
Number of Questions:	20
Number of Questions to be attempted:	20
Section Marks:	20

Display Number Panel:  
Group All Questions:

Yes  
No

Sub-Section Number:

1

Sub-Section Id:

162653132

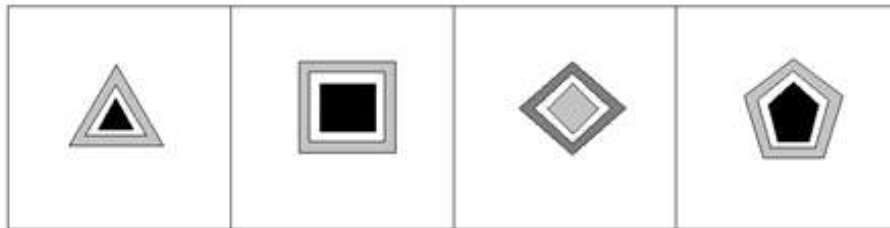
Question Shuffling Allowed :

Yes

Question Number : 1 Question Id : 1626532030 Question Type : MCQ Option Shuffling : Yes Display Question Number : Yes  
Single Line Question Option : No Option Orientation : Vertical

Correct Marks : 1 Wrong Marks : 0.25

Select the figure that is different from the other three.



A

B

C

D

Options :

1. ✖ A

2. ✖ B

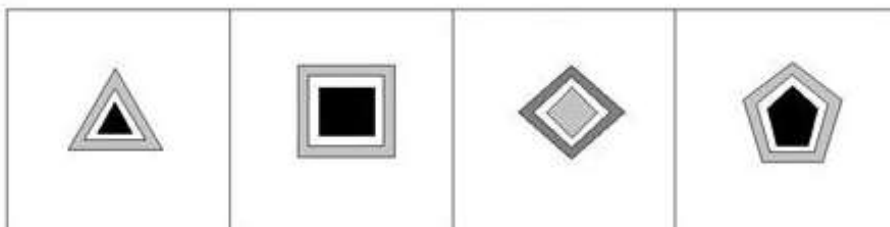
3. ✔ C

4. ✖ D

Question Number : 1 Question Id : 1626532030 Question Type : MCQ Option Shuffling : Yes Display Question Number : Yes  
Single Line Question Option : No Option Orientation : Vertical

Correct Marks : 1 Wrong Marks : 0.25

उस आकृति का चयन करें जो अन्य तीनों से अलग है।



A

B

C

D

Options :

1. ✖ A

2. ✖ B

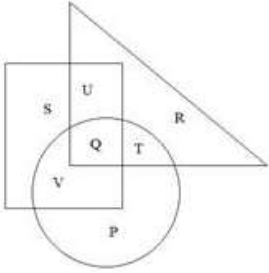
3. ✓ C

4. ✗ D

Question Number : 2 Question Id : 1626532031 Question Type : MCQ Option Shuffling : Yes Display Question Number : Yes  
Single Line Question Option : No Option Orientation : Vertical

Correct Marks : 1 Wrong Marks : 0.25

In the figure given below, the triangle represents basketball players, rectangle represents men and the circle represents hip-hop dancers. Select the letter that represents male basketball players who are hip-hop dancers as well.



Options :

1. ✗ U

2. ✓ Q

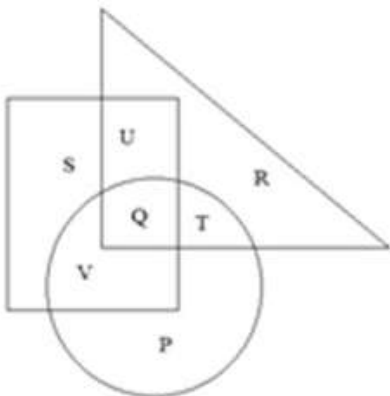
3. ✗ V

4. ✗ T

Question Number : 2 Question Id : 1626532031 Question Type : MCQ Option Shuffling : Yes Display Question Number : Yes  
Single Line Question Option : No Option Orientation : Vertical

Correct Marks : 1 Wrong Marks : 0.25

नीचे दी गई आकृति में, त्रिभुज बास्केटबॉल खिलाड़ियों का प्रतिनिधित्व करता है, आयत आदमियों का प्रतिनिधित्व करता है और वृत्त हिप-हॉप नर्तकों का प्रतिनिधित्व करता है। उस शब्द का चयन करें जो उन पुरुष बास्केटबॉल खिलाड़ियों का प्रतिनिधित्व करता है जो हिप-हॉप नर्तक भी हैं।



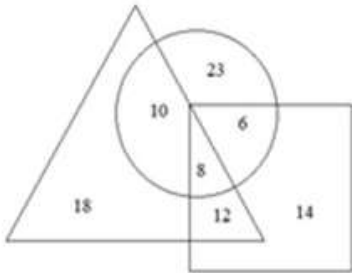
Options :

1. ✖ U
2. ✔ Q
3. ✖ V
4. ✖ T

Question Number : 3 Question Id : 1626532032 Question Type : MCQ Option Shuffling : Yes Display Question Number : Yes  
Single Line Question Option : No Option Orientation : Vertical

Correct Marks : 1 Wrong Marks : 0.25

नीचे दिया गया वेन आरेख किसी स्कूल के बच्चों की पसंदीदा ब्रेकफास्ट मर्दे दर्शाता है। त्रिकोण, इडली पसंद करने वाले बच्चों का प्रतिनिधित्व करता है, आयत, पूड़ी सब्जी पसंद करने वाले बच्चों का प्रतिनिधित्व करता है और वृत्त, सैंडविच पसंद करने वाले बच्चों का प्रतिनिधित्व करता है। कितने बच्चे ऐसे है जो दिए गए ब्रेकफास्ट की एक मद को पसंद करते है?



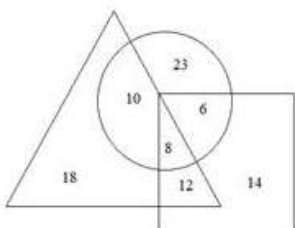
Options :

1. ✖ 24
2. ✖ 53
3. ✔ 55
4. ✖ 67

Question Number : 3 Question Id : 1626532032 Question Type : MCQ Option Shuffling : Yes Display Question Number : Yes  
Single Line Question Option : No Option Orientation : Vertical

Correct Marks : 1 Wrong Marks : 0.25

The Venn diagram given below shows the favourite breakfast items of children of a school. The triangle represents children who like idli, rectangle represents children who like poori-sabzi and the circle represents children who like sandwich. How many children like only one of the given breakfast items?



Options :

1. ✖ 24

2. ✖ 53

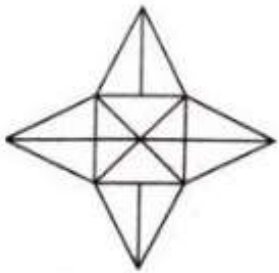
3. ✔ 55

4. ✖ 67

Question Number : 4 Question Id : 1626532033 Question Type : MCQ Option Shuffling : Yes Display Question Number : Yes  
Single Line Question Option : No Option Orientation : Vertical

Correct Marks : 1 Wrong Marks : 0.25

What is the total number of triangles in the given figure?



Note: For this question, discrepancy is found in question/answer. So, this question is ignored for all candidates.

Options :

1. 26

2. 32

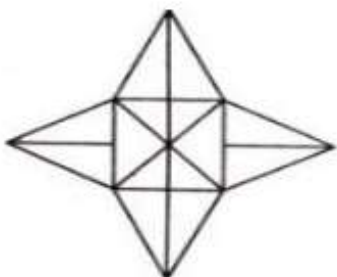
3. 24

4. 28

Question Number : 4 Question Id : 1626532033 Question Type : MCQ Option Shuffling : Yes Display Question Number : Yes  
Single Line Question Option : No Option Orientation : Vertical

Correct Marks : 1 Wrong Marks : 0.25

दी गई आकृति में त्रिभुजों की कुल संख्या क्या है?



Note: For this question, discrepancy is found in question/answer. So, this question is ignored for all candidates.

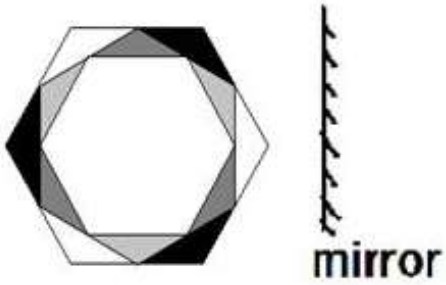
Options :

1. 26
2. 32
3. 24
4. 28

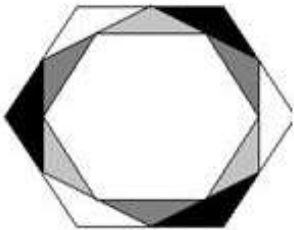
Question Number : 5 Question Id : 1626532034 Question Type : MCQ Option Shuffling : Yes Display Question Number : Yes  
Single Line Question Option : No Option Orientation : Vertical

Correct Marks : 1 Wrong Marks : 0.25


Select the correct mirror image of the given figure when a mirror is placed as shown below.



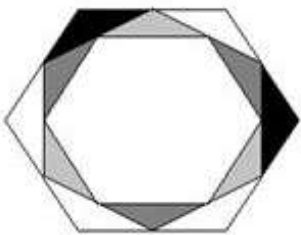
Options :



1. ✖




2. ✔



3. ✖

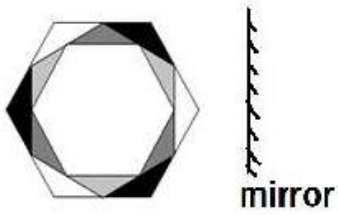
4. ✖



Question Number : 5 Question Id : 1626532034 Question Type : MCQ Option Shuffling : Yes Display Question Number : Yes  
Single Line Question Option : No Option Orientation : Vertical


Correct Marks : 1 Wrong Marks : 0.25

दी गई आकृति की उस सही दर्पण छवि का चयन करें जो कि नीचे दिखाए गए के अनुसार दर्पण को रखने पर बनती है:




Options :

1. ✖




2. ✔



3. ✖



4. ✖



Question Number : 6 Question Id : 1626532035 Question Type : MCQ Option Shuffling : Yes Display Question Number : Yes  
Single Line Question Option : No Option Orientation : Vertical


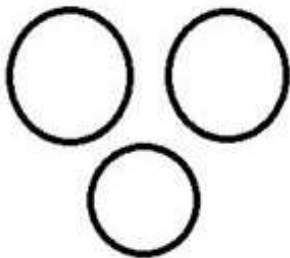
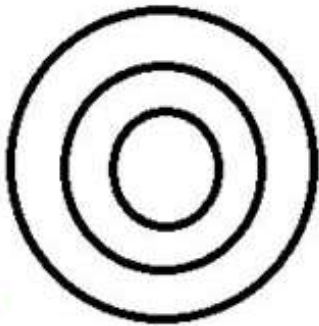

Correct Marks : 1 Wrong Marks : 0.25



Select the Venn diagram that correctly represents the classes below.

Music, Classical Music, Carnatic Music

Options :



Question Number : 6 Question Id : 1626532035 Question Type : MCQ Option Shuffling : Yes Display Question Number : Yes  
Single Line Question Option : No Option Orientation : Vertical


Correct Marks : 1 Wrong Marks : 0.25

उस वेन आरेख का चयन करें जो नीचे दिए गए वर्गों का सही ढंग से प्रतिनिधित्व करता है:

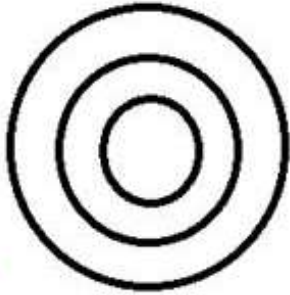
संगीत, क्लासिकल संगीत, कर्नाटक संगीत

Options :

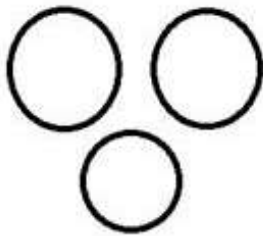





1. ✖



2. ✔



3. ✖



4. ✖

Question Number : 7 Question Id : 1626532036 Question Type : MCQ Option Shuffling : Yes Display Question Number : Yes  
Single Line Question Option : No Option Orientation : Vertical

Correct Marks : 1 Wrong Marks : 0.25

Mohini went from her school to her dance class. First, she went 2 km towards East. Then she went 4 km towards right. From there, she turned left and went another 2 km to reach the music class. To which direction is the school located with respect to Mohini's music class?

Options :

1. ✖ South-east

2. ✖ North-east

3. ✔ North-west

4. ✖ South-west

Question Number : 7 Question Id : 1626532036 Question Type : MCQ Option Shuffling : Yes Display Question Number : Yes  
Single Line Question Option : No Option Orientation : Vertical

Correct Marks : 1 Wrong Marks : 0.25

मोहिनी, अपने स्कूल से नृत्य की कक्षा के लिए गई। पहले, वह पूर्व की तरफ 2 km दूर तक गई। फिर वह दाईं ओर 4 km चली। यहां से, वह बाईं ओर मुड़ गई और अपनी नृत्य कक्षा तक पहुंचने के लिए और 2 km तक गई। मोहिनी की नृत्य कक्षा से उसका स्कूल किस दिशा में स्थित है?

Options :

1. ✖ दक्षिण-पूर्व
2. ✖ उत्तर-पूर्व
3. ✔ उत्तर-पश्चिम
4. ✖ दक्षिण-पश्चिम

Question Number : 8 Question Id : 1626532037 Question Type : MCQ Option Shuffling : Yes Display Question Number : Yes  
Single Line Question Option : No Option Orientation : Vertical

Correct Marks : 1 Wrong Marks : 0.25

Showing a photograph of a girl, Ram Kumar said, "This girl is my mother's father-in-law's daughter's only brother's daughter."

How is the girl in the photograph related to Ram Kumar?

Options :

1. ✖ Mother
2. ✔ Sister
3. ✖ Niece
4. ✖ Cousin

Question Number : 8 Question Id : 1626532037 Question Type : MCQ Option Shuffling : Yes Display Question Number : Yes  
Single Line Question Option : No Option Orientation : Vertical

Correct Marks : 1 Wrong Marks : 0.25

एक लड़की का चित्र दिखाते हुए राम कुमार ने कहा, "यह लड़की मेरी मां के ससुर की बेटी के एकमात्र भाई की बेटी है।"

चित्र में लड़की, राम कुमार से कैसे संबंधित है?

Options :

1. ✖ मां
2. ✔ बहन

3. ✖ भतीजी

4. ✖ चचेरी बहन

Question Number : 9 Question Id : 1626532038 Question Type : MCQ Option Shuffling : Yes Display Question Number : Yes  
Single Line Question Option : No Option Orientation : Vertical

Correct Marks : 1 Wrong Marks : 0.25

Brinda says to Gopika, "I am my brother's only sister. Your brother's mother-in-law is my brother's wife's mother-in-law."  
How is Gopika's brother related to Brinda?

Options :

1. ✖ Brother

2. ✖ Son

3. ✔ Husband

4. ✖ Brother-in-law

Question Number : 9 Question Id : 1626532038 Question Type : MCQ Option Shuffling : Yes Display Question Number : Yes  
Single Line Question Option : No Option Orientation : Vertical

Correct Marks : 1 Wrong Marks : 0.25

ब्रिंदा, गोपीका से कहती है, "मैं अपने भाई की एकलौती बहन हूँ। आपके भाई की सास, मेरे भाई की पत्नी की सास है।"  
गोपीका का भाई, ब्रिंदा से कैसे संबंधित है?

Options :

1. ✖ भाई

2. ✖ बेटा

3. ✔ पति

4. ✖ बहनोई

Question Number : 10 Question Id : 1626532039 Question Type : MCQ Option Shuffling : Yes Display Question Number : Yes  
Single Line Question Option : No Option Orientation : Vertical

Correct Marks : 1 Wrong Marks : 0.25

This question comprises two statements labelled I and II and two conclusions labelled I and II. Assume that the information provided is true even if it appears at variance from commonly known facts. Read the statements and decide if any of the conclusions logically and definitely follow from the statements.

Statement I: Some fingers are hands.

Statement II: All hands are legs.

Conclusion I: Some hands are fingers.

Conclusion II: Some legs are hands.

Options :

1. ✖ Only conclusion I follows.
2. ✖ Only conclusion II follows.
3. ✖ Neither conclusion follows.
4. ✔ Both the conclusions follow.

Question Number : 10 Question Id : 1626532039 Question Type : MCQ Option Shuffling : Yes Display Question Number : Yes  
Single Line Question Option : No Option Orientation : Vertical

Correct Marks : 1 Wrong Marks : 0.25

इस प्रश्न में लेबल किए गए दो कथन I और II और लेबल किए गए दो निष्कर्ष I और II शामिल हैं। मान लें कि इसमें दी गई जानकारी सही है, भले ही यह आमतौर पर ज्ञात तथ्यों से भिन्न दिखाई दें। कथनों को पढ़ें और निर्णय लें कि क्या कोई निष्कर्ष तार्किक रूप से और निश्चित रूप से कथनों का पालन करता है।

कथन I: कुछ उंगलियां हाथ हैं।

कथन II: सभी हाथ पैर हैं।

निष्कर्ष I: कुछ हाथ उंगलियां हैं।

निष्कर्ष II: कुछ पैर हाथ हैं।

Options :

1. ✖ केवल निष्कर्ष I अनुसरण करता है।
2. ✖ केवल निष्कर्ष II अनुसरण करता है।
3. ✖ कोई भी निष्कर्ष अनुसरण नहीं करता है।
4. ✔ दोनों निष्कर्ष अनुसरण करते हैं।



Question Number : 11 Question Id : 1626532040 Question Type : MCQ Option Shuffling : Yes Display Question Number : Yes  
Single Line Question Option : No Option Orientation : Vertical

Correct Marks : 1 Wrong Marks : 0.25

This question comprises two statements labelled I and II and two conclusions labelled I and II. Assume that the information provided is true even if it appearance at variance from commonly known facts. Read the statements and decide if any of the conclusions logically and definitely follow from the statements.

Statement I: All books are notepads.

Statement II: Some notepads are slates.

Conclusion I: Some notepads are books.

Conclusion II: Some slates are books.

Options :

1. ☒ Only conclusion I follows.
2. ☐ Only conclusion II follows.
3. ☐ Neither conclusion follows.
4. ☐ Both the conclusions follow.

Question Number : 11 Question Id : 1626532040 Question Type : MCQ Option Shuffling : Yes Display Question Number : Yes  
Single Line Question Option : No Option Orientation : Vertical

Correct Marks : 1 Wrong Marks : 0.25

इस प्रश्न में लेबल किए गए दो कथन I और II और लेबल किए गए दो निष्कर्ष I और II शामिल हैं। मान लें कि इसमें दी गई जानकारी सही है, भले ही यह आमतौर पर ज्ञात तथ्यों से भिन्न दिखाई दे। कथनों को पढ़ें और निर्णय लें कि क्या कोई निष्कर्ष तार्किक रूप से और निश्चित रूप से कथनों का पालन करता है।

कथन I: सभी पुस्तकें नोटपैड हैं।

कथन II: कुछ नोटपैड स्लेटें हैं।

निष्कर्ष I: कुछ नोटपैड पुस्तकें हैं।

निष्कर्ष II: कुछ स्लेटें पुस्तकें हैं।

Options :

1. ☒ केवल निष्कर्ष I अनुसरण करता है।
2. ☐ केवल निष्कर्ष II अनुसरण करता है।
3. ☐ कोई भी निष्कर्ष अनुसरण नहीं करता है।

4. ✖ दोनों निष्कर्ष अनुसरण करते हैं।

Question Number : 12 Question Id : 1626532041 Question Type : MCQ Option Shuffling : Yes Display Question Number : Yes  
Single Line Question Option : No Option Orientation : Vertical

Correct Marks : 1 Wrong Marks : 0.25

Select the term that is related to the third term in the same way as the second term is related to the first term.

Cruel : Kind : : Flexible : ?

Options :

1. ✔ Rigid

2. ✖ Adjustable

3. ✖ Adaptable

4. ✖ Resilient

Question Number : 12 Question Id : 1626532041 Question Type : MCQ Option Shuffling : Yes Display Question Number : Yes  
Single Line Question Option : No Option Orientation : Vertical

Correct Marks : 1 Wrong Marks : 0.25

उस पद का चयन करें जो पद 3 से ठीक उसी तरह से संबंधित है जैसे कि पद 2, पद 1 से संबंधित है।

Cruel : Kind : : Flexible : ?

Options :

1. ✔ Rigid

2. ✖ Adjustable

3. ✖ Adaptable

4. ✖ Resilient

Question Number : 13 Question Id : 1626532042 Question Type : MCQ Option Shuffling : Yes Display Question Number : Yes  
Single Line Question Option : No Option Orientation : Vertical

Correct Marks : 1 Wrong Marks : 0.25

Select the term that is related to the third term in the same way as the second term is related to the first term.

Knowledge : Ignorance : : Money : ?

Options :

1. ✖ Prosperity
2. ✖ Abundance
3. ✔ Penury
4. ✖ Placidity

Question Number : 13 Question Id : 1626532042 Question Type : MCQ Option Shuffling : Yes Display Question Number : Yes  
Single Line Question Option : No Option Orientation : Vertical

Correct Marks : 1 Wrong Marks : 0.25

उस पद का चयन करें जो पद 3 से ठीक उसी तरह से संबंधित है जैसे कि पद 2, पद 1 से संबंधित है।

Knowledge : Ignorance :: Money : ?

Options :

1. ✖ Prosperity
2. ✖ Abundance
3. ✔ Penury
4. ✖ Placidity

Question Number : 14 Question Id : 1626532043 Question Type : MCQ Option Shuffling : Yes Display Question Number : Yes  
Single Line Question Option : No Option Orientation : Vertical

Correct Marks : 1 Wrong Marks : 0.25

If the sign '×' is interchanged with '÷' and '-' is interchanged with '+', then what will be the value of the expression below?

$$143 \times 11 \div 5 - 6 + 5$$

Options :

1. ✖ 61
2. ✖ 76
3. ✔ 66
4. ✖ 54

Question Number : 14 Question Id : 1626532043 Question Type : MCQ Option Shuffling : Yes Display Question Number : Yes  
Single Line Question Option : No Option Orientation : Vertical

Correct Marks : 1 Wrong Marks : 0.25



यदि चिन्ह '×' को '÷' के साथ और '-' को '+' के साथ इंटरचेंज किया जाता है तो नीचे दी गई अभिव्यक्ति का मूल्य क्या होगा?

$$143 \times 11 \div 5 - 6 + 5$$

Options :

1. ✖ 61

2. ✖ 76

3. ✔ 66

4. ✖ 54

Question Number : 15 Question Id : 1626532044 Question Type : MCQ Option Shuffling : Yes Display Question Number : Yes  
Single Line Question Option : No Option Orientation : Vertical

Correct Marks : 1 Wrong Marks : 0.25

Select the option that will fill in the blank and complete the given series correctly.

1, 2, 4, 7, 11, 16, 22, 29, \_\_\_\_\_

Options :

1. ✖ 35

2. ✔ 37

3. ✖ 41

4. ✖ 39

Question Number : 15 Question Id : 1626532044 Question Type : MCQ Option Shuffling : Yes Display Question Number : Yes  
Single Line Question Option : No Option Orientation : Vertical

Correct Marks : 1 Wrong Marks : 0.25

उस विकल्प का चयन करें जो खाली जगह को भरेगा और दी गई श्रृंखला को सही तरीके से पूरा करेगा।

1, 2, 4, 7, 11, 16, 22, 29, \_\_\_\_

Options :

1. ✖ 35

2. ✔ 37

3. ✖ 41

4. ✖ 39

Question Number : 16 Question Id : 1626532045 Question Type : MCQ Option Shuffling : Yes Display Question Number : Yes  
Single Line Question Option : No Option Orientation : Vertical

Correct Marks : 1 Wrong Marks : 0.25

Five friends are sitting in a row watching a movie. Manish is sitting at one of the ends. Gautam is sitting to Prakash's immediate left. Dheeraj has only one neighbour. Chetan is sitting next to neither Manish nor Gautam. Who among them has 2 friends sitting to his right and 2 to his left?

Options :

1. ✖ Gautam

2. ✖ Chetan

3. ✔ Prakash

4. ✖ Either Gautam or Manish

Question Number : 16 Question Id : 1626532045 Question Type : MCQ Option Shuffling : Yes Display Question Number : Yes  
Single Line Question Option : No Option Orientation : Vertical

Correct Marks : 1 Wrong Marks : 0.25

पांच मित्र एक ही पंक्ति में बैठ कर मूवी देख रहे हैं। मनीष एक सिरे पर बैठा है। गौतम, प्रकाश के तत्काल बायीं ओर बैठा है। धीरज का केवल एक पड़ोसी है। चेतन न तो मनीष के और न ही गौतम के बगल में बैठा है। इन में से कौन ऐसा व्यक्ति है जिसके दाईं ओर 2 मित्र तथा बाईं ओर 2 मित्र बैठे हैं?

Options :

1. ✖ गौतम

2. ✖ चेतन

3. ✔ प्रकाश

4. ✖ या तो गौतम या मनीष

Question Number : 17 Question Id : 1626532046 Question Type : MCQ Option Shuffling : Yes Display Question Number : Yes  
Single Line Question Option : No Option Orientation : Vertical

Correct Marks : 1 Wrong Marks : 0.25

Vitthal bought some bananas and milk. Three-fourth dozen bananas cost as much as  $\frac{2}{3}$ <sup>rd</sup> litre milk. If 3 litre milk costs ₹ 162, what is the amount spent by Vitthal on buying 5 dozen bananas and 4 litre milk?

Options :

1. ✖ ₹ 396

2. ✔ ₹ 456

3. ✖ ₹ 512

4. ✖ ₹ 484

Question Number : 17 Question Id : 1626532046 Question Type : MCQ Option Shuffling : Yes Display Question Number : Yes  
Single Line Question Option : No Option Orientation : Vertical

Correct Marks : 1 Wrong Marks : 0.25

बिठ्ठल ने कुछ केले और दूध खरीदा। पौना दर्जन केलों का मूल्य, दो/तिहाई L दूध जितना है। यदि 3 L दूध की कीमत ₹ 162 है तो बिठ्ठल द्वारा 5 दर्जन केले और 4 L दूध खरीदने पर खर्च की गई राशि कितनी है?

Options :

1. ✖ ₹ 396

2. ✔ ₹ 456

3. ✖ ₹ 512

4. ✖ ₹ 484

Question Number : 18 Question Id : 1626532047 Question Type : MCQ Option Shuffling : Yes Display Question Number : Yes  
Single Line Question Option : No Option Orientation : Vertical

Correct Marks : 1 Wrong Marks : 0.25

The sum of 2 consecutive odd numbers is 56. What is the product of the two numbers?

Options :

1. ✖ 899

2. ✖ 675

3. ✔ 783

4. ✖ 729

Question Number : 18 Question Id : 1626532047 Question Type : MCQ Option Shuffling : Yes Display Question Number : Yes  
Single Line Question Option : No Option Orientation : Vertical

Correct Marks : 1 Wrong Marks : 0.25

लगातार 2 विषम संख्याओं का योग 56 है। दोनों संख्याओं का गुणनफल क्या है?

Options :

1. ✖ 899

2. ✖ 675

3. ✔ 783

4. ✖ 729

Question Number : 19 Question Id : 1626532048 Question Type : MCQ Option Shuffling : Yes Display Question Number : Yes  
Single Line Question Option : No Option Orientation : Vertical

Correct Marks : 1 Wrong Marks : 0.25

Select the option that does not belong to the group given below.

Bear, Lion, Wolf, Deer, Fox, Leopard, Jaguar

Options :

1. ✖ Jaguar

2. ✔ Deer

3. ✖ Fox

4. ✖ Lion

Question Number : 19 Question Id : 1626532048 Question Type : MCQ Option Shuffling : Yes Display Question Number : Yes  
Single Line Question Option : No Option Orientation : Vertical

Correct Marks : 1 Wrong Marks : 0.25

उस विकल्प का चयन करें जो नीचे दिए गए समूह से संबंधित नहीं है:

भालू, शेर, भेड़िया, हिरण, लोमड़ी, तेंदुआ, जगुआर

Options :

1. ✖ जगुआर

2. ✔ हिरण

3. ✖ लोमड़ी

4. ✖ शेर

Question Number : 20 Question Id : 1626532049 Question Type : MCQ Option Shuffling : Yes Display Question Number : Yes  
Single Line Question Option : No Option Orientation : Vertical

Correct Marks : 1 Wrong Marks : 0.25

Palak is taller than Shivani. Bhavani is taller than Shivani but not as tall as Tanaji. Palak is not as tall as Tanaji. Shivani is taller than Govind. Who is the tallest in the group?

Options :

1. ✖ Palak

2. ❌ Shivani

3. ✅ Tanaji

4. ❌ Bhavani

Question Number : 20 Question Id : 1626532049 Question Type : MCQ Option Shuffling : Yes Display Question Number : Yes  
Single Line Question Option : No Option Orientation : Vertical

Correct Marks : 1 Wrong Marks : 0.25

पलक, शिवानी से लंबी है। भवानी, शिवानी से लंबी है परंतु उतनी लंबी नहीं है जितनी तानाजी। पलक, तानाजी जितनी लंबी नहीं है। शिवानी, गोविंद से लंबी है। समूह में सबसे लंबी कौन है?

Options :

1. ❌ पलक

2. ❌ शिवानी

3. ✅ तानाजी

4. ❌ भवानी

#### General Awareness

Group Number :	2
Group Id :	162653102
Group Maximum Duration :	0
Group Minimum Duration :	0
Revisit allowed for view? :	No
Revisit allowed for edit? :	No
Break time:	0
Group Marks:	20
Revisit allowed for group Instructions? :	Yes
Maximum Instruction Time:	0
Minimum Instruction Time:	0

#### General Awareness

Section Id :	162653102
Section Number :	1
Section type :	Online
Mandatory or Optional:	Mandatory
Number of Questions:	20
Number of Questions to be attempted:	20
Section Marks:	20
Display Number Panel:	Yes
Group All Questions:	No



Sub-Section Number: 1  
Sub-Section Id: 162653133  
Question Shuffling Allowed : Yes

Question Number : 21 Question Id : 1626532050 Question Type : MCQ Option Shuffling : Yes Display Question Number : Yes  
Single Line Question Option : No Option Orientation : Vertical  
Correct Marks : 1 Wrong Marks : 0.25

When was the National Development Council constituted?

Options :

1. ✖ 10<sup>th</sup> January 1952
2. ✖ 22<sup>nd</sup> April 1952
3. ✖ 8<sup>th</sup> July 1952
4. ✔ 6<sup>th</sup> August 1952

Question Number : 21 Question Id : 1626532050 Question Type : MCQ Option Shuffling : Yes Display Question Number : Yes  
Single Line Question Option : No Option Orientation : Vertical  
Correct Marks : 1 Wrong Marks : 0.25

राष्ट्रीय विकास परिषद का गठन कब हुआ था?

Options :

1. ✖ 10 जनवरी 1952 को
2. ✖ 22 अप्रैल 1952 को
3. ✖ 8 जुलाई 1952 को
4. ✔ 6 अगस्त 1952 को

Question Number : 22 Question Id : 1626532051 Question Type : MCQ Option Shuffling : Yes Display Question Number : Yes  
Single Line Question Option : No Option Orientation : Vertical  
Correct Marks : 1 Wrong Marks : 0.25

Which of the following companies is NOT a Maharatna company?

Options :

1. ✔ Bharat Electronics Limited
2. ✖ NTPC Limited

3. ✖ GAIL India Limited

4. ✖ Bharat Petroleum Corporation Limited

Question Number : 22 Question Id : 1626532051 Question Type : MCQ Option Shuffling : Yes Display Question Number : Yes  
Single Line Question Option : No Option Orientation : Vertical  
Correct Marks : 1 Wrong Marks : 0.25

निम्नलिखित में से कौन सी कंपनी महारत्न कंपनी नहीं है?

Options :

1. ✔ भारत इलेक्ट्रॉनिक्स लिमिटेड

2. ✖ एनटीपीसी लिमिटेड

3. ✖ गेल इंडिया लिमिटेड

4. ✖ भारत पेट्रोलियम कॉर्पोरेशन लिमिटेड

Question Number : 23 Question Id : 1626532052 Question Type : MCQ Option Shuffling : Yes Display Question Number : Yes  
Single Line Question Option : No Option Orientation : Vertical  
Correct Marks : 1 Wrong Marks : 0.25

On 16 October 2017, in which of the following districts was the Zero Hunger Programme launched?

Options :

1. ✖ Porbandar, Gujarat

2. ✖ Alwar, Rajasthan

3. ✔ Koraput, Odisha

4. ✖ Jalpaiguri, West Bengal

Question Number : 23 Question Id : 1626532052 Question Type : MCQ Option Shuffling : Yes Display Question Number : Yes  
Single Line Question Option : No Option Orientation : Vertical  
Correct Marks : 1 Wrong Marks : 0.25

16 अक्टूबर 2017 को, निम्नलिखित में से किस जिले में शून्य भूख कार्यक्रम का शुभारंभ हुआ था?

Options :

1. ✖ पोरबंदर, गुजरात

2. ✖ अलवर, राजस्थान



3. ✓ कोरापुट, ओडिशा

4. ✗ जलपाईगुड़ी, पश्चिम बंगाल

Question Number : 24 Question Id : 1626532053 Question Type : MCQ Option Shuffling : Yes Display Question Number : Yes  
Single Line Question Option : No Option Orientation : Vertical

Correct Marks : 1 Wrong Marks : 0.25

In which of the following layers of atmosphere is the ozone layer concentrated?

Options :

1. ✓ Stratosphere

2. ✗ Troposphere

3. ✗ Mesosphere

4. ✗ Thermosphere

Question Number : 24 Question Id : 1626532053 Question Type : MCQ Option Shuffling : Yes Display Question Number : Yes  
Single Line Question Option : No Option Orientation : Vertical

Correct Marks : 1 Wrong Marks : 0.25

वायुमंडल की निम्नलिखित किस परत में ओजोन परत संकेंद्रित है?

Options :

1. ✓ समताप मंडल

2. ✗ क्षोभ मंडल

3. ✗ मेसोस्फीयर

4. ✗ थर्मोस्फीयर

Question Number : 25 Question Id : 1626532054 Question Type : MCQ Option Shuffling : Yes Display Question Number : Yes  
Single Line Question Option : No Option Orientation : Vertical

Correct Marks : 1 Wrong Marks : 0.25

In which of the following mountains is the volcano Cotopaxi situated?

Options :

1. ✗ Mount Kenya

2. ✓ Andes Mountain

3. ✖ Mount Kilimanjaro

4. ✖ Fuji mountain

Question Number : 25 Question Id : 1626532054 Question Type : MCQ Option Shuffling : Yes Display Question Number : Yes  
Single Line Question Option : No Option Orientation : Vertical

Correct Marks : 1 Wrong Marks : 0.25

निम्नलिखित में से किस पहाड़ में ज्वालामुखी कोटोपैक्सी स्थित है?

Options :

1. ✖ माउंट केन्या

2. ✔ एंडी पर्वत

3. ✖ माउंट किलिमंजारो

4. ✖ फ्यूजी पर्वत

Question Number : 26 Question Id : 1626532055 Question Type : MCQ Option Shuffling : Yes Display Question Number : Yes  
Single Line Question Option : No Option Orientation : Vertical

Correct Marks : 1 Wrong Marks : 0.25

In which of the following states is the Khardung La mountain pass situated?

Options :

1. ✖ Himachal Pradesh

2. ✖ Arunachal Pradesh

3. ✖ Sikkim

4. ✔ Jammu and Kashmir

Question Number : 26 Question Id : 1626532055 Question Type : MCQ Option Shuffling : Yes Display Question Number : Yes  
Single Line Question Option : No Option Orientation : Vertical

Correct Marks : 1 Wrong Marks : 0.25

निम्नलिखित में से किस राज्य में खारदोंग ला पर्वत दर्रा स्थित है?

Options :

1. ✖ हिमाचल प्रदेश

2. ✖ अरुणाचल प्रदेश

3. ✖ सिक्कीम

4. ✔ जम्मू एवं कश्मीर

Question Number : 27 Question Id : 1626532056 Question Type : MCQ Option Shuffling : Yes Display Question Number : Yes  
Single Line Question Option : No Option Orientation : Vertical

Correct Marks : 1 Wrong Marks : 0.25

Which of the following was NOT produced by Harappans?

Options :

1. ✖ Wheat

2. ✖ Barley

3. ✖ Peas

4. ✔ Gram

Question Number : 27 Question Id : 1626532056 Question Type : MCQ Option Shuffling : Yes Display Question Number : Yes  
Single Line Question Option : No Option Orientation : Vertical

Correct Marks : 1 Wrong Marks : 0.25

हड़प्पा द्वारा निम्नलिखित में से किस फसल का उत्पादन नहीं किया जाता था?

Options :

1. ✖ गेहूँ

2. ✖ जौ

3. ✖ मटर

4. ✔ चना

Question Number : 28 Question Id : 1626532057 Question Type : MCQ Option Shuffling : Yes Display Question Number : Yes  
Single Line Question Option : No Option Orientation : Vertical

Correct Marks : 1 Wrong Marks : 0.25

Who was the founder of the Tughlaq Dynasty?

Options :

1. ✖ Muhammad bin Tughlaq

2. ✔ Ghiyasuddin Tughlaq

3. ✖ Firuz Shah Tughlaq

4. ✖ Tughlaq Khan

Question Number : 28 Question Id : 1626532057 Question Type : MCQ Option Shuffling : Yes Display Question Number : Yes  
Single Line Question Option : No Option Orientation : Vertical

Correct Marks : 1 Wrong Marks : 0.25

तुगलक राजवंश के संस्थापक कौन थे?

Options :

1. ✖ मोहम्मद बिन तुगलक

2. ✔ घियासुद्दीन तुगलक

3. ✖ फिरोज शाह तुगलक

4. ✖ तुगलक खान

Question Number : 29 Question Id : 1626532058 Question Type : MCQ Option Shuffling : Yes Display Question Number : Yes  
Single Line Question Option : No Option Orientation : Vertical

Correct Marks : 1 Wrong Marks : 0.25

During which of the following governor general's period were the universities in Calcutta, Madras and Bombay established in 1857?

Options :

1. ✖ Lord Hardinge

2. ✖ Lord Ellenborough

3. ✔ Lord Canning

4. ✖ Lord Dalhousie

Question Number : 29 Question Id : 1626532058 Question Type : MCQ Option Shuffling : Yes Display Question Number : Yes  
Single Line Question Option : No Option Orientation : Vertical

Correct Marks : 1 Wrong Marks : 0.25

निम्नलिखित में से किस गवर्नर जनरल के कार्यकाल दौरान 1857 में कलकत्ता, मद्रास और बम्बई विश्वविद्यालयों की स्थापना हुई थी?

Options :

1. ✖ लॉर्ड हार्डिंग

2. ✖ लॉर्ड एलेनबोरो

3. ✔ लॉर्ड कैनिंग

4. ✖ लॉर्ड डलहौजी

Question Number : 30 Question Id : 1626532059 Question Type : MCQ Option Shuffling : Yes Display Question Number : Yes  
Single Line Question Option : No Option Orientation : Vertical

Correct Marks : 1 Wrong Marks : 0.25

The constitutional provision of Procedure of Constitutional Amendment has been borrowed from which of the following countries?

Options :

1. ✖ Germany

2. ✖ Ireland

3. ✔ South Africa

4. ✖ Australia

Question Number : 30 Question Id : 1626532059 Question Type : MCQ Option Shuffling : Yes Display Question Number : Yes  
Single Line Question Option : No Option Orientation : Vertical

Correct Marks : 1 Wrong Marks : 0.25

संवैधानिक संशोधन प्रक्रिया संबंधी संवैधानिक प्रावधान निम्नलिखित में से किस देश से लिया गया है?

Options :

1. ✖ जर्मनी

2. ✖ आयरलैंड

3. ✔ दक्षिण अफ्रीका

4. ✖ ऑस्ट्रेलिया

Question Number : 31 Question Id : 1626532060 Question Type : MCQ Option Shuffling : Yes Display Question Number : Yes  
Single Line Question Option : No Option Orientation : Vertical

Correct Marks : 1 Wrong Marks : 0.25

In which of the following years was the 50<sup>th</sup> Constitutional Amendment Act added to the Constitution of India?

Options :

1. ✖ 1980

2. ✖ 1982

3. ✔ 1984

4. ✖ 1985

Question Number : 31 Question Id : 1626532060 Question Type : MCQ Option Shuffling : Yes Display Question Number : Yes  
Single Line Question Option : No Option Orientation : Vertical

Correct Marks : 1 Wrong Marks : 0.25

भारतीय संविधान में 50वां संविधान संशोधन अधिनियम निम्नलिखित में से किस वर्ष में शामिल किया गया था?

Options :

1. ✖ 1980

2. ✖ 1982

3. ✔ 1984

4. ✖ 1985

Question Number : 32 Question Id : 1626532061 Question Type : MCQ Option Shuffling : Yes Display Question Number : Yes  
Single Line Question Option : No Option Orientation : Vertical

Correct Marks : 1 Wrong Marks : 0.25

Which of the following options is NOT mentioned in the Concurrent List?

Options :

1. ✖ Criminal Law

2. ✖ Electricity

3. ✖ Archaeological Sites

4. ✔ Agriculture

Question Number : 32 Question Id : 1626532061 Question Type : MCQ Option Shuffling : Yes Display Question Number : Yes  
Single Line Question Option : No Option Orientation : Vertical

Correct Marks : 1 Wrong Marks : 0.25

समवर्ती सूची में निम्नलिखित में से किस विकल्प का उल्लेख नहीं किया गया है?

Options :

1. ✖ दंड विधि

2. ✖ बिजली



3. ✖ पुरातात्विक स्थल

4. ✔ कृषि

Question Number : 33 Question Id : 1626532062 Question Type : MCQ Option Shuffling : Yes Display Question Number : Yes  
Single Line Question Option : No Option Orientation : Vertical

Correct Marks : 1 Wrong Marks : 0.25

In India, the frequency of alternating current is \_\_\_\_\_ Hertz.

Options :

1. ✔ 50

2. ✖ 100

3. ✖ 150

4. ✖ 240

Question Number : 33 Question Id : 1626532062 Question Type : MCQ Option Shuffling : Yes Display Question Number : Yes  
Single Line Question Option : No Option Orientation : Vertical

Correct Marks : 1 Wrong Marks : 0.25

भारत में, प्रत्यावर्ती धारा (करंट) की आवृत्ति \_\_\_\_\_ हर्ट्ज है।

Options :

1. ✔ 50

2. ✖ 100

3. ✖ 150

4. ✖ 240

Question Number : 34 Question Id : 1626532063 Question Type : MCQ Option Shuffling : Yes Display Question Number : Yes  
Single Line Question Option : No Option Orientation : Vertical

Correct Marks : 1 Wrong Marks : 0.25

A candle of height 15 cm is placed in front of a plane mirror. The height of the image formed will be \_\_\_\_\_.

Options :

1. ✖ 5 cm

2. ✖ 1/5 cm

3. ✔ 15 cm



4. ✖ 35 cm

Question Number : 34 Question Id : 1626532063 Question Type : MCQ Option Shuffling : Yes Display Question Number : Yes  
Single Line Question Option : No Option Orientation : Vertical

Correct Marks : 1 Wrong Marks : 0.25

एक समतल दर्पण के सामने 15 cm की मोमबत्ती रखी जाती है। इससे बनी छवि की ऊंचाई \_\_\_\_\_ होगी।

Options :

1. ✖ 5 cm

2. ✖ 1/5 cm

3. ✔ 15 cm

4. ✖ 35 cm

Question Number : 35 Question Id : 1626532064 Question Type : MCQ Option Shuffling : Yes Display Question Number : Yes  
Single Line Question Option : No Option Orientation : Vertical

Correct Marks : 1 Wrong Marks : 0.25

The national register of citizens-a document that registers the names of all citizens living within the geographical boundaries of a state-is published in which of the following states?

Options :

1. ✖ Manipur

2. ✖ Nagaland

3. ✔ Assam

4. ✖ Mizoram

Question Number : 35 Question Id : 1626532064 Question Type : MCQ Option Shuffling : Yes Display Question Number : Yes  
Single Line Question Option : No Option Orientation : Vertical

Correct Marks : 1 Wrong Marks : 0.25

नागरिकों का राष्ट्रीय रजिस्टर - एक दस्तावेज जिसमें राज्य की भौगोलिक सीमाओं भीतर रहने वाले सभी नागरिकों के नाम पंजीकृत होते हैं - निम्नलिखित में से किस राज्य में प्रकाशित होता है?

Options :

1. ✖ मणिपुर

2. ✖ नगालैंड

3. ✔ असम

4. ✖ मिजोरम

Question Number : 36 Question Id : 1626532065 Question Type : MCQ Option Shuffling : Yes Display Question Number : Yes  
Single Line Question Option : No Option Orientation : Vertical

Correct Marks : 1 Wrong Marks : 0.25

Which of the following countries is not a member of the BRICS organisation?

Options :

1. ✖ China

2. ✖ Russia

3. ✖ South Africa

4. ✔ Japan

Question Number : 36 Question Id : 1626532065 Question Type : MCQ Option Shuffling : Yes Display Question Number : Yes  
Single Line Question Option : No Option Orientation : Vertical

Correct Marks : 1 Wrong Marks : 0.25

निम्नलिखित में से कौन सा देश ब्रिक्स (BRICS) संगठन का सदस्य नहीं है?

Options :

1. ✖ चीन

2. ✖ रूस

3. ✖ दक्षिण अफ्रीका

4. ✔ जापान

Question Number : 37 Question Id : 1626532066 Question Type : MCQ Option Shuffling : Yes Display Question Number : Yes  
Single Line Question Option : No Option Orientation : Vertical

Correct Marks : 1 Wrong Marks : 0.25

In which of the following states is the festival 'Bommala Koluvu' celebrated?

Options :

1. ✖ Sikkim

2. ✖ Chhattisgarh

3. ✖ Jharkhand

4. ✔ Tamil Nadu

Question Number : 37 Question Id : 1626532066 Question Type : MCQ Option Shuffling : Yes Display Question Number : Yes  
Single Line Question Option : No Option Orientation : Vertical

Correct Marks : 1 Wrong Marks : 0.25

निम्नलिखित में से किस राज्य में 'बोम्माला कोलुवू' उत्सव मनाया जाता है?

Options :

1. ✖ सिक्किम
2. ✖ छत्तीसगढ़
3. ✖ झारखंड
4. ✔ तमिलनाडु

Question Number : 38 Question Id : 1626532067 Question Type : MCQ Option Shuffling : Yes Display Question Number : Yes  
Single Line Question Option : No Option Orientation : Vertical

Correct Marks : 1 Wrong Marks : 0.25

On which of the following dates is the World Ozone Day celebrated?

Options :

1. ✖ 10<sup>th</sup> July
2. ✖ 5<sup>th</sup> August
3. ✔ 16<sup>th</sup> September
4. ✖ 3<sup>rd</sup> October

Question Number : 38 Question Id : 1626532067 Question Type : MCQ Option Shuffling : Yes Display Question Number : Yes  
Single Line Question Option : No Option Orientation : Vertical

Correct Marks : 1 Wrong Marks : 0.25

विश्व ओजोन दिवस किस तारीख को मनाया जाता है?

Options :

1. ✖ 10 जुलाई को
2. ✖ 5 अगस्त को
3. ✔ 16 सितंबर को
4. ✖ 3 अक्टूबर को

Question Number : 39 Question Id : 1626532068 Question Type : MCQ Option Shuffling : Yes Display Question Number : Yes  
Single Line Question Option : No Option Orientation : Vertical

Correct Marks : 1 Wrong Marks : 0.25

In which of the following years was the FIFA World Cup NOT held?

Options :

1. ✖ 1930
2. ✖ 1934
3. ✖ 1938
4. ✔ 1942

Question Number : 39 Question Id : 1626532068 Question Type : MCQ Option Shuffling : Yes Display Question Number : Yes  
Single Line Question Option : No Option Orientation : Vertical

Correct Marks : 1 Wrong Marks : 0.25

निम्नलिखित में से किस वर्ष में फीफा विश्व कप का आयोजन नहीं किया गया था?

Options :

1. ✖ 1930
2. ✖ 1934
3. ✖ 1938
4. ✔ 1942

Question Number : 40 Question Id : 1626532069 Question Type : MCQ Option Shuffling : Yes Display Question Number : Yes  
Single Line Question Option : No Option Orientation : Vertical

Correct Marks : 1 Wrong Marks : 0.25

Wimbledon Championship is famous for which of the following sports events?

Options :

1. ✖ Table tennis
2. ✔ Lawn tennis
3. ✖ Badminton
4. ✖ Cricket

Question Number : 40 Question Id : 1626532069 Question Type : MCQ Option Shuffling : Yes Display Question Number : Yes  
Single Line Question Option : No Option Orientation : Vertical

Correct Marks : 1 Wrong Marks : 0.25

विंबलडन चैंपियनशिप निम्नलिखित में से किस खेल आयोजन के लिए प्रसिद्ध है?

Options :

1. ✖ टेबल टेनिस

2. ✔ लॉन टेनिस

3. ✖ बैडमिंटन

4. ✖ क्रिकेट

#### Arithmetic Ability

Group Number :	3
Group Id :	162653103
Group Maximum Duration :	0
Group Minimum Duration :	0
Revisit allowed for view? :	No
Revisit allowed for edit? :	No
Break time:	0
Group Marks:	20
Revisit allowed for group Instructions? :	Yes
Maximum Instruction Time:	0
Minimum Instruction Time:	0

#### Arithmetic Ability

Section Id :	162653103
Section Number :	1
Section type :	Online
Mandatory or Optional:	Mandatory
Number of Questions:	19
Number of Questions to be attempted:	19
Section Marks:	20
Display Number Panel:	Yes
Group All Questions:	No

Sub-Section Number:	1
Sub-Section Id:	162653134
Question Shuffling Allowed :	Yes

Question Number : 41 Question Id : 1626532070 Question Type : MCQ Option Shuffling : Yes Display Question Number : Yes  
Single Line Question Option : No Option Orientation : Vertical

Correct Marks : 1 Wrong Marks : 0.25

The value of  $\frac{(1.6)^3 + (3.8)^3 - (4.4)^3 + 4.8 \times 3.8 \times 4.4}{256 + (36)^2 + (44)^2 - 16 \times 38 + 38 \times 44 + 44 \times 16}$  is:

Note: For this question, discrepancy is found in question/answer. So, this question is ignored for all candidates.

Options :

1. 0.1
2. 0.01
3. 0.001
4. 0.0001

Question Number : 41 Question Id : 1626532070 Question Type : MCQ Option Shuffling : Yes Display Question Number : Yes  
Single Line Question Option : No Option Orientation : Vertical

Correct Marks : 1 Wrong Marks : 0.25

$$\frac{(1.6)^3 + (3.8)^3 - (4.4)^3 + 4.8 \times 3.8 \times 4.4}{256 + (36)^2 + (44)^2 - 16 \times 38 + 38 \times 44 + 44 \times 16} \text{ का मान है:}$$

Note: For this question, discrepancy is found in question/answer. So, this question is ignored for all candidates.

Options :

1. 0.1
2. 0.01
3. 0.001
4. 0.0001

Question Number : 42 Question Id : 1626532071 Question Type : MCQ Option Shuffling : Yes Display Question Number : Yes  
Single Line Question Option : No Option Orientation : Vertical

Correct Marks : 1 Wrong Marks : 0.25

The unit digit of  $(43)^{16} + (32)^{16} - (27)^{34}$  is:

Options :

1. ✖ 0
2. ✖ 2
3. ✖ 6
4. ✔ 8

Question Number : 42 Question Id : 1626532071 Question Type : MCQ Option Shuffling : Yes Display Question Number : Yes  
Single Line Question Option : No Option Orientation : Vertical

Correct Marks : 1 Wrong Marks : 0.25

$(43)^{16} + (32)^{16} - (27)^{34}$  का इकाई अंक है:

Options :

1. ✖ 0

2. ✖ 2

3. ✖ 6

4. ✔ 8

Question Number : 43 Question Id : 1626532072 Question Type : MCQ Option Shuffling : Yes Display Question Number : Yes  
Single Line Question Option : No Option Orientation : Vertical

Correct Marks : 1 Wrong Marks : 0.25

If  $\frac{5 + 2\sqrt{3}}{7 + 4\sqrt{3}} = a + b\sqrt{3}$ , then  $(a + b)$  is equal to:

Options :

1. ✔ 5

2. ✖ 11

3. ✖ 15

4. ✖ 17

Question Number : 43 Question Id : 1626532072 Question Type : MCQ Option Shuffling : Yes Display Question Number : Yes  
Single Line Question Option : No Option Orientation : Vertical

Correct Marks : 1 Wrong Marks : 0.25

यदि  $\frac{5 + 2\sqrt{3}}{7 + 4\sqrt{3}} = a + b\sqrt{3}$  हो तो  $(a + b)$  किसके बराबर है?

Options :

1. ✔ 5

2. ✖ 11

3. ✖ 15

4. ✖ 17

Question Number : 44 Question Id : 1626532073 Question Type : MCQ Option Shuffling : Yes Display Question Number : Yes  
Single Line Question Option : No Option Orientation : Vertical

Correct Marks : 1 Wrong Marks : 0.25

The value of  $(52)^{20} - (33)^{36} + (17)^{34}$  is:

Options :



1. ✓ 4

2. ✗ 5

3. ✗ 6

4. ✗ 9

Question Number : 44 Question Id : 1626532073 Question Type : MCQ Option Shuffling : Yes Display Question Number : Yes  
Single Line Question Option : No Option Orientation : Vertical

Correct Marks : 1 Wrong Marks : 0.25

$(52)^{20} - (33)^{36} + (17)^{34}$  का मान किसके बराबर है?

Options :

1. ✓ 4

2. ✗ 5

3. ✗ 6

4. ✗ 9

Question Number : 45 Question Id : 1626532074 Question Type : MCQ Option Shuffling : Yes Display Question Number : Yes  
Single Line Question Option : No Option Orientation : Vertical

Correct Marks : 1 Wrong Marks : 0.25

What is the sum of the digits of the least number which, when divided by 8, 12, 15 and 18, leaves remainder 5 in each case and is divisible by 7?

Options :

1. ✗ 9

2. ✗ 12

3. ✓ 14

4. ✗ 16

Question Number : 45 Question Id : 1626532074 Question Type : MCQ Option Shuffling : Yes Display Question Number : Yes  
Single Line Question Option : No Option Orientation : Vertical

Correct Marks : 1 Wrong Marks : 0.25

उस न्यूनतम संख्या के अंकों का योग क्या है जिसे 8, 12, 15 और 18 द्वारा विभाजित किए जाने पर प्रत्येक अवस्था में 5 शेष होता है और 7 द्वारा पूर्णतः विभाजित हो जाती है?

Options :

1. ✗ 9

2. ✖ 12

3. ✔ 14

4. ✖ 16

Question Number : 46 Question Id : 1626532075 Question Type : MCQ Option Shuffling : Yes Display Question Number : Yes  
Single Line Question Option : No Option Orientation : Vertical

Correct Marks : 1 Wrong Marks : 0.25

The average of 25 numbers is 46. Out of them, the average of the first 13 numbers is 44, and the average of the last 13 numbers is 49. If the middle number is excluded, what is the average of the remaining numbers correct to one decimal place?

Options :

1. ✖ 44.8

2. ✔ 45.5

3. ✖ 43.64

4. ✖ 46.8

Question Number : 46 Question Id : 1626532075 Question Type : MCQ Option Shuffling : Yes Display Question Number : Yes  
Single Line Question Option : No Option Orientation : Vertical

Correct Marks : 1 Wrong Marks : 0.25

25 संख्याओं का औसत 46 है। इनमें से, पहली 13 संख्याओं का औसत 44 है और अंतिम 13 संख्याओं का औसत 49 है। यदि मध्य संख्या को बाहर कर दिया जाता है तो शेष संख्याओं का औसत, एक दशमलव स्थान तक, क्या है?

Options :

1. ✖ 44.8

2. ✔ 45.5

3. ✖ 43.64

4. ✖ 46.8

Question Number : 47 Question Id : 1626532076 Question Type : MCQ Option Shuffling : Yes Display Question Number : Yes  
Single Line Question Option : No Option Orientation : Vertical

Correct Marks : 1 Wrong Marks : 0.25

Three numbers are in the ratio  $\frac{1}{2} : \frac{3}{5} : \frac{3}{4}$  and sum of their squares is 4,221. What is the sum of digits of the largest number?

Options :

1. ✖ 6

2. ✓ 9

3. ✗ 12

4. ✗ 14

Question Number : 47 Question Id : 1626532076 Question Type : MCQ Option Shuffling : Yes Display Question Number : Yes  
Single Line Question Option : No Option Orientation : Vertical

Correct Marks : 1 Wrong Marks : 0.25

तीन संख्याएं  $\frac{1}{2} : \frac{3}{5} : \frac{3}{4}$  के अनुपात में हैं और इनके वर्गों का योग 4,221 है। सबसे बड़ी संख्या के अंकों का योग क्या है?

Options :

1. ✗ 6

2. ✓ 9

3. ✗ 12

4. ✗ 14

Question Number : 48 Question Id : 1626532077 Question Type : MCQ Option Shuffling : Yes Display Question Number : Yes  
Single Line Question Option : No Option Orientation : Vertical

Correct Marks : 1 Wrong Marks : 0.25

A vessel contains 3.5 L mixture of acid and water in the ratio 2 : 5. From this mixture, 700 mL of the solution is taken out and replaced by same quantity of water. What is the ratio of acid and water in the new solution?

Options :

1. ✓ 8 : 27

2. ✗ 10 : 29

3. ✗ 11 : 32

4. ✗ 4 : 11

Question Number : 48 Question Id : 1626532077 Question Type : MCQ Option Shuffling : Yes Display Question Number : Yes  
Single Line Question Option : No Option Orientation : Vertical

Correct Marks : 1 Wrong Marks : 0.25

किसी बर्तन में 3.5 L एसिड और पानी का मिश्रण 2 : 5 के अनुपात में है। इस मिश्रण में से 700 mL घोल को निकाल लिया जाता है और इतनी ही मात्रा में पानी से बदल दिया जाता है तो नए घोल में एसिड और पानी का अनुपात क्या है?

Options :

1. ✓ 8 : 27

2. ✖ 10 : 29

3. ✖ 11 : 32

4. ✖ 4 : 11

Question Number : 49 Question Id : 1626532078 Question Type : MCQ Option Shuffling : Yes Display Question Number : Yes  
Single Line Question Option : No Option Orientation : Vertical

Correct Marks : 1 Wrong Marks : 0.25

In a school, there are 280 students. Each opted for Mathematics, Biology or both. If 80% opted for Mathematics and 70% Biology, how many students opted for both these subjects?

Options :

1. ✔ 140

2. ✖ 180

3. ✖ 224

4. ✖ 196

Question Number : 49 Question Id : 1626532078 Question Type : MCQ Option Shuffling : Yes Display Question Number : Yes  
Single Line Question Option : No Option Orientation : Vertical

Correct Marks : 1 Wrong Marks : 0.25

किसी स्कूल में 280 छात्र थे। प्रत्येक छात्र ने गणित या जीवविज्ञान या दोनों का चयन किया। यदि 80% ने गणित का चयन किया और 70% ने जीवविज्ञान का चयन किया है तो दोनों विषयों का चयन कितने छात्रों ने किया?

Options :

1. ✔ 140

2. ✖ 180

3. ✖ 224

4. ✖ 196

Question Number : 50 Question Id : 1626532079 Question Type : MCQ Option Shuffling : Yes Display Question Number : Yes  
Single Line Question Option : No Option Orientation : Vertical

Correct Marks : 1 Wrong Marks : 0.25

A person purchased an article at  $\frac{14}{15}$  of its marked price and sold it for 20% more than the marked price. What is his gain percentage correct to one decimal place?

Options :

1. ✔ 21.4%

2. ✖ 21.8%

3. ✖ 22.2%

4. ✖ 28.6%

Question Number : 50 Question Id : 1626532079 Question Type : MCQ Option Shuffling : Yes Display Question Number : Yes  
Single Line Question Option : No Option Orientation : Vertical

Correct Marks : 1 Wrong Marks : 0.25

एक व्यक्ति ने कोई वस्तु अपने चिह्नित मूल्य के  $\frac{14}{15}$  पर खरीदी और इसे चिह्नित मूल्य से 20% अधिक पर बेचा।  
उनका लाभ प्रतिशत, एक दशमलव स्थान तक, कितना है?

Options :

1. ✔ 21.4%

2. ✖ 21.8%

3. ✖ 22.2%

4. ✖ 28.6%

Question Number : 51 Question Id : 1626532080 Question Type : MCQ Option Shuffling : Yes Display Question Number : Yes  
Single Line Question Option : No Option Orientation : Vertical

Correct Marks : 1 Wrong Marks : 0.25

The marked price of two articles A and B are in the ratio 5 : 2. The shopkeeper gives 26% discount on A. If the total discount on both is 30%, what is the discount offered on article B?

Options :

1. ✖ 36 %

2. ✖ 38 %

3. ✔ 40 %

4. ✖ 42 %

Question Number : 51 Question Id : 1626532080 Question Type : MCQ Option Shuffling : Yes Display Question Number : Yes  
Single Line Question Option : No Option Orientation : Vertical

Correct Marks : 1 Wrong Marks : 0.25

दो वस्तुओं A और B की चिह्नित कीमत का अनुपात 5 : 2 में है। दुकानदार A पर 26% की छूट देता है। यदि दोनों पर कुल छूट 30% है तो B पर प्रस्तावित छूट क्या है?

Options :

1. ✖ 36%



2. ✖ 38%

3. ✔ 40%

4. ✖ 42%

Question Number : 52 Question Id : 1626532081 Question Type : MCQ Option Shuffling : Yes Display Question Number : Yes  
Single Line Question Option : No Option Orientation : Vertical

Correct Marks : 1 Wrong Marks : 0.25

A sum of ₹ 16,000 is invested at 10% per annum, compounded half yearly, for 15 months. What is percentage increase in the sum?

Options :

1. ✖ 11.8%

2. ✖ 12.6%

3. ✔ 13%

4. ✖ 13.2%

Question Number : 52 Question Id : 1626532081 Question Type : MCQ Option Shuffling : Yes Display Question Number : Yes  
Single Line Question Option : No Option Orientation : Vertical

Correct Marks : 1 Wrong Marks : 0.25

₹ 16,000 की राशि, 10% वार्षिक दर पर, अर्धवार्षिक आधार पर चक्रवृद्धि ब्याज पर, 15 महीने के लिए निवेश की जाती है। उसकी आय में प्रतिशत वृद्धि कितनी है?

Options :

1. ✖ 11.8%

2. ✖ 12.6%

3. ✔ 13%

4. ✖ 13.2%

Question Number : 53 Question Id : 1626532082 Question Type : MCQ Option Shuffling : Yes Display Question Number : Yes  
Single Line Question Option : No Option Orientation : Vertical

Correct Marks : 1 Wrong Marks : 0.25

In a circle of radius 15 cm, a chord subtends an angle of  $120^\circ$  at the centre. What is the area of the corresponding major segment of the circle, in  $\text{cm}^2$ , correct to one decimal place? ( $\pi = 3.14$ )

Note: For this question, discrepancy is found in question/answer. So, this question is ignored for all candidates.

Options :



1.  $138.1 \text{ cm}^2$
2.  $185.6 \text{ cm}^2$
3.  $210.8 \text{ cm}^2$
4.  $235.5 \text{ cm}^2$

Question Number : 53 Question Id : 1626532082 Question Type : MCQ Option Shuffling : Yes Display Question Number : Yes  
Single Line Question Option : No Option Orientation : Vertical

Correct Marks : 1 Wrong Marks : 0.25

किसी  $15 \text{ cm}$  त्रिज्या वाले वृत्त की एक ज्वा, केंद्र पर  $120^\circ$  का कोण बनाती है। वृत्त के संबंधित खंड का क्षेत्र  $\text{cm}^2$  में, एक दशमलव स्थान तक, क्या है? ( $\pi = 3.14$  का उपयोग करें)

Note: For this question, discrepancy is found in question/answer. So, this question is ignored for all candidates.

Options :

1.  $138.1 \text{ cm}^2$
2.  $185.6 \text{ cm}^2$
3.  $210.8 \text{ cm}^2$
4.  $235.5 \text{ cm}^2$

Question Number : 54 Question Id : 1626532083 Question Type : MCQ Option Shuffling : Yes Display Question Number : Yes  
Single Line Question Option : No Option Orientation : Vertical

Correct Marks : 1 Wrong Marks : 0.25

A cone of radius  $8 \text{ cm}$  is divided into two parts by drawing a plane through mid-point of its axis and parallel to its base. What is the ratio of the value of resulting cone and frustum of the cone?

Options :

1. ✖ 1 : 2
2. ✖ 1 : 4
3. ✔ 1 : 7
4. ✖ 1 : 8

Question Number : 54 Question Id : 1626532083 Question Type : MCQ Option Shuffling : Yes Display Question Number : Yes  
Single Line Question Option : No Option Orientation : Vertical

Correct Marks : 1 Wrong Marks : 0.25

8 cm त्रिज्या वाली किसी शंकु को, इसके अक्ष के मध्य बिंदु से एक प्लेन खींच कर और इसके आधार के समानांतर करके दो हिस्सों में बांटा गया है। शंकु के परिणामी शंकु और छिन्नक (frustum) के मूल्य का अनुपात क्या है?

Options :

1. ✖ 1 : 2

2. ✖ 1 : 4

3. ✔ 1 : 7

4. ✖ 1 : 8

Question Number : 55 Question Id : 1626532084 Question Type : MCQ Option Shuffling : Yes Display Question Number : Yes  
Single Line Question Option : No Option Orientation : Vertical

Correct Marks : 1 Wrong Marks : 0.25

The efficiency of A and B is in the ratio 3 : 5. If A takes 32 hours more than B to finish a work, in how many hours will both working together complete that work?

Options :

1. ✖ 25 hours

2. ✔ 30 hours

3. ✖ 34 hours

4. ✖ 35 hours

Question Number : 55 Question Id : 1626532084 Question Type : MCQ Option Shuffling : Yes Display Question Number : Yes  
Single Line Question Option : No Option Orientation : Vertical

Correct Marks : 1 Wrong Marks : 0.25

A, B 3 : 5 के अनुपात में कुशल हैं। यदि A किसी काम को पूरा करने में, B से 32 घंटे अधिक लेता है तो वे दोनों एक साथ मिल कर उस काम को कितने घंटे में पूरा कर सकते हैं?

Options :

1. ✖ 25 घंटे

2. ✔ 30 घंटे

3. ✖ 34 घंटे

4. ✖ 35 घंटे

Question Number : 56 Question Id : 1626532085 Question Type : MCQ Option Shuffling : Yes Display Question Number : Yes  
Single Line Question Option : No Option Orientation : Vertical

Correct Marks : 1 Wrong Marks : 0.25

Two pipes A and B can fill a tank in 75 minutes and 90 minutes respectively. Both pipes are opened together, but after 24 minutes, pipe A is closed. What is the total time required to fill the tank in minutes?

Options :

1. ☒ 42 minutes
2. ☐ 45 minutes
3. ☐ 48 minutes
4. ☐ 52 minutes

Question Number : 56 Question Id : 1626532085 Question Type : MCQ Option Shuffling : Yes Display Question Number : Yes  
Single Line Question Option : No Option Orientation : Vertical

Correct Marks : 1 Wrong Marks : 0.25

A और B, दो पाइप क्रमशः 75 मिनट और 90 मिनट में एक टैंक को भर सकती हैं। दोनों पाइप एक साथ खोले जाते हैं परंतु 24 मिनट के बाद, पाइप A को बंद कर दिया जाता है। टैंक को भरने के लिए कुल कितने समय, मिनटों में, की आवश्यकता है?

Options :

1. ☒ 42 मिनट
2. ☐ 45 मिनट
3. ☐ 48 मिनट
4. ☐ 52 मिनट

Question Number : 57 Question Id : 1626532086 Question Type : MCQ Option Shuffling : Yes Display Question Number : Yes  
Single Line Question Option : No Option Orientation : Vertical

Correct Marks : 1 Wrong Marks : 0.25

If a train runs at 40 km/h, it reaches its destination late by 15 minutes. But if it runs at 50 km/h, it reaches 10 minutes before time. What is the correct time to cover its journey in minutes?

Options :

1. ☐ 90 minutes
2. ☐ 100 minutes
3. ☒ 110 minutes
4. ☐ 120 minutes

Question Number : 57 Question Id : 1626532086 Question Type : MCQ Option Shuffling : Yes Display Question Number : Yes  
Single Line Question Option : No Option Orientation : Vertical

Correct Marks : 1 Wrong Marks : 0.25

यदि कोई ट्रेन 40 किमी/घंटे की गति से चलती है तो यह 15 मिनट की देरी से अपने गंतव्य पर पहुंचती है। परंतु यदि यह 50 किमी/घंटे की गति से चलती है तो यह समय से 10 मिनट पहले पहुंचती है। यात्रा पूरी करने का सही समय, मिनटों में, क्या है?

Options :

1. ✖ 90 मिनट
2. ✖ 100 मिनट
3. ✔ 110 मिनट
4. ✖ 120 मिनट

Question Number : 58 Question Id : 1626532087 Question Type : MCQ Option Shuffling : Yes Display Question Number : Yes  
Single Line Question Option : No Option Orientation : Vertical

Correct Marks : 1 Wrong Marks : 0.25

Two trains, one from A to B and the other from B to A, start simultaneously. After meeting on the way, the trains reach their destinations after 1.2 hours and 2.7 hours respectively. If the speed of train A is 60 km/h, What is the speed of the train starting from B in km/h?

Options :

1. ✔ 40 km/h
2. ✖ 45 km/h
3. ✖ 60 km/h
4. ✖ 90 km/h

Question Number : 58 Question Id : 1626532087 Question Type : MCQ Option Shuffling : Yes Display Question Number : Yes  
Single Line Question Option : No Option Orientation : Vertical

Correct Marks : 1 Wrong Marks : 0.25

दो ट्रेनें, एक, A से B की यात्रा करने के लिए और दूसरी B से A के लिए, साथ साथ शुरू होती है। रास्ते में मिलने के बाद, ट्रेनें क्रमशः 1.2 घंटे और 2.7 घंटे बाद अपने गंतव्यों पर पहुंच जाती है। यदि ट्रेन A की गति 60 किमी/घंटा है, तो B की गति कितने किमी/घंटा है?

Options :

1. ✔ 40 किमी/घंटा
2. ✖ 45 किमी/घंटा
3. ✖ 60 किमी/घंटा
4. ✖ 90 किमी/घंटा



Sub-Section Number: 2  
Sub-Section Id: 162653135  
Question Shuffling Allowed : Yes

Question Id : 1626532088 Question Type : COMPREHENSION Sub Question Shuffling Allowed : Yes Group Comprehension Questions : No

Question Numbers : (59 to 60)

Question Label : Comprehension

The following table gives the weight of tea in 160 packets.

Weight (in grams)	200-210	210-220	220-230	230-240	240-250	250-260
No of packets	26	54	36	20	12	12

Read the table and answer the following questions

Sub questions

Question Number : 59 Question Id : 1626532089 Question Type : MCQ Option Shuffling : Yes Display Question Number : Yes Single Line Question Option : No Option Orientation : Vertical

Correct Marks : 1 Wrong Marks : 0.25

What is the mean weight in grams of packets correct to one decimal place?

Options :

1. ✖ 218.8 gm

2. ✔ 223.4 gm

3. ✖ 228.6 gm

4. ✖ 232.5 gm

Question Number : 60 Question Id : 1626532090 Question Type : MCQ Option Shuffling : Yes Display Question Number : Yes Single Line Question Option : No Option Orientation : Vertical

Correct Marks : 1 Wrong Marks : 0.25

If the data is represented as pie chart, what is the central angle of the sector representing the number of packets in the interval 220-230, correct to the nearest degree?

Options :

1. ✖ 16

2. ✖ 45

3. ✖ 54

4. ✔ 81

Question Id : 1626532088 Question Type : COMPREHENSION Sub Question Shuffling Allowed : Yes Group Comprehension Questions : No

Question Numbers : (59 to 60)

Question Label : Comprehension

160 पैकेटों में चाय का वजन नीचे तालिका में दर्शाया गया है।

वजन (ग्राम में)	200- 210	210- 220	220- 230	230- 240	240- 250	250- 260
पैकेटों की संख्या	26	54	36	20	12	12

तालिका को पढ़ें और निम्नलिखित प्रश्नों का उत्तर दें।

Sub questions

Question Number : 59 Question Id : 1626532089 Question Type : MCQ Option Shuffling : Yes Display Question Number : Yes Single Line Question Option : No Option Orientation : Vertical

Correct Marks : 1 Wrong Marks : 0.25

पैकेटों का सही औसत वजन, एक दशमलव स्थान तक, ग्राम में कितना है?

Options :

1. ✖ 218.8 ग्राम

2. ✔ 223.4 ग्राम

3. ✖ 228.6 ग्राम

4. ✖ 232.5 ग्राम

Question Number : 60 Question Id : 1626532090 Question Type : MCQ Option Shuffling : Yes Display Question Number : Yes Single Line Question Option : No Option Orientation : Vertical

Correct Marks : 1 Wrong Marks : 0.25

यदि डेटा को पाई चार्ट के रूप में दर्शाया गया है तो 220-230 श्रेणी में प्रतिनिधित्व करने वाले सेक्टर का केंद्रीय कोण, निकटतम डिग्री में, क्या है?

Options :



1. ✖ 16

2. ✖ 45

3. ✖ 54

4. ✔ 81

#### General English

Group Number :	4
Group Id :	162653104
Group Maximum Duration :	0
Group Minimum Duration :	0
Revisit allowed for view? :	No
Revisit allowed for edit? :	No
Break time:	0
Group Marks:	20
Revisit allowed for group Instructions? :	Yes
Maximum Instruction Time:	0
Minimum Instruction Time:	0

#### General English

Section Id :	162653104
Section Number :	1
Section type :	Online
Mandatory or Optional:	Mandatory
Number of Questions:	16
Number of Questions to be attempted:	16
Section Marks:	20
Display Number Panel:	Yes
Group All Questions:	No

Sub-Section Number:	1
Sub-Section Id:	162653136
Question Shuffling Allowed :	Yes

Question Number : 61 Question Id : 1626532091 Question Type : MCQ Option Shuffling : Yes Display Question Number : Yes  
Single Line Question Option : No Option Orientation : Vertical

Correct Marks : 1 Wrong Marks : 0.25

Select the most appropriate option to fill in the blank.

I \_\_\_\_\_ my camera in Surat while getting down the train as there was too much of a rush.

Options :

1. ❌ Lose
2. ✅ Lost
3. ❌ am losing
4. ❌ have lost

Question Number : 61 Question Id : 1626532091 Question Type : MCQ Option Shuffling : Yes Display Question Number : Yes  
Single Line Question Option : No Option Orientation : Vertical

Correct Marks : 1 Wrong Marks : 0.25

Select the most appropriate option to fill in the blank.

I \_\_\_\_\_ my camera in Surat while getting down the train as there was too much of a rush.

Options :

1. ❌ Lose
2. ✅ Lost
3. ❌ am losing
4. ❌ have lost

Question Number : 62 Question Id : 1626532092 Question Type : MCQ Option Shuffling : Yes Display Question Number : Yes  
Single Line Question Option : No Option Orientation : Vertical

Correct Marks : 1 Wrong Marks : 0.25

Select the most appropriate option to fill in the blank.

When I \_\_\_\_\_ at your bookshelf, I found that you have a copy of “Seven Years in Tibet”.

Options :

1. ❌ Look
2. ❌ am looking
3. ❌ was looking
4. ✅ had looked

Question Number : 62 Question Id : 1626532092 Question Type : MCQ Option Shuffling : Yes Display Question Number : Yes  
Single Line Question Option : No Option Orientation : Vertical

Correct Marks : 1 Wrong Marks : 0.25

Select the most appropriate option to fill in the blank.

When I \_\_\_\_\_ at your bookshelf, I found that you have a copy of “Seven Years in Tibet”.

Options :

1. ✖ Look
2. ✖ am looking
3. ✖ was looking
4. ✔ had looked

Question Number : 63 Question Id : 1626532093 Question Type : MCQ Option Shuffling : Yes Display Question Number : Yes  
Single Line Question Option : No Option Orientation : Vertical

Correct Marks : 1 Wrong Marks : 0.25

Select the most appropriate option to fill in the blank.

“\_\_\_\_\_ you stand first in the poetry recitation, we will celebrate in the evening.” I told my granddaughter.

Options :

1. ✖ Even if
2. ✔ If
3. ✖ Whether
4. ✖ Unless

Question Number : 63 Question Id : 1626532093 Question Type : MCQ Option Shuffling : Yes Display Question Number : Yes  
Single Line Question Option : No Option Orientation : Vertical

Correct Marks : 1 Wrong Marks : 0.25

Select the most appropriate option to fill in the blank.

“\_\_\_\_\_ you stand first in the poetry recitation, we will celebrate in the evening.” I told my granddaughter.

Options :

1. ✖ Even if
2. ✔ If
3. ✖ Whether

4. ✖ Unless

Question Number : 64 Question Id : 1626532094 Question Type : MCQ Option Shuffling : Yes Display Question Number : Yes  
Single Line Question Option : No Option Orientation : Vertical

Correct Marks : 1 Wrong Marks : 0.25

Select the most appropriate option to fill in the blank.

The victory of Ibrahim Solih, in the just concluded presidential elections in the Maldives, shows that \_\_\_\_\_ all the fears, the democratic instinct of this small island is alive and well.

Options :

1. ✔ Despite

2. ✖ in case

3. ✖ because of

4. ✖ as a result of

Question Number : 64 Question Id : 1626532094 Question Type : MCQ Option Shuffling : Yes Display Question Number : Yes  
Single Line Question Option : No Option Orientation : Vertical

Correct Marks : 1 Wrong Marks : 0.25

Select the most appropriate option to fill in the blank.

The victory of Ibrahim Solih, in the just concluded presidential elections in the Maldives, shows that \_\_\_\_\_ all the fears, the democratic instinct of this small island is alive and well.

Options :

1. ✔ Despite

2. ✖ in case

3. ✖ because of

4. ✖ as a result of

Question Number : 65 Question Id : 1626532095 Question Type : MCQ Option Shuffling : Yes Display Question Number : Yes  
Single Line Question Option : No Option Orientation : Vertical

Correct Marks : 1 Wrong Marks : 0.25

Select the most appropriate option to fill in the blank.

Water levels \_\_\_\_\_ rivers rose across the North India \_\_\_\_\_ the level in Pong Dam nearing danger mark.

Options :

1. ✖ to ; by

2. ✖ of ; to

3. ✔ in ; with

4. ✖ at ; from

Question Number : 65 Question Id : 1626532095 Question Type : MCQ Option Shuffling : Yes Display Question Number : Yes  
Single Line Question Option : No Option Orientation : Vertical

Correct Marks : 1 Wrong Marks : 0.25

Select the most appropriate option to fill in the blank.

Water levels \_\_\_\_\_ rivers rose across the North India \_\_\_\_\_ the level in Pong Dam nearing danger mark.

Options :

1. ✖ to ; by

2. ✖ of ; to

3. ✔ in ; with

4. ✖ at ; from

Question Number : 66 Question Id : 1626532096 Question Type : MCQ Option Shuffling : Yes Display Question Number : Yes  
Single Line Question Option : No Option Orientation : Vertical

Correct Marks : 1 Wrong Marks : 0.25

Select the most appropriate option to fill in the blank.

Both the Heads of the States agreed \_\_\_\_\_ work together \_\_\_\_\_ strengthen relations \_\_\_\_\_ the two countries.

Options :

1. ✖ to ; for ; among

2. ✔ to ; to ; between

3. ✖ for ; to ; in

4. ✖ with ; for ; of

Question Number : 66 Question Id : 1626532096 Question Type : MCQ Option Shuffling : Yes Display Question Number : Yes  
Single Line Question Option : No Option Orientation : Vertical

Correct Marks : 1 Wrong Marks : 0.25

Select the most appropriate option to fill in the blank.

Both the Heads of the States agreed \_\_\_\_\_ work together \_\_\_\_\_ strengthen relations \_\_\_\_\_ the two countries.

Options :

1. ✖ to ; for ; among
2. ✔ to ; to ; between
3. ✖ for ; to ; in
4. ✖ with ; for ; of

Question Number : 67 Question Id : 1626532097 Question Type : MCQ Option Shuffling : Yes Display Question Number : Yes  
Single Line Question Option : No Option Orientation : Vertical

Correct Marks : 1 Wrong Marks : 0.25

Select the most appropriate option to fill in the blank.

The death rate is the highest since the migration crisis of 2015. One out of every 18 people attempting the passage through the sea has \_\_\_\_\_.

Options :

1. ✖ sunk
2. ✔ Drowned
3. ✖ succeeded
4. ✖ floated

Question Number : 67 Question Id : 1626532097 Question Type : MCQ Option Shuffling : Yes Display Question Number : Yes  
Single Line Question Option : No Option Orientation : Vertical

Correct Marks : 1 Wrong Marks : 0.25

Select the most appropriate option to fill in the blank.

The death rate is the highest since the migration crisis of 2015. One out of every 18 people attempting the passage through the sea has \_\_\_\_\_.

Options :

1. ✖ sunk
2. ✔ Drowned
3. ✖ succeeded



4. ✖ floated

Question Number : 68 Question Id : 1626532098 Question Type : MCQ Option Shuffling : Yes Display Question Number : Yes  
Single Line Question Option : No Option Orientation : Vertical

Correct Marks : 1 Wrong Marks : 0.25

Select the most appropriate option to fill in the blank.

Authorities in the northern African country are catching more and more traffickers who take money to \_\_\_\_\_ refugees to Europe.

Options :

1. ✖ intercept

2. ✖ Surveillance

3. ✔ smuggle

4. ✖ enter

Question Number : 68 Question Id : 1626532098 Question Type : MCQ Option Shuffling : Yes Display Question Number : Yes  
Single Line Question Option : No Option Orientation : Vertical

Correct Marks : 1 Wrong Marks : 0.25

Select the most appropriate option to fill in the blank.

Authorities in the northern African country are catching more and more traffickers who take money to \_\_\_\_\_ refugees to Europe.

Options :

1. ✖ intercept

2. ✖ Surveillance

3. ✔ smuggle

4. ✖ enter

Question Number : 69 Question Id : 1626532099 Question Type : MCQ Option Shuffling : Yes Display Question Number : Yes  
Single Line Question Option : No Option Orientation : Vertical

Correct Marks : 1 Wrong Marks : 0.25

Select the most appropriate synonym of the given word.

HOWEVER

Options :

1. ✖ Because

- 2. ✖ If
- 3. ✖ So
- 4. ✔ But

Question Number : 69 Question Id : 1626532099 Question Type : MCQ Option Shuffling : Yes Display Question Number : Yes  
Single Line Question Option : No Option Orientation : Vertical  
Correct Marks : 1 Wrong Marks : 0.25

Select the most appropriate synonym of the given word.

HOWEVER

Options :

- 1. ✖ Because
- 2. ✖ If
- 3. ✖ So
- 4. ✔ But

Question Number : 70 Question Id : 1626532100 Question Type : MCQ Option Shuffling : Yes Display Question Number : Yes  
Single Line Question Option : No Option Orientation : Vertical  
Correct Marks : 1 Wrong Marks : 0.25

Select the most appropriate synonym of the given word.

AVERT

Options :

- 1. ✖ Continue
- 2. ✔ Prevent
- 3. ✖ persist
- 4. ✖ maintain

Question Number : 70 Question Id : 1626532100 Question Type : MCQ Option Shuffling : Yes Display Question Number : Yes  
Single Line Question Option : No Option Orientation : Vertical  
Correct Marks : 1 Wrong Marks : 0.25

Select the most appropriate synonym of the given word.

AVERT

Options :

1. ✖ Continue
2. ✔ Prevent
3. ✖ persist
4. ✖ maintain

Question Number : 71 Question Id : 1626532101 Question Type : MCQ Option Shuffling : Yes Display Question Number : Yes  
Single Line Question Option : No Option Orientation : Vertical

Correct Marks : 1 Wrong Marks : 0.25

Select the most appropriate antonym of the given word.

SERENE

Options :

1. ✖ Composed
2. ✖ Peaceful
3. ✖ Calm
4. ✔ Agitated

Question Number : 71 Question Id : 1626532101 Question Type : MCQ Option Shuffling : Yes Display Question Number : Yes  
Single Line Question Option : No Option Orientation : Vertical

Correct Marks : 1 Wrong Marks : 0.25

Select the most appropriate antonym of the given word.

SERENE

Options :

1. ✖ Composed
2. ✖ Peaceful
3. ✖ Calm

4. ✓ Agitated

Question Number : 72 Question Id : 1626532102 Question Type : MCQ Option Shuffling : Yes Display Question Number : Yes  
Single Line Question Option : No Option Orientation : Vertical

Correct Marks : 1 Wrong Marks : 0.25

Select the option which is NOT an antonym of another word by way of adding the prefix 'im-'

Options :

1. ✓ Immersion

2. ✗ imperishable

3. ✗ Impartial

4. ✗ Immovable

Question Number : 72 Question Id : 1626532102 Question Type : MCQ Option Shuffling : Yes Display Question Number : Yes  
Single Line Question Option : No Option Orientation : Vertical

Correct Marks : 1 Wrong Marks : 0.25

Select the option which is NOT an antonym of another word by way of adding the prefix 'im-'

Options :

1. ✓ Immersion

2. ✗ imperishable

3. ✗ Impartial

4. ✗ Immovable

Question Number : 73 Question Id : 1626532103 Question Type : MCQ Option Shuffling : Yes Display Question Number : Yes  
Single Line Question Option : No Option Orientation : Vertical

Correct Marks : 1 Wrong Marks : 0.25

Arrange parts of the sentence in meaningful and grammatically correct order.

A. international solo circumnavigation Golden Globe Race,

B. while representing India in the

C. Indian Navy Commander Abhilash Tomy

D. was rescued by a French vessel Osiris

E. three days after he suffered a serious back injury

Options :

1. ✖ EDBAC
2. ✖ ECDBA
3. ✖ EACDB
4. ✔ EBACD

Question Number : 73 Question Id : 1626532103 Question Type : MCQ Option Shuffling : Yes Display Question Number : Yes  
Single Line Question Option : No Option Orientation : Vertical

Correct Marks : 1 Wrong Marks : 0.25

Arrange parts of the sentence in meaningful and grammatically correct order.

- A. international solo circumnavigation Golden Globe Race,
- B. while representing India in the
- C. Indian Navy Commander Abhilash Tomy
- D. was rescued by a French vessel Osiris
- E. three days after he suffered a serious back injury

Options :

1. ✖ EDBAC
2. ✖ ECDBA
3. ✖ EACDB
4. ✔ EBACD

Question Number : 74 Question Id : 1626532104 Question Type : MCQ Option Shuffling : Yes Display Question Number : Yes  
Single Line Question Option : No Option Orientation : Vertical

Correct Marks : 1 Wrong Marks : 0.25

In the following sentence four words/phrases have been underlined. One of them is incorrect. Choose the incorrect word/phrase from the given options.

The fundamentalists and conservative men of Pakistan are against Malala and have organized hate campaigns on the internet because they believe that women does not need education and should maintain their traditional role in the household.

Options :

1. ✖ are against
2. ✖ have organized
3. ✖ on the internet



4. ✓ does not need

Question Number : 74 Question Id : 1626532104 Question Type : MCQ Option Shuffling : Yes Display Question Number : Yes  
Single Line Question Option : No Option Orientation : Vertical

Correct Marks : 1 Wrong Marks : 0.25

In the following sentence four words/phrases have been underlined. One of them is incorrect. Choose the incorrect word/phrase from the given options.

The fundamentalists and conservative men of Pakistan are against Malala and have organized hate campaigns on the internet because they believe that women does not need education and should maintain their traditional role in the household.

Options :

1. ✗ are against

2. ✗ have organized

3. ✗ on the internet

4. ✓ does not need

Question Number : 75 Question Id : 1626532105 Question Type : MCQ Option Shuffling : Yes Display Question Number : Yes  
Single Line Question Option : No Option Orientation : Vertical

Correct Marks : 1 Wrong Marks : 0.25

From the options given below choose the sentence that is not correct.

Options :

1. ✗ Australia attracts hundreds of thousands of immigrants every year.

2. ✗

In the last two decades most of Australia's newcomers have come from India, China, Great Britain and the Philippines.

3. ✓ Today, over one third of Australia's population were not born in the country.

4. ✗

The Bureau of Statistics estimates that Australia will add another million to its population in three years time.

Question Number : 75 Question Id : 1626532105 Question Type : MCQ Option Shuffling : Yes Display Question Number : Yes  
Single Line Question Option : No Option Orientation : Vertical

Correct Marks : 1 Wrong Marks : 0.25

From the options given below choose the sentence that is not correct.

Options :

1. ✗ Australia attracts hundreds of thousands of immigrants every year.

2. ✗

In the last two decades most of Australia's newcomers have come from India, China, Great Britain and the Philippines.



3. ✓ Today, over one third of Australia's population were not born in the country.

4. ✖ The Bureau of Statistics estimates that Australia will add another million to its population in three years time.

Sub-Section Number:	2
Sub-Section Id:	162653137
Question Shuffling Allowed :	Yes

Question Id : 1626532106 Question Type : COMPREHENSION Sub Question Shuffling Allowed : Yes Group Comprehension Questions : No

Question Numbers : (76 to 80)

Question Label : Comprehension

Read the following passage and answer the questions given after it.

Happiness has come to be accepted as a goal of public policy. And this discourse has given a fillip to a new narrative where the interconnections between law, governance and happiness are being searched. Why do these connections matter? Experiences from several nations confirm that the countries with higher GDP and higher per capita income are not necessarily the happiest countries and there exists a link between the state of happiness and rule of law.

The World Happiness Report (WHR) 2018, which ranked 156 countries, placed India at the 133rd place on the index of global happiness. While India's performance on this can be attributed to several factors, there's no denying the fact that there is an intrinsic relationship between law and people's happiness. The WHRs, over the years, confirmed that people tend to have poor mental health, a low score of subjective well-being and poor perception about the governance and law and order, despite high income levels.

The curious question in this discourse is how the law is linked with happiness. In an environment in which laws are gradually becoming reactive, regulatory and penalising, this question needs some probing.

Jeremy Bentham said the object of the law should be the maximum happiness of the maximum number. Going by popular perceptions, laws and legal regimes are the distributors of unhappiness in many ways. We have about 3.3 crore cases pending in various courts in the country. How does unhappiness emanate from these cases? Each case is not a mere number — it involves tension, anxiety and deprivation to all those associated with it. A group of people — family members, relatives, friends and others of the parties involved — are necessarily affected because of such cases. If we presume that there are about 20 persons in each case belonging to one or the other parties, we get a number of about 64 crore. Interestingly, none of them would be in a state of happiness on account of being linked to the case. Inevitably, the criminal justice administration for these people is a source of unhappiness.

Moreover, not more than 30 per cent people approach the courts in India. There is a visible decline in civil litigation, which suggests that a large number of people in the country are living with unresolved conflicts. This too dents the state of happiness in general.

## Sub questions

Question Number : 76 Question Id : 1626532107 Question Type : MCQ Option Shuffling : Yes Display Question Number : Yes  
Single Line Question Option : No Option Orientation : Vertical

Correct Marks : 1 Wrong Marks : 0.25

After reading this passage it can be inferred that this passage is:

Options :

1. ✖ Sarcastic
2. ✔ argumentative
3. ✖ Emotional
4. ✖ Dogmatic

Question Number : 77 Question Id : 1626532108 Question Type : MCQ Option Shuffling : Yes Display Question Number : Yes  
Single Line Question Option : No Option Orientation : Vertical

Correct Marks : 1 Wrong Marks : 0.25

The author is trying to prove that:

Options :

1. ✖ laws in our country are becoming more regulatory and penalizing.
2. ✖ many people in India abstain from going to courts.
3. ✖ law of the rule does not affect happiness of the people.
4. ✔ there is a relationship between law, governance and happiness.

Question Number : 78 Question Id : 1626532109 Question Type : MCQ Option Shuffling : Yes Display Question Number : Yes  
Single Line Question Option : No Option Orientation : Vertical

Correct Marks : 1 Wrong Marks : 0.25

Match the words with their meaning.

- |                |               |
|----------------|---------------|
| a. emanate     | 1. discussion |
| b. deprivation | 2. spring     |
| c. discourse   | 3. denial     |

Options :

1. ✖ a-2, b-1, c-3

2. ✔ a-2, b-3, c-1

3. ✖ a-3, b-1, c-2

4. ✖ a-1, b-3, c-2

Question Number : 79 Question Id : 1626532110 Question Type : MCQ Option Shuffling : Yes Display Question Number : Yes  
Single Line Question Option : No Option Orientation : Vertical

Correct Marks : 1 Wrong Marks : 0.25

What is the effect of pending court cases on people in India?

Options :

1. ✖ People are not bothered about them.

2. ✖ People blame each other for such cases.

3. ✖ People fight with each other.

4. ✔ People get tension and anxiety.

Question Number : 80 Question Id : 1626532111 Question Type : MCQ Option Shuffling : Yes Display Question Number : Yes  
Single Line Question Option : No Option Orientation : Vertical

Correct Marks : 1 Wrong Marks : 0.25

Which statement is NOT true according to the passage?

Options :

1. ✖ We have about 3.3 crore cases pending in various courts in the country.

2. ✖ Each case involves tension, anxiety and deprivation to all those associated with it.

3. ✔ More than 30 per cent people approach the courts in India.

4. ✖ The World Happiness Report (WHR) 2018, has placed India at the 133rd place on the index of global happiness out of 156 countries.

**Question Id : 1626532106 Question Type : COMPREHENSION Sub Question Shuffling Allowed : Yes Group Comprehension Questions : No**

**Question Numbers : (76 to 80)**

**Question Label : Comprehension**



Read the following passage and answer the questions given after it.

Happiness has come to be accepted as a goal of public policy. And this discourse has given a fillip to a new narrative where the interconnections between law, governance and happiness are being searched. Why do these connections matter? Experiences from several nations confirm that the countries with higher GDP and higher per capita income are not necessarily the happiest countries and there exists a link between the state of happiness and rule of law.

The World Happiness Report (WHR) 2018, which ranked 156 countries, placed India at the 133rd place on the index of global happiness. While India's performance on this can be attributed to several factors, there's no denying the fact that there is an intrinsic relationship between law and people's happiness. The WHRs, over the years, confirmed that people tend to have poor mental health, a low score of subjective well-being and poor perception about the governance and law and order, despite high income levels.

The curious question in this discourse is how the law is linked with happiness. In an environment in which laws are gradually becoming reactive, regulatory and penalising, this question needs some probing.

Jeremy Bentham said the object of the law should be the maximum happiness of the maximum number. Going by popular perceptions, laws and legal regimes are the distributors of unhappiness in many ways. We have about 3.3 crore cases pending in various courts in the country. How does unhappiness emanate from these cases? Each case is not a mere number — it involves tension, anxiety and deprivation to all those associated with it. A group of people — family members, relatives, friends and others of the parties involved — are necessarily affected because of such cases. If we presume that there are about 20 persons in each case belonging to one or the other parties, we get a number of about 64 crore. Interestingly, none of them would be in a state of happiness on account of being linked to the case. Inevitably, the criminal justice administration for these people is a source of unhappiness.

Moreover, not more than 30 per cent people approach the courts in India. There is a visible decline in civil litigation, which suggests that a large number of people in the country are living with unresolved conflicts. This too dents the state of happiness in general.



## Sub questions

Question Number : 76 Question Id : 1626532107 Question Type : MCQ Option Shuffling : Yes Display Question Number : Yes  
Single Line Question Option : No Option Orientation : Vertical

Correct Marks : 1 Wrong Marks : 0.25

After reading this passage it can be inferred that this passage is:

Options :

1. ✖ Sarcastic
2. ✔ argumentative
3. ✖ Emotional
4. ✖ Dogmatic

Question Number : 77 Question Id : 1626532108 Question Type : MCQ Option Shuffling : Yes Display Question Number : Yes  
Single Line Question Option : No Option Orientation : Vertical

Correct Marks : 1 Wrong Marks : 0.25

The author is trying to prove that:

Options :

1. ✖ laws in our country are becoming more regulatory and penalizing.
2. ✖ many people in India abstain from going to courts.
3. ✖ law of the rule does not affect happiness of the people.
4. ✔ there is a relationship between law, governance and happiness.

Question Number : 78 Question Id : 1626532109 Question Type : MCQ Option Shuffling : Yes Display Question Number : Yes  
Single Line Question Option : No Option Orientation : Vertical

Correct Marks : 1 Wrong Marks : 0.25

Match the words with their meaning.

- |                |               |
|----------------|---------------|
| a. emanate     | 1. discussion |
| b. deprivation | 2. spring     |
| c. discourse   | 3. denial     |

Options :

1. ✖ a-2, b-1, c-3

2. ✔ a-2, b-3, c-1

3. ✖ a-3, b-1, c-2

4. ✖ a-1, b-3, c-2

Question Number : 79 Question Id : 1626532110 Question Type : MCQ Option Shuffling : Yes Display Question Number : Yes  
Single Line Question Option : No Option Orientation : Vertical

Correct Marks : 1 Wrong Marks : 0.25

What is the effect of pending court cases on people in India?

Options :

1. ✖ People are not bothered about them.

2. ✖ People blame each other for such cases.

3. ✖ People fight with each other.

4. ✔ People get tension and anxiety.

Question Number : 80 Question Id : 1626532111 Question Type : MCQ Option Shuffling : Yes Display Question Number : Yes  
Single Line Question Option : No Option Orientation : Vertical

Correct Marks : 1 Wrong Marks : 0.25

Which statement is NOT true according to the passage?

Options :

1. ✖ We have about 3.3 crore cases pending in various courts in the country.

2. ✖ Each case involves tension, anxiety and deprivation to all those associated with it.

3. ✔ More than 30 per cent people approach the courts in India.

4. ✖ The World Happiness Report (WHR) 2018, has placed India at the 133rd place on the index of global happiness out of 156 countries.

General Hindi

Group Number :	5
Group Id :	162653105
Group Maximum Duration :	0
Group Minimum Duration :	0
Revisit allowed for view? :	No
Revisit allowed for edit? :	No
Break time:	0
Group Marks:	20
Revisit allowed for group Instructions? :	Yes
Maximum Instruction Time:	0
Minimum Instruction Time:	0

General Hindi

Section Id :	162653105
Section Number :	1
Section type :	Online
Mandatory or Optional:	Mandatory
Number of Questions:	16
Number of Questions to be attempted:	16
Section Marks:	20
Display Number Panel:	Yes
Group All Questions:	No

Sub-Section Number:	1
Sub-Section Id:	162653138
Question Shuffling Allowed :	Yes

Question Id : 1626532112 Question Type : COMPREHENSION Sub Question Shuffling Allowed : Yes Group Comprehension Questions : No  
Question Numbers : (81 to 85)  
Question Label : Comprehension

नीचे दिये गए गद्यांश को पढ़कर पूछे गये प्रश्नों के उत्तर दीजिए।

हिन्दी नाटक को एक नया मोड़ श्री लक्ष्मीनारायण मिश्र ने मुक्ति का रहस्य (1932) और सिंदूर की होली (1934) लिखकर दिया। दोनों समस्या नाटक हैं। समस्या नाटक से तात्पर्य ठेठ समकालीन जीवन की समस्याओं से है जो बहुत कुछ व्यक्ति के मनोजगत् से सम्बद्ध है। इनमें भावुकता से भरसक बचा गया था। इस दौर में एकांकी नाटकों का प्रचलन बढ़ा। शुक्ल जी ने लिखा है कि एकांकी भारतीय साहित्य में कोई नई विधा नहीं है। एकांकी में समय की बचत होती है और कथ्य को अधिक धारदार ढंग से प्रस्तुत किया जा सकता है। प्रसाद के एक घूँट को अनेक विचारकों ने एकांकी कहा है।

Sub questions

Question Number : 81 Question Id : 1626532113 Question Type : MCQ Option Shuffling : Yes Display Question Number : Yes  
Single Line Question Option : No Option Orientation : Vertical

Correct Marks : 1 Wrong Marks : 0.25

हिन्दी नाटक को नया मोड़ किसने प्रदान किया?

Options :

1. ✖ लक्ष्मीनारायण लाल
2. ✔ लक्ष्मीनारायण मिश्र
3. ✖ रामकुमार वर्मा
4. ✖ भुवनेश्वर

Question Number : 82 Question Id : 1626532114 Question Type : MCQ Option Shuffling : Yes Display Question Number : Yes  
Single Line Question Option : No Option Orientation : Vertical

Correct Marks : 1 Wrong Marks : 0.25

लक्ष्मीनारायण मिश्र के नाटक हैं-

Options :

1. ✖ ऐतिहासिक नाटक

2. ✖ पौराणिक नाटक

3. ✔ समस्या नाटक

4. ✖ काव्य नाटक

Question Number : 83 Question Id : 1626532115 Question Type : MCQ Option Shuffling : Yes Display Question Number : Yes  
Single Line Question Option : No Option Orientation : Vertical

Correct Marks : 1 Wrong Marks : 0.25

सिन्दूर की होली का प्रकाशन वर्ष क्या है?

Options :

1. ✖ 1928

2. ✖ 1930

3. ✖ 1932

4. ✔ 1934

Question Number : 84 Question Id : 1626532116 Question Type : MCQ Option Shuffling : Yes Display Question Number : Yes  
Single Line Question Option : No Option Orientation : Vertical

Correct Marks : 1 Wrong Marks : 0.25

गद्यांश में किस आलोचक का मन्तव्य उद्धृत है?

Options :

1. ✔ शुक्ल जी

2. ✖ द्विवेदी जी

3. ✖ जयशंकर प्रसाद

4. ✖ रामविलास शर्मा

Question Number : 85 Question Id : 1626532117 Question Type : MCQ Option Shuffling : Yes Display Question Number : Yes  
Single Line Question Option : No Option Orientation : Vertical

Correct Marks : 1 Wrong Marks : 0.25

एक घूँट किसकी रचना है-

Options :

1. ✖ लक्ष्मीनारायण मिश्र



2. ✖ शुक्ल जी

3. ✔ जयशंकर प्रसाद

4. ✖ निराला

Question Id : 1626532112 Question Type : COMPREHENSION Sub Question Shuffling Allowed : Yes Group Comprehension Questions : No

Question Numbers : (81 to 85)

Question Label : Comprehension

नीचे दिये गए गद्यांश को पढ़कर पूछे गये प्रश्नों के उत्तर दीजिए।

हिन्दी नाटक को एक नया मोड़ श्री लक्ष्मीनारायण मिश्र ने मुक्ति का रहस्य (1932) और सिंदूर की होली (1934) लिखकर दिया। दोनों समस्या नाटक हैं। समस्या नाटक से तात्पर्य ठेठ समकालीन जीवन की समस्याओं से है जो बहुत कुछ व्यक्ति के मनोजगत् से सम्बद्ध है। इनमें भावुकता से भरसक बचा गया था। इस दौर में एकांकी नाटकों का प्रचलन बढ़ा। शुक्ल जी ने लिखा है कि एकांकी भारतीय साहित्य में कोई नई विधा नहीं है। एकांकी में समय की बचत होती है और कथ्य को अधिक धारदार ढंग से प्रस्तुत किया जा सकता है। प्रसाद के एक घूंट को अनेक विचारकों ने एकांकी कहा है।

Sub questions

Question Number : 81 Question Id : 1626532113 Question Type : MCQ Option Shuffling : Yes Display Question Number : Yes Single Line Question Option : No Option Orientation : Vertical

Correct Marks : 1 Wrong Marks : 0.25

हिन्दी नाटक को नया मोड़ किसने प्रदान किया?

Options :

1. ✖ लक्ष्मीनारायण लाल

2. ✔ लक्ष्मीनारायण मिश्र

3. ✖ रामकुमार वर्मा



4. ✖ भुवनेश्वर

Question Number : 82 Question Id : 1626532114 Question Type : MCQ Option Shuffling : Yes Display Question Number : Yes  
Single Line Question Option : No Option Orientation : Vertical

Correct Marks : 1 Wrong Marks : 0.25

लक्ष्मीनारायण मिश्र के नाटक हैं-

Options :

1. ✖ ऐतिहासिक नाटक

2. ✖ पौराणिक नाटक

3. ✔ समस्या नाटक

4. ✖ काव्य नाटक

Question Number : 83 Question Id : 1626532115 Question Type : MCQ Option Shuffling : Yes Display Question Number : Yes  
Single Line Question Option : No Option Orientation : Vertical

Correct Marks : 1 Wrong Marks : 0.25

सिन्दूर की होली का प्रकाशन वर्ष क्या है?

Options :

1. ✖ 1928

2. ✖ 1930

3. ✖ 1932

4. ✔ 1934

Question Number : 84 Question Id : 1626532116 Question Type : MCQ Option Shuffling : Yes Display Question Number : Yes  
Single Line Question Option : No Option Orientation : Vertical

Correct Marks : 1 Wrong Marks : 0.25

गद्यांश में किस आलोचक का मन्तव्य उद्धृत है?

Options :

1. ✔ शुक्ल जी

2. ✖ द्विवेदी जी

3. ✖ जयशंकर प्रसाद

4. ✖ रामविलास शर्मा

Question Number : 85 Question Id : 1626532117 Question Type : MCQ Option Shuffling : Yes Display Question Number : Yes  
Single Line Question Option : No Option Orientation : Vertical

Correct Marks : 1 Wrong Marks : 0.25

एक घूँट किसकी रचना है-

Options :

1. ✖ लक्ष्मीनारायण मिश्र

2. ✖ शुक्ल जी

3. ✔ जयशंकर प्रसाद

4. ✖ निराला

Sub-Section Number: 2  
Sub-Section Id: 162653139  
Question Shuffling Allowed : Yes

Question Number : 86 Question Id : 1626532118 Question Type : MCQ Option Shuffling : Yes Display Question Number : Yes  
Single Line Question Option : No Option Orientation : Vertical

Correct Marks : 1 Wrong Marks : 0.25

निम्न में कौन सा शब्द तत्सम है?

Options :

1. ✖ तुझ

2. ✔ तीक्ष्ण

3. ✖ तीसरा

4. ✖ तिरछा

Question Number : 86 Question Id : 1626532118 Question Type : MCQ Option Shuffling : Yes Display Question Number : Yes  
Single Line Question Option : No Option Orientation : Vertical

Correct Marks : 1 Wrong Marks : 0.25

निम्न में कौन सा शब्द तत्सम है?

Options :

1. ✖ तुझ

2. ✓ तीक्ष्ण

3. ✗ तीसरा

4. ✗ तिरछा

Question Number : 87 Question Id : 1626532119 Question Type : MCQ Option Shuffling : Yes Display Question Number : Yes  
Single Line Question Option : No Option Orientation : Vertical

Correct Marks : 1 Wrong Marks : 0.25

निम्न में कौन सा शब्द तद्भव है?

Options :

1. ✗ घात

2. ✗ चर्वण

3. ✗ चंद्रिका

4. ✓ घड़ी

Question Number : 87 Question Id : 1626532119 Question Type : MCQ Option Shuffling : Yes Display Question Number : Yes  
Single Line Question Option : No Option Orientation : Vertical

Correct Marks : 1 Wrong Marks : 0.25

निम्न में कौन सा शब्द तद्भव है?

Options :

1. ✗ घात

2. ✗ चर्वण

3. ✗ चंद्रिका

4. ✓ घड़ी

Question Number : 88 Question Id : 1626532120 Question Type : MCQ Option Shuffling : Yes Display Question Number : Yes  
Single Line Question Option : No Option Orientation : Vertical

Correct Marks : 1 Wrong Marks : 0.25

निम्न में कौन सा शब्द देशज है?

Options :

1. ✓ डिबिया

2. ✖ किनारा

3. ✖ इस्तीफा

4. ✖ गजट

Question Number : 88 Question Id : 1626532120 Question Type : MCQ Option Shuffling : Yes Display Question Number : Yes  
Single Line Question Option : No Option Orientation : Vertical

Correct Marks : 1 Wrong Marks : 0.25

निम्न में कौन सा शब्द देशज है?

Options :

1. ✔ डिबिया

2. ✖ किनारा

3. ✖ इस्तीफा

4. ✖ गजट

Question Number : 89 Question Id : 1626532121 Question Type : MCQ Option Shuffling : Yes Display Question Number : Yes  
Single Line Question Option : No Option Orientation : Vertical

Correct Marks : 1 Wrong Marks : 0.25

‘बड़प्पन’ किस प्रकार की संज्ञा है?

Options :

1. ✖ जातिवाचक

2. ✖ व्यक्तिवाचक

3. ✔ भाववाचक

4. ✖ पदार्थवाचक

Question Number : 89 Question Id : 1626532121 Question Type : MCQ Option Shuffling : Yes Display Question Number : Yes  
Single Line Question Option : No Option Orientation : Vertical

Correct Marks : 1 Wrong Marks : 0.25

‘बड़प्पन’ किस प्रकार की संज्ञा है?

Options :

1. ✖ जातिवाचक

2. ✖ व्यक्तिवाचक

3. ✔ भाववाचक

4. ✖ पदार्थवाचक

Question Number : 90 Question Id : 1626532122 Question Type : MCQ Option Shuffling : Yes Display Question Number : Yes  
Single Line Question Option : No Option Orientation : Vertical

Correct Marks : 1 Wrong Marks : 0.25

‘दुबला’ किस प्रकार का विशेषण है?

Options :

1. ✔ गुणवाचक

2. ✖ परिमाण बोधक

3. ✖ संख्यावाचक

4. ✖ सार्वनामिक

Question Number : 90 Question Id : 1626532122 Question Type : MCQ Option Shuffling : Yes Display Question Number : Yes  
Single Line Question Option : No Option Orientation : Vertical

Correct Marks : 1 Wrong Marks : 0.25

‘दुबला’ किस प्रकार का विशेषण है?

Options :

1. ✔ गुणवाचक

2. ✖ परिमाण बोधक

3. ✖ संख्यावाचक

4. ✖ सार्वनामिक

Question Number : 91 Question Id : 1626532123 Question Type : MCQ Option Shuffling : Yes Display Question Number : Yes  
Single Line Question Option : No Option Orientation : Vertical

Correct Marks : 1 Wrong Marks : 0.25

‘उन्माद’ का संधि विच्छेद होगा-

Options :

1. ✖ उन् + मद



2. ✖ उन् + माद

3. ✖ उत् + मद

4. ✔ उत् + माद

Question Number : 91 Question Id : 1626532123 Question Type : MCQ Option Shuffling : Yes Display Question Number : Yes  
Single Line Question Option : No Option Orientation : Vertical

Correct Marks : 1 Wrong Marks : 0.25

‘उन्माद’ का संधि विच्छेद होगा-

Options :

1. ✖ उन् + मद

2. ✖ उन् + माद

3. ✖ उत् + मद

4. ✔ उत् + माद

Question Number : 92 Question Id : 1626532124 Question Type : MCQ Option Shuffling : Yes Display Question Number : Yes  
Single Line Question Option : No Option Orientation : Vertical

Correct Marks : 1 Wrong Marks : 0.25

‘कामचोर’ में कौन सा समास है?

Options :

1. ✖ अव्ययीभाव

2. ✔ बहुब्रीहि

3. ✖ द्विगु

4. ✖ द्वंद्व

Question Number : 92 Question Id : 1626532124 Question Type : MCQ Option Shuffling : Yes Display Question Number : Yes  
Single Line Question Option : No Option Orientation : Vertical

Correct Marks : 1 Wrong Marks : 0.25

‘कामचोर’ में कौन सा समास है?

Options :

1. ✖ अव्ययीभाव

2. ✓ बहुब्रीहि

3. ✗ द्विगु

4. ✗ द्वांद्व

Question Number : 93 Question Id : 1626532125 Question Type : MCQ Option Shuffling : Yes Display Question Number : Yes  
Single Line Question Option : No Option Orientation : Vertical

Correct Marks : 1 Wrong Marks : 0.25

निम्न में से कौन सा शब्द पुलिङ्ग नहीं है?

Options :

1. ✓ समस्या

2. ✗ साक्ष्य

3. ✗ साधन

4. ✗ साया

Question Number : 93 Question Id : 1626532125 Question Type : MCQ Option Shuffling : Yes Display Question Number : Yes  
Single Line Question Option : No Option Orientation : Vertical

Correct Marks : 1 Wrong Marks : 0.25

निम्न में से कौन सा शब्द पुलिङ्ग नहीं है?

Options :

1. ✓ समस्या

2. ✗ साक्ष्य

3. ✗ साधन

4. ✗ साया

Question Number : 94 Question Id : 1626532126 Question Type : MCQ Option Shuffling : Yes Display Question Number : Yes  
Single Line Question Option : No Option Orientation : Vertical

Correct Marks : 1 Wrong Marks : 0.25

‘विवाद’ में उपसर्ग है?

Options :

1. ✗ द

2. ✖ वाद

3. ✔ वि

4. ✖ व

Question Number : 94 Question Id : 1626532126 Question Type : MCQ Option Shuffling : Yes Display Question Number : Yes  
Single Line Question Option : No Option Orientation : Vertical

Correct Marks : 1 Wrong Marks : 0.25

‘विवाद’ में उपसर्ग है?

Options :

1. ✖ द

2. ✖ वाद

3. ✔ वि

4. ✖ व

Question Number : 95 Question Id : 1626532127 Question Type : MCQ Option Shuffling : Yes Display Question Number : Yes  
Single Line Question Option : No Option Orientation : Vertical

Correct Marks : 1 Wrong Marks : 0.25

‘धनवान्’ में प्रत्यय है-

Options :

1. ✖ वन्

2. ✔ वान्

3. ✖ अन्

4. ✖ आन्

Question Number : 95 Question Id : 1626532127 Question Type : MCQ Option Shuffling : Yes Display Question Number : Yes  
Single Line Question Option : No Option Orientation : Vertical

Correct Marks : 1 Wrong Marks : 0.25

‘धनवान्’ में प्रत्यय है-

Options :

1. ✖ वन्

2. ✔ वान्

3. ✖ अन्

4. ✖ आन्

Question Number : 96 Question Id : 1626532128 Question Type : MCQ Option Shuffling : Yes Display Question Number : Yes  
Single Line Question Option : No Option Orientation : Vertical

Correct Marks : 1 Wrong Marks : 0.25

‘मुनि’ का पर्यायवाची नहीं है-

Options :

1. ✖ तापस

2. ✖ यति

3. ✖ अवधूत

4. ✔ भूप

Question Number : 96 Question Id : 1626532128 Question Type : MCQ Option Shuffling : Yes Display Question Number : Yes  
Single Line Question Option : No Option Orientation : Vertical

Correct Marks : 1 Wrong Marks : 0.25

‘मुनि’ का पर्यायवाची नहीं है-

Options :

1. ✖ तापस

2. ✖ यति

3. ✖ अवधूत

4. ✔ भूप

Question Number : 97 Question Id : 1626532129 Question Type : MCQ Option Shuffling : Yes Display Question Number : Yes  
Single Line Question Option : No Option Orientation : Vertical

Correct Marks : 1 Wrong Marks : 0.25

‘इष्ट’ का विलोम होगा-

Options :

1. ✖ निष्ट

2. ✖ अभीष्ट

3. ✓ अनिष्ट

4. ✗ वांछि

Question Number : 97 Question Id : 1626532129 Question Type : MCQ Option Shuffling : Yes Display Question Number : Yes  
Single Line Question Option : No Option Orientation : Vertical

Correct Marks : 1 Wrong Marks : 0.25

‘इष्ट’ का विलोम होगा-

Options :

1. ✗ निष्ट

2. ✗ अभीष्ट

3. ✓ अनिष्ट

4. ✗ वांछि

Question Number : 98 Question Id : 1626532130 Question Type : MCQ Option Shuffling : Yes Display Question Number : Yes  
Single Line Question Option : No Option Orientation : Vertical

Correct Marks : 1 Wrong Marks : 0.25

‘जिसपर आक्रमण न किया गया हो’ के लिए एक शब्द होगा-

Options :

1. ✓ अनाक्रांत

2. ✗ आक्रांत

3. ✗ क्रांत

4. ✗ स्वयंभू

Question Number : 98 Question Id : 1626532130 Question Type : MCQ Option Shuffling : Yes Display Question Number : Yes  
Single Line Question Option : No Option Orientation : Vertical

Correct Marks : 1 Wrong Marks : 0.25

‘जिसपर आक्रमण न किया गया हो’ के लिए एक शब्द होगा-

Options :

1. ✓ अनाक्रांत

2. ✗ आक्रांत



3. ✖ क्रांत

4. ✖ स्वयंभू

Question Number : 99 Question Id : 1626532131 Question Type : MCQ Option Shuffling : Yes Display Question Number : Yes  
Single Line Question Option : No Option Orientation : Vertical

Correct Marks : 1 Wrong Marks : 0.25

‘तुम मुझे नाराज हो।’ वाक्य में अशुद्ध अंश है-

Options :

1. ✖ तुम

2. ✔ मुझे

3. ✖ नाराज

4. ✖ हो

Question Number : 99 Question Id : 1626532131 Question Type : MCQ Option Shuffling : Yes Display Question Number : Yes  
Single Line Question Option : No Option Orientation : Vertical

Correct Marks : 1 Wrong Marks : 0.25

‘तुम मुझे नाराज हो।’ वाक्य में अशुद्ध अंश है-

Options :

1. ✖ तुम

2. ✔ मुझे

3. ✖ नाराज

4. ✖ हो

Question Number : 100 Question Id : 1626532132 Question Type : MCQ Option Shuffling : Yes Display Question Number : Yes  
Single Line Question Option : No Option Orientation : Vertical

Correct Marks : 1 Wrong Marks : 0.25

निम्न में वर्तनी की दृष्टि से शुद्ध शब्द कौन सा है?

Options :

1. ✖ सहित्यिक

2. ✖ साहित्यिक
3. ✖ साहित्यीक
4. ✔ साहित्यिक

Question Number : 100 Question Id : 1626532132 Question Type : MCQ Option Shuffling : Yes Display Question Number : Yes  
 Single Line Question Option : No Option Orientation : Vertical  
 Correct Marks : 1 Wrong Marks : 0.25

निम्न में वर्तनी की दृष्टि से शुद्ध शब्द कौन सा है?

Options :

1. ✖ सहित्यिक
2. ✖ साहित्यिक
3. ✖ साहित्यीक
4. ✔ साहित्यिक

#### Subject Related

Group Number :	6
Group Id :	162653106
Group Maximum Duration :	0
Group Minimum Duration :	0
Revisit allowed for view? :	No
Revisit allowed for edit? :	No
Break time:	0
Group Marks:	20
Revisit allowed for group Instructions? :	Yes
Maximum Instruction Time:	0
Minimum Instruction Time:	0

#### Subject Related

Section Id :	162653106
Section Number :	1
Section type :	Online
Mandatory or Optional:	Mandatory
Number of Questions:	20
Number of Questions to be attempted:	20
Section Marks:	20
Display Number Panel:	Yes

Group All Questions:

No

Sub-Section Number:

1

Sub-Section Id:

162653140

Question Shuffling Allowed :

Yes

Question Number : 101 Question Id : 1626532133 Question Type : MCQ Option Shuffling : Yes Display Question Number : Yes  
Single Line Question Option : No Option Orientation : Vertical

Correct Marks : 1 Wrong Marks : 0.25

Attachment theory: "secure base" (a person who provides comfort and safety and allows the baby to explore the environment) is called as:

Options :

1. ✖ Sensitive period
2. ✖ Critical period
3. ✔ Bowlby term
4. ✖ Erickson

Question Number : 101 Question Id : 1626532133 Question Type : MCQ Option Shuffling : Yes Display Question Number : Yes  
Single Line Question Option : No Option Orientation : Vertical

Correct Marks : 1 Wrong Marks : 0.25

आसक्ति सिद्धांत: "सुरक्षित आधार" (एक व्यक्ति जो बच्चे को आराम और सुरक्षा प्रदान करता है और पर्यावरण को समझने का अवसर देता है) को \_\_\_\_\_ कहा जाता है।

Options :

1. ✖ संवेदनशील अवधि
2. ✖ महत्वपूर्ण अवधि
3. ✔ बोलबी काल
4. ✖ एरिकसन

Question Number : 102 Question Id : 1626532134 Question Type : MCQ Option Shuffling : Yes Display Question Number : Yes  
Single Line Question Option : No Option Orientation : Vertical

Correct Marks : 1 Wrong Marks : 0.25

The primacy of National Curriculum Framework in curriculum development and reform is:

Options :

1. ✔ to make curriculum inclusive and meaningful to children

2. ✖ to make children thorough with the textbook
3. ✖ teacher-centered learning
4. ✖ to focus on socialisation of children

Question Number : 102 Question Id : 1626532134 Question Type : MCQ Option Shuffling : Yes Display Question Number : Yes  
Single Line Question Option : No Option Orientation : Vertical

Correct Marks : 1 Wrong Marks : 0.25

पाठ्यचर्या विकास और सुधार में 'राष्ट्रीय पाठ्यचर्या की रूपरेखा' की क्या प्राथमिकता है?

Options :

1. ✔ बच्चों के लिए पाठ्यचर्या समावेशी और सार्थक बनाना
2. ✖ बच्चों को पाठ्यपुस्तक के साथ पूरी तरह से परिचित बनाना
3. ✖ शिक्षक-केंद्रित शिक्षा
4. ✖ बच्चों के समाजीकरण पर ध्यान केंद्रित करना

Question Number : 103 Question Id : 1626532135 Question Type : MCQ Option Shuffling : Yes Display Question Number : Yes  
Single Line Question Option : No Option Orientation : Vertical

Correct Marks : 1 Wrong Marks : 0.25

The Indian system of education believes that education is:

Options :

1. ✖ training of human soul in pursuit of truth
2. ✔ acquiring knowledge
3. ✖ a school for citizenship
4. ✖ a means to earning a living

Question Number : 103 Question Id : 1626532135 Question Type : MCQ Option Shuffling : Yes Display Question Number : Yes  
Single Line Question Option : No Option Orientation : Vertical

Correct Marks : 1 Wrong Marks : 0.25

भारतीय शिक्षा प्रणाली के अनुसार, शिक्षा क्या है?

Options :

1. ✖ सत्य की खोज में मानव आत्मा का प्रशिक्षण

2. ✓ ज्ञान प्राप्त करना
3. ✗ नागरिकता की पाठशाला
4. ✗ जीविका का एक साधन

Question Number : 104 Question Id : 1626532136 Question Type : MCQ Option Shuffling : Yes Display Question Number : Yes  
Single Line Question Option : No Option Orientation : Vertical

Correct Marks : 1 Wrong Marks : 0.25

Name the theorist who stated that cognitive development is a process which occurs due to biological maturation and interaction with the environment.

Options :

1. ✗ Vygotsky
2. ✓ Piaget
3. ✗ Thorndike
4. ✗ Grossman

Question Number : 104 Question Id : 1626532136 Question Type : MCQ Option Shuffling : Yes Display Question Number : Yes  
Single Line Question Option : No Option Orientation : Vertical

Correct Marks : 1 Wrong Marks : 0.25

उस सिद्धांतकार या विचारक का नाम बताएँ जिन्होंने कहा कि संज्ञानात्मक विकास एक ऐसी प्रक्रिया है जो जैविक परिपक्वता और पर्यावरण के साथ आपसी विमर्श के कारण होती है।

Options :

1. ✗ वाईगोत्स्की
2. ✓ पियाजे
3. ✗ थॉर्नडाइक
4. ✗ ग्रॉसमैन

Question Number : 105 Question Id : 1626532137 Question Type : MCQ Option Shuffling : Yes Display Question Number : Yes  
Single Line Question Option : No Option Orientation : Vertical

Correct Marks : 1 Wrong Marks : 0.25

Since some grapes are purple, and all grapes are fruit, some fruits are purple. This type of reasoning is called:

Options :

1. ✓ deductive reasoning



2. ✖ inductive reasoning
3. ✖ analogical reasoning
4. ✖ hypothetical reasoning

Question Number : 105 Question Id : 1626532137 Question Type : MCQ Option Shuffling : Yes Display Question Number : Yes  
Single Line Question Option : No Option Orientation : Vertical

Correct Marks : 1 Wrong Marks : 0.25

चूँकि कुछ अंगूर बैंगनी हैं, और सभी अंगूर फल हैं, इसलिए कुछ फल बैंगनी होते हैं। इस प्रकार के तर्क को क्या कहा जाता है?

Options :

1. ✔ निगमनात्मक तर्क
2. ✖ आगमनात्मक तर्क
3. ✖ सादृश्यमूलक तर्क
4. ✖ काल्पनिक तर्क

Question Number : 106 Question Id : 1626532138 Question Type : MCQ Option Shuffling : Yes Display Question Number : Yes  
Single Line Question Option : No Option Orientation : Vertical

Correct Marks : 1 Wrong Marks : 0.25

The proponent of psycho-social theory of development is:

Options :

1. ✖ Skinner
2. ✖ Binet
3. ✖ Thorndike
4. ✔ Erikson

Question Number : 106 Question Id : 1626532138 Question Type : MCQ Option Shuffling : Yes Display Question Number : Yes  
Single Line Question Option : No Option Orientation : Vertical

Correct Marks : 1 Wrong Marks : 0.25

विकास के मनोवैज्ञानिक-सामाजिक सिद्धांत के प्रस्तावक कौन हैं?

Options :

1. ✖ स्किनर

2. ✖ बिनेट

3. ✖ थॉर्नडाइक

4. ✔ एरिकसन

Question Number : 107 Question Id : 1626532139 Question Type : MCQ Option Shuffling : Yes Display Question Number : Yes  
Single Line Question Option : No Option Orientation : Vertical

Correct Marks : 1 Wrong Marks : 0.25

Which of the following is a specific stage of development in which certain types of behaviour take shape and get molded for life? (In this stage, children are very vulnerable to injuries, and this stage is typically characterised by rapid growth.)

Options :

1. ✔ Critical period

2. ✖ Sensory period

3. ✖ Erickson

4. ✖ Bowlby terms

Question Number : 107 Question Id : 1626532139 Question Type : MCQ Option Shuffling : Yes Display Question Number : Yes  
Single Line Question Option : No Option Orientation : Vertical

Correct Marks : 1 Wrong Marks : 0.25

निम्नलिखित विकल्पों में से कौन विकास का एक विशिष्ट चरण है जिसमें कुछ प्रकार के व्यवहार आकार लेते हैं और जो जीवन के अनुरूप हो जाते हैं? (इस चरण में, बच्चों चोटों के प्रति अतिसंवेदनशील होते हैं, तथा यह चरण आमतौर पर तीव्र विकास का समय होता है।)

Options :

1. ✔ महत्वपूर्ण अवधि

2. ✖ संवेदी अवधि

3. ✖ एरिकसन

4. ✖ बोलबी काल

Question Number : 108 Question Id : 1626532140 Question Type : MCQ Option Shuffling : Yes Display Question Number : Yes  
Single Line Question Option : No Option Orientation : Vertical

Correct Marks : 1 Wrong Marks : 0.25

The different stages of moral development (stage in which actions are based on rules, stage in which actions are based on selfishness, stage in which actions take into consideration the approval of others, Stage in which actions take into consideration social norms) were given by:

Options :

1. ☒ Kohlberg
2. ☐ Freud
3. ☐ Erickson
4. ☐ Piaget

Question Number : 108 Question Id : 1626532140 Question Type : MCQ Option Shuffling : Yes Display Question Number : Yes  
Single Line Question Option : No Option Orientation : Vertical

Correct Marks : 1 Wrong Marks : 0.25

नैतिक विकास के विभिन्न चरणों (चरण जिसमें कार्रवाइयाँ नियमों पर आधारित होती हैं, चरण जिसमें कार्रवाइयाँ स्वार्थपरायणता पर आधारित होती हैं, चरण जिसमें कार्रवाइयाँ दूसरों की मंजूरी पर निर्भर होती हैं, चरण जिसमें कार्रवाइयाँ सामाजिक मानदंडों का ध्यान रखती हैं) का प्रतिपादन किसने किया था?

Options :

1. ☒ कोलबर्ग
2. ☐ फ्रायड
3. ☐ एरिकसन
4. ☐ सुपेरेगो

Question Number : 109 Question Id : 1626532141 Question Type : MCQ Option Shuffling : Yes Display Question Number : Yes  
Single Line Question Option : No Option Orientation : Vertical

Correct Marks : 1 Wrong Marks : 0.25

Which of the following works best for testing divergent thinking?

Options :

1. ☐ Multiple choice questions
2. ☐ Right or wrong question
3. ☐ Close ended questions
4. ☒ Open ended questions

Question Number : 109 Question Id : 1626532141 Question Type : MCQ Option Shuffling : Yes Display Question Number : Yes  
Single Line Question Option : No Option Orientation : Vertical

Correct Marks : 1 Wrong Marks : 0.25

भिन्न सोच के परीक्षण हेतु निम्नलिखित में से कौन अधिक सहायक होता है?

Options :

1. ✖ बहुविकल्पी प्रश्न
2. ✖ सही या गलत प्रश्न
3. ✖ सीमित उत्तर वाले (क्लोज्ड एंडेड) प्रश्न
4. ✔ असीमित उत्तर वाले (ओपन एंडेड) प्रश्न

Question Number : 110 Question Id : 1626532142 Question Type : MCQ Option Shuffling : Yes Display Question Number : Yes  
Single Line Question Option : No Option Orientation : Vertical

Correct Marks : 1 Wrong Marks : 0.25

‘Cognitive development stems from social interactions from guided learning within the zone of proximal development.’  
This was stated by:

Options :

1. ✔ Vygotsky
2. ✖ Piaget
3. ✖ Dewey
4. ✖ Montessori

Question Number : 110 Question Id : 1626532142 Question Type : MCQ Option Shuffling : Yes Display Question Number : Yes  
Single Line Question Option : No Option Orientation : Vertical

Correct Marks : 1 Wrong Marks : 0.25

‘संज्ञानात्मक विकास समीपवर्ती विकास के क्षेत्र में निर्देशित शिक्षण से सामाजिक बातचीत से उत्पन्न होता है।’ यह  
किसने कहा था?

Options :

1. ✔ वाईगोत्स्की
2. ✖ पियाजे
3. ✖ डेवी

#### 4. ✖ मोंटेसरी

Question Number : 111 Question Id : 1626532143 Question Type : MCQ Option Shuffling : Yes Display Question Number : Yes  
Single Line Question Option : No Option Orientation : Vertical  
Correct Marks : 1 Wrong Marks : 0.25

The method of right or wrong responses is also known as:

Options :

1. ✖ the method of average error
2. ✔ the method of constant stimuli
3. ✖ experimental method
4. ✖ survey method

Question Number : 111 Question Id : 1626532143 Question Type : MCQ Option Shuffling : Yes Display Question Number : Yes  
Single Line Question Option : No Option Orientation : Vertical  
Correct Marks : 1 Wrong Marks : 0.25

सही या गलत उत्तरों की विधि को किस अन्य नाम से भी जाना जाता है?

Options :

1. ✖ औसत त्रुटि की विधि
2. ✔ निरंतर उद्दीपन की विधि
3. ✖ प्रयोगात्मक विधि
4. ✖ सर्वेक्षण विधि

Question Number : 112 Question Id : 1626532144 Question Type : MCQ Option Shuffling : Yes Display Question Number : Yes  
Single Line Question Option : No Option Orientation : Vertical  
Correct Marks : 1 Wrong Marks : 0.25

How is pacing of instructions important in student learning?

Options :

1. ✔ Students are prevented from making mistakes
2. ✖ It helps only weak students
3. ✖ It helps the teacher to complete the topic



4. ✖ It motivates students to learn

Question Number : 112 Question Id : 1626532144 Question Type : MCQ Option Shuffling : Yes Display Question Number : Yes  
Single Line Question Option : No Option Orientation : Vertical

Correct Marks : 1 Wrong Marks : 0.25

छात्रों के सीखने की प्रक्रिया में निर्देशों का पदानियमन क्यों महत्वपूर्ण है?

Options :

1. ✔ छात्रों को गलतियां करने से रोका जाता है।
2. ✖ केवल कमजोर छात्रों की मदद करता है।
3. ✖ शिक्षक विषय को पूरा करने में सहायक होता है।
4. ✖ छात्रों को सीखने के लिए प्रेरित करता है।

Question Number : 113 Question Id : 1626532145 Question Type : MCQ Option Shuffling : Yes Display Question Number : Yes  
Single Line Question Option : No Option Orientation : Vertical

Correct Marks : 1 Wrong Marks : 0.25

If a teacher insist that students should give answers only from textbooks, it implies that:

Options :

1. ✔ the teachers are rigid
2. ✖ the students cannot think for themselves
3. ✖ students give answers that are not there in textbooks
4. ✖ Wastage of time for students

Question Number : 113 Question Id : 1626532145 Question Type : MCQ Option Shuffling : Yes Display Question Number : Yes  
Single Line Question Option : No Option Orientation : Vertical

Correct Marks : 1 Wrong Marks : 0.25

यदि एक शिक्षक अक्सर जोर देता है कि छात्रों को केवल पाठ्यपुस्तक से उत्तर देना चाहिए तो यह बताता है कि:

Options :

1. ✔ शिक्षक सख्त है।
2. ✖ छात्र स्वयं नहीं सोच सकते हैं।
3. ✖ छात्र पाठ्यपुस्तक के बाहर से उत्तर देते हैं।

4. ✖ छात्रों के लिए समय की बर्बादी।

Question Number : 114 Question Id : 1626532146 Question Type : MCQ Option Shuffling : Yes Display Question Number : Yes  
Single Line Question Option : No Option Orientation : Vertical

Correct Marks : 1 Wrong Marks : 0.25

Which of the following is an instructional tool that promotes inquisitiveness and creativity?

Options :

1. ✖ Lecture method

2. ✖ Demonstration

3. ✔ Role play

4. ✖ Observation

Question Number : 114 Question Id : 1626532146 Question Type : MCQ Option Shuffling : Yes Display Question Number : Yes  
Single Line Question Option : No Option Orientation : Vertical

Correct Marks : 1 Wrong Marks : 0.25

निम्नलिखित में से कौन एक निर्देशक उपकरण जो पूछताछ और रचनात्मकता को बढ़ावा देता है?

Options :

1. ✖ व्याख्यान विधि

2. ✖ प्रदर्शन

3. ✔ भूमिका अदायगी

4. ✖ अवलोकन

Question Number : 115 Question Id : 1626532147 Question Type : MCQ Option Shuffling : Yes Display Question Number : Yes  
Single Line Question Option : No Option Orientation : Vertical

Correct Marks : 1 Wrong Marks : 0.25

Who stated that learning CANNOT be separated from its social context?

Options :

1. ✖ Piaget

2. ✔ Vygotsky

3. ✖ Bandura

4. ✖ Chomsky

Question Number : 115 Question Id : 1626532147 Question Type : MCQ Option Shuffling : Yes Display Question Number : Yes  
Single Line Question Option : No Option Orientation : Vertical

Correct Marks : 1 Wrong Marks : 0.25

किसने कहा है कि ज्ञानार्जन को इसके सामाजिक संदर्भ से अलग नहीं किया जा सकता है?

Options :

1. ✖ पियाजे

2. ✔ वाईगोत्स्की

3. ✖ बन्दुरा

4. ✖ चोमस्की

Question Number : 116 Question Id : 1626532148 Question Type : MCQ Option Shuffling : Yes Display Question Number : Yes  
Single Line Question Option : No Option Orientation : Vertical

Correct Marks : 1 Wrong Marks : 0.25

Cognitive advances are made through social interactions. This tenet was given by:

Options :

1. ✖ Goldstein

2. ✖ Watson

3. ✔ Vygotsky

4. ✖ Pavlov

Question Number : 116 Question Id : 1626532148 Question Type : MCQ Option Shuffling : Yes Display Question Number : Yes  
Single Line Question Option : No Option Orientation : Vertical

Correct Marks : 1 Wrong Marks : 0.25

संज्ञानात्मक प्रगति सामाजिक विमर्श के माध्यम से की जाती है। यह सिद्धांत \_\_\_\_\_ द्वारा दिया गया था।

Options :

1. ✖ गोल्डस्टीन

2. ✖ वाटसन

3. ✔ वाईगोत्स्की

#### 4. ✖ पावलोव

Question Number : 117 Question Id : 1626532149 Question Type : MCQ Option Shuffling : Yes Display Question Number : Yes  
Single Line Question Option : No Option Orientation : Vertical  
Correct Marks : 1 Wrong Marks : 0.25

Which of the following defines sociocultural theory of learning?

Options :

1. ✔ The idea that students' environments play a role in their learning
2. ✖ The idea that a student learns social and cultural norms of others
3. ✖ The impact that social and cultural norms have on the students
4. ✖  
The idea that learning challenges students' to learn about the culture and socio economic background of their peers

Question Number : 117 Question Id : 1626532149 Question Type : MCQ Option Shuffling : Yes Display Question Number : Yes  
Single Line Question Option : No Option Orientation : Vertical  
Correct Marks : 1 Wrong Marks : 0.25

निम्नलिखित में से कौन शिक्षण के सामाजिक-सांस्कृतिक सिद्धांत को परिभाषित करता है?

Options :

1. ✔ यह विचार कि छात्र का परिवेश उसके ज्ञानार्जन में भूमिका निभाता है।
2. ✖ यह विचार कि एक छात्र दूसरों के सामाजिक और सांस्कृतिक मानदंडों को सीखता है।
3. ✖ छात्रों पर सामाजिक और सांस्कृतिक मानदंडों का प्रभाव पड़ता है
4. ✖  
यह विचार कि विद्यार्थियों को अपने साथियों की संस्कृति और सामाजिक आर्थिक पृष्ठभूमि के बारे में जानने के लिए चुनौती दी जाती है

Question Number : 118 Question Id : 1626532150 Question Type : MCQ Option Shuffling : Yes Display Question Number : Yes  
Single Line Question Option : No Option Orientation : Vertical  
Correct Marks : 1 Wrong Marks : 0.25

\_\_\_\_\_ process can arouse and initiate the desired student behaviour.

Options :

1. ✔ Motivation
2. ✖ Rewards



3. ✖ Praise

4. ✖ Punishment

Question Number : 118 Question Id : 1626532150 Question Type : MCQ Option Shuffling : Yes Display Question Number : Yes  
Single Line Question Option : No Option Orientation : Vertical

Correct Marks : 1 Wrong Marks : 0.25

\_\_\_\_\_ प्रक्रिया छात्र के वांछित व्यवहार को जागृत और दीक्षित करने में मदद कर सकती है।

Options :

1. ✔ प्रेरणा

2. ✖ पुरस्कार

3. ✖ प्रशंसा

4. ✖ दंड

Question Number : 119 Question Id : 1626532151 Question Type : MCQ Option Shuffling : Yes Display Question Number : Yes  
Single Line Question Option : No Option Orientation : Vertical

Correct Marks : 1 Wrong Marks : 0.25

A student derives satisfaction and pleasure from completing his work and making progress. This signifies that:

Options :

1. ✖ the student is extrinsically motivated

2. ✔ the student is intrinsically motivated

3. ✖ the student wants to please his parents

4. ✖ the student wants to please his teachers

Question Number : 119 Question Id : 1626532151 Question Type : MCQ Option Shuffling : Yes Display Question Number : Yes  
Single Line Question Option : No Option Orientation : Vertical

Correct Marks : 1 Wrong Marks : 0.25

एक छात्र अपने काम को पूरा करने और प्रगति से संतुष्टि और खुशी प्राप्त करता है, यह क्या दर्शाता है?

Options :

1. ✖ छात्र बाह्य रूप से प्रेरित है

2. ✔ छात्र आंतरिक रूप से प्रेरित है



3. ✖ छात्र अपने माता-पिता को खुश करना चाहता है

4. ✖ छात्र अपने शिक्षकों को खुश करना चाहता है

Question Number : 120 Question Id : 1626532152 Question Type : MCQ Option Shuffling : Yes Display Question Number : Yes  
Single Line Question Option : No Option Orientation : Vertical

Correct Marks : 1 Wrong Marks : 0.25

The trial and error method of learning states that:

Options :

1. ✖ learning is insightful

2. ✔ learning is incremental

3. ✖ learning is indirect

4. ✖ learning is not incremental

Question Number : 120 Question Id : 1626532152 Question Type : MCQ Option Shuffling : Yes Display Question Number : Yes  
Single Line Question Option : No Option Orientation : Vertical

Correct Marks : 1 Wrong Marks : 0.25

सीखने की परीक्षण-त्रुटि विधि बताती है कि:

Options :

1. ✖ सीखना अंतर्दृष्टिपूर्ण है

2. ✔ सीखना वृद्धिशील है

3. ✖ सीखना अप्रत्यक्ष क्रिया है

4. ✖ सीखना वृद्धिशील नहीं है

Subject Related

Group Number :	7
Group Id :	162653107
Group Maximum Duration :	0
Group Minimum Duration :	0
Revisit allowed for view? :	No
Revisit allowed for edit? :	No
Break time:	0

Group Marks:	20
Revisit allowed for group Instructions? :	Yes
Maximum Instruction Time:	0
Minimum Instruction Time:	0

	Subject Related
Section Id :	162653107
Section Number :	1
Section type :	Online
Mandatory or Optional:	Mandatory
Number of Questions:	20
Number of Questions to be attempted:	20
Section Marks:	20
Display Number Panel:	Yes
Group All Questions:	No


Sub-Section Number:	1
Sub-Section Id:	162653141
Question Shuffling Allowed :	Yes

Question Number : 121 Question Id : 1626532153 Question Type : MCQ Option Shuffling : Yes Display Question Number : Yes  
Single Line Question Option : No Option Orientation : Vertical

Correct Marks : 1 Wrong Marks : 0.25

Unconscious desires, pleasure drive, forbidden wishes, where things go when they are purposefully forgotten is:

Options :


1.  Id
2.  Ego
3.  Erickson
4.  Piaget

Question Number : 121 Question Id : 1626532153 Question Type : MCQ Option Shuffling : Yes Display Question Number : Yes  
Single Line Question Option : No Option Orientation : Vertical

Correct Marks : 1 Wrong Marks : 0.25

‘अचेतन इच्छाएं, खुशी प्रेरण, वर्जित इच्छाएं, जहां चीजें तब जाती हैं जब वे जानबूझ कर भुलाई जाती हैं’, निम्नलिखित में से किससे संबंधित है?

Options :

1.  अभिज्ञान
2.  अहं

3. ✖ एरिक्सन

4. ✖ पियाजे

Question Number : 122 Question Id : 1626532154 Question Type : MCQ Option Shuffling : Yes Display Question Number : Yes  
Single Line Question Option : No Option Orientation : Vertical

Correct Marks : 1 Wrong Marks : 0.25

Which of the following are factors that affect personality?

Options :

1. ✖ Family and culture

2. ✔ Heredity and environment

3. ✖ Only environment

4. ✖ Only heredity

Question Number : 122 Question Id : 1626532154 Question Type : MCQ Option Shuffling : Yes Display Question Number : Yes  
Single Line Question Option : No Option Orientation : Vertical

Correct Marks : 1 Wrong Marks : 0.25

निम्नलिखित में से कौन व्यक्तित्व को प्रभावित करने वाले कारक हैं?

Options :

1. ✖ परिवार और संस्कृति

2. ✔ आनुवंशिकता और परिवेश

3. ✖ केवल परिवेश

4. ✖ केवल आनुवंशिकता

Question Number : 123 Question Id : 1626532155 Question Type : MCQ Option Shuffling : Yes Display Question Number : Yes  
Single Line Question Option : No Option Orientation : Vertical

Correct Marks : 1 Wrong Marks : 0.25

By declaring education as a fundamental right, India has ensured constitutional provisions for providing free and compulsory education to all the children between \_\_\_\_\_ years of age.

Options :

1. ✖ 8 to 16

2. ✖ 7 to 18

3. ✖ 5 to 15

4. ✔ 6 to 14

Question Number : 123 Question Id : 1626532155 Question Type : MCQ Option Shuffling : Yes Display Question Number : Yes  
Single Line Question Option : No Option Orientation : Vertical

Correct Marks : 1 Wrong Marks : 0.25

शिक्षा को मौलिक अधिकार के रूप में घोषित कर, भारत \_\_\_\_\_ वर्ष तक की आयु के सभी बच्चों को निःशुल्क और अनिवार्य शिक्षा प्रदान करने का संवैधानिक प्रावधान सुनिश्चित करता है।

Options :

1. ✖ 8 से 16

2. ✖ 7 से 18

3. ✖ 5 से 15

4. ✔ 6 से 14

Question Number : 124 Question Id : 1626532156 Question Type : MCQ Option Shuffling : Yes Display Question Number : Yes  
Single Line Question Option : No Option Orientation : Vertical

Correct Marks : 1 Wrong Marks : 0.25

After independence, the government had set up a National Committee on Women's Education in 1958, and it recommended that female education should be at par with male education. In the year 1964, the \_\_\_\_\_ was set up, which largely talked about focusing on educating the girl child.

Options :

1. ✖ Women Commission

2. ✔ Education Commission

3. ✖ Right to Women Education

4. ✖ Education Policy For Girl Child

Question Number : 124 Question Id : 1626532156 Question Type : MCQ Option Shuffling : Yes Display Question Number : Yes  
Single Line Question Option : No Option Orientation : Vertical

Correct Marks : 1 Wrong Marks : 0.25

आजादी के बाद, सरकार ने 1958 में राष्ट्रीय महिला शिक्षा समिति का गठन किया था और यह सिफारिश की गई थी कि महिला शिक्षा पुरुष शिक्षा के समतुल्य होनी चाहिए। वर्ष 1964 में, \_\_\_\_\_ स्थापित किया गया था, जो मुख्य रूप से बालिकाओं को शिक्षित करने हेतु ध्यान केंद्रित करने के बारे में था।

Options :



1. ✖ महिला आयोग
2. ✔ शिक्षा आयोग
3. ✖ महिला शिक्षा का अधिकार
4. ✖ बालिकाओं के लिए शिक्षा नीति

Question Number : 125 Question Id : 1626532157 Question Type : MCQ Option Shuffling : Yes Display Question Number : Yes  
Single Line Question Option : No Option Orientation : Vertical

Correct Marks : 1 Wrong Marks : 0.25

Which of the following is NOT a Strategy for equalization of educational opportunities?

Options :

1. ✖ Regional imbalances in the provision of educational facilities should be corrected
2. ✖ Education of girls should be emphasised
3. ✖ Intensive efforts are needed to bring education to the backward classes
4. ✔ Special education for special children'children

Question Number : 125 Question Id : 1626532157 Question Type : MCQ Option Shuffling : Yes Display Question Number : Yes  
Single Line Question Option : No Option Orientation : Vertical

Correct Marks : 1 Wrong Marks : 0.25

निम्नलिखित में से कौन सी शैक्षिक अवसरों को समान करने की कार्यनीति नहीं है?

Options :

1. ✖ शैक्षिक सुविधाओं के प्रावधान में क्षेत्रीय असंतुलन को सही किया जाना चाहिए
2. ✖ लड़कियों की शिक्षा पर जोर दिया जाना चाहिए
3. ✖ पिछड़े वर्गों में शिक्षा को विकसित करने के लिए गहन प्रयासों की आवश्यकता है
4. ✔ विशिष्ट बच्चों के लिए विशेष शिक्षा

Question Number : 126 Question Id : 1626532158 Question Type : MCQ Option Shuffling : Yes Display Question Number : Yes  
Single Line Question Option : No Option Orientation : Vertical

Correct Marks : 1 Wrong Marks : 0.25

As per the recommendation of NPE -1968, \_\_\_\_\_ should be initiated, irrespective of caste, creed, location or sex, for all to have access to education of a comparable quality.

Options :



1. ✖ Curriculum System Studies
2. ✔ Common School System
3. ✖ Curriculum Studies for Schools
4. ✖ Compulsory Curriculum Studies

Question Number : 126 Question Id : 1626532158 Question Type : MCQ Option Shuffling : Yes Display Question Number : Yes  
Single Line Question Option : No Option Orientation : Vertical

Correct Marks : 1 Wrong Marks : 0.25

एनपीई -1968 की सिफारिश के अनुसार, शिक्षा की तुलनात्मक गुणवत्ता प्राप्त करने के लिए जाति, पंथ, स्थान या लिंग की परवाह किये बिना \_\_\_\_\_ शुरू किया जाना चाहिए।

Options :

1. ✖ पाठ्यचर्या प्रणाली अध्ययन
2. ✔ समान विद्यालय प्रणाली
3. ✖ विद्यालयों के लिए पाठ्यचर्या अध्ययन
4. ✖ अनिवार्य पाठ्यचर्या अध्ययन

Question Number : 127 Question Id : 1626532159 Question Type : MCQ Option Shuffling : Yes Display Question Number : Yes  
Single Line Question Option : No Option Orientation : Vertical

Correct Marks : 1 Wrong Marks : 0.25

Distance education is any educational process in which all or most of the teaching is conducted by someone removed in space and/or time from the learner, with the effect that all or most of the communication between the teachers and learners is through an artificial medium, mainly \_\_\_\_\_.

Options :

1. ✔ either electronic or print
2. ✖ telephonic and virtual media
3. ✖ synchronous mode
4. ✖ social media

Question Number : 127 Question Id : 1626532159 Question Type : MCQ Option Shuffling : Yes Display Question Number : Yes  
Single Line Question Option : No Option Orientation : Vertical

Correct Marks : 1 Wrong Marks : 0.25

दूरस्थ शिक्षा एक शैक्षणिक प्रक्रिया है जिसमें पूरी या अधिकतर शिक्षा ऐसे व्यक्ति द्वारा आयोजित की जाती है, जो शिक्षार्थियों के स्थान से दूर और/या अलग समय पर होता है, साथ ही शिक्षकों और शिक्षार्थियों के बीच शिक्षण का सभी या अधिकतर सम्प्रेषण कृत्रिम माध्यम से, मुख्यतया \_\_\_\_\_ के द्वारा होता है ।

Options :

1. ☒ या तो इलेक्ट्रॉनिक या प्रिंट
2. ☐ टेलीफोनिक और वर्चुअल मीडिया
3. ☐ तुल्यकालिक विधा
4. ☐ सोशल मीडिया

Question Number : 128 Question Id : 1626532160 Question Type : MCQ Option Shuffling : Yes Display Question Number : Yes  
Single Line Question Option : No Option Orientation : Vertical

Correct Marks : 1 Wrong Marks : 0.25

According to Encyclopedia America, adult education includes all experiences that help mature men and women to acquire \_\_\_\_\_.

Options :

1. ☐ vocational skills and understanding the world of work
2. ☐ value based education and vocational skills
3. ☒ new knowledge, understanding, skills, attitudes, interests or values
4. ☐ interest based and need based education

Question Number : 128 Question Id : 1626532160 Question Type : MCQ Option Shuffling : Yes Display Question Number : Yes  
Single Line Question Option : No Option Orientation : Vertical

Correct Marks : 1 Wrong Marks : 0.25

एन्साइक्लोपीडिया अमेरिका के अनुसार, प्रौढ़ शिक्षा में वे सभी अनुभव शामिल हैं जो परिपक्व पुरुषों और महिलाओं को \_\_\_\_\_ की प्राप्ति में मदद करते हैं।

Options :

1. ☐ व्यावसायिक कौशल और कार्यकारी दुनिया की समझ
2. ☐ मूल्य आधारित शिक्षा और व्यावसायिक कौशल
3. ☒ नया ज्ञान, समझ, कौशल, दृष्टिकोण, रुचियों या मूल्यों

#### 4. ✖ रुचि आधारित और आवश्यकता आधारित शिक्षा

Question Number : 129 Question Id : 1626532161 Question Type : MCQ Option Shuffling : Yes Display Question Number : Yes  
Single Line Question Option : No Option Orientation : Vertical

Correct Marks : 1 Wrong Marks : 0.25

Which of the following is NOT an educational benefit of diversity?

Options :

1. ✖

Students involved in group discussions sharing viewpoints with diverse students have been shown to stimulate discussion of multiple perspectives

2. ✖

Students who interact with diverse peers both informally and within the classroom show the greatest engagement in active thinking

3. ✔

Students lead to tokenism of the underrepresented and being a part of an underrepresented group on a campus can produce social stigma

4. ✖

Individuals who are educated in diverse settings are far more likely to work and live in diverse environments

Question Number : 129 Question Id : 1626532161 Question Type : MCQ Option Shuffling : Yes Display Question Number : Yes  
Single Line Question Option : No Option Orientation : Vertical

Correct Marks : 1 Wrong Marks : 0.25

निम्नलिखित में से कौन सा कथन विविधता का शैक्षणिक लाभ नहीं है?

Options :

1. ✖

विभिन्न छात्रों के साथ दृष्टिकोण साझा करने वाले समूह चर्चाओं में शामिल छात्रों को कई दृष्टिकोणों की चर्चा को प्रोत्साहित करते हुए दिखाया गया है

2. ✖

छात्र जो अनौपचारिक रूप से और कक्षा के भीतर विविध सहकर्मियों से बातचीत करते थे, सक्रिय सोच में सबसे बड़ी भागीदारी दिखाते थे

3. ✔

जो छात्र न्यून प्रतिनिधित्व के टोकनवाद का नेतृत्व करते हैं और एक परिसर में न्यून प्रतिनिधित्व वाले समूह का हिस्सा हैं वे सामाजिक कलंक पैदा कर सकते हैं

4. ✖

विभिन्न प्रतिवेशों में शिक्षित व्यक्तियों के काम करने और विभिन्न परिवेशों में रहने की संभावना अधिक है

Question Number : 130 Question Id : 1626532162 Question Type : MCQ Option Shuffling : Yes Display Question Number : Yes  
Single Line Question Option : No Option Orientation : Vertical

Correct Marks : 1 Wrong Marks : 0.25

\_\_\_\_\_ concerns relative equality in terms of numbers and proportions of women and men, girls and boys, and is often calculated as the ratio of female-to-male values for a given indicator.



Options :

1. ✖ Gender equality
2. ✔ Gender parity
3. ✖ Gender disparity
4. ✖ Gender bias

Question Number : 130 Question Id : 1626532162 Question Type : MCQ Option Shuffling : Yes Display Question Number : Yes  
Single Line Question Option : No Option Orientation : Vertical

Correct Marks : 1 Wrong Marks : 0.25

\_\_\_\_\_ महिलाओं और पुरुषों, लड़कियों और लड़कों की संख्याओं और अनुपात के संदर्भ में सापेक्ष समानता से संबंधित है, और इसकी गणना आमतौर पर दिए गए संकेतक के लिए महिला-पुरुष मान के अनुपात के रूप में की जाती है।

Options :

1. ✖ लैंगिक समानता
2. ✔ लैंगिक अनुरूपता/समतुल्यता
3. ✖ लिंग असमानता
4. ✖ लिंग पूर्वग्रह

Question Number : 131 Question Id : 1626532163 Question Type : MCQ Option Shuffling : Yes Display Question Number : Yes  
Single Line Question Option : No Option Orientation : Vertical

Correct Marks : 1 Wrong Marks : 0.25

The 1995 \_\_\_\_\_ (PDA) states that disabled children should be educated in integrated settings where possible.

Options :

1. ✔ Persons with Disability Act
2. ✖ People with Diverse Ability
3. ✖ People with Diversity Act
4. ✖ People with Disability Act

Question Number : 131 Question Id : 1626532163 Question Type : MCQ Option Shuffling : Yes Display Question Number : Yes  
Single Line Question Option : No Option Orientation : Vertical

Correct Marks : 1 Wrong Marks : 0.25

1995 \_\_\_\_\_ (PDA) में उल्लिखित है कि जहाँ भी संभव हो वहाँ दिव्यांग बच्चों को एकीकृत प्रतिवेशों में शिक्षित किया जाना चाहिए।

Options :

1. ✓ विकलांग व्यक्ति अधिनियम (Persons with Disability Act)
2. ✗ विविध क्षमता वाले लोग (People with Diverse Ability)
3. ✗ व्यक्ति विविधता अधिनियम (People with Diversity Act)
4. ✗ विकलांग जन अधिनियम (People with Disability Act)

Question Number : 132 Question Id : 1626532164 Question Type : MCQ Option Shuffling : Yes Display Question Number : Yes  
Single Line Question Option : No Option Orientation : Vertical

Correct Marks : 1 Wrong Marks : 0.25

The term Special Need Education (SNE) has come into use as a replacement for the term \_\_\_\_\_, as the former one was mainly understood to refer to the education of all those children and youth whose needs arise from disabilities or learning difficulties.

Options :

1. ✗ Education of Disabled
2. ✓ Special Education
3. ✗ Segregated Education
4. ✗ Integrated Education

Question Number : 132 Question Id : 1626532164 Question Type : MCQ Option Shuffling : Yes Display Question Number : Yes  
Single Line Question Option : No Option Orientation : Vertical

Correct Marks : 1 Wrong Marks : 0.25

"विशेष आवश्यकता शिक्षा" (SNE) पद \_\_\_\_\_ शब्द के प्रतिस्थापन के रूप में उपयोग में आया है, क्योंकि पुराने पद को उन सभी बच्चों और युवाओं की शिक्षा का संदर्भ माना जाता था, जिनकी जरूरतें विकलांगता या सीखने की कठिनाइयों से उत्पन्न होती हैं।

Options :

1. ✗ विकलांग की शिक्षा (Education of Disabled)
2. ✓ विशेष शिक्षा (Special Education)
3. ✗ पृथक शिक्षा (Segregated Education)



#### 4. ❌ एकीकृत शिक्षा (Integrated Education)

Question Number : 133 Question Id : 1626532165 Question Type : MCQ Option Shuffling : Yes Display Question Number : Yes  
Single Line Question Option : No Option Orientation : Vertical

Correct Marks : 1 Wrong Marks : 0.25

\_\_\_\_\_ refers to a process by which efforts are made to ensure equal opportunities for all, regardless of their background, be it money, class, ethnicity, gender, race or whatever the index of diversity be, to enable full and active participation in all aspects of life, including civic, social, economic, and political activities.

Options :

1. ✔ Social inclusion
2. ❌ Social isolation
3. ❌ Social segregation
4. ❌ Social exclusion

Question Number : 133 Question Id : 1626532165 Question Type : MCQ Option Shuffling : Yes Display Question Number : Yes  
Single Line Question Option : No Option Orientation : Vertical

Correct Marks : 1 Wrong Marks : 0.25

\_\_\_\_\_ एक ऐसी प्रक्रिया को संदर्भित करता है जिसके तहत नागरिक, सामाजिक, आर्थिक, और राजनीतिक गतिविधियों सहित जीवन के सभी पहलुओं में पूर्ण और सक्रिय भागीदारी को सक्षम करने हेतु, प्रत्येक के लिए समान अवसर सुनिश्चित करने के लिए प्रयास किए जाते हैं, चाहे वह किसी भी पृष्ठभूमि, आय, वर्ग, जाति, लिंग, वंश या विविधता की अनुक्रमणिका से हो।

Options :

1. ✔ सामाजिक समावेश
2. ❌ सामाजिक अलगाव
3. ❌ सामाजिक पृथक्करण
4. ❌ सामाजिक बहिष्कार

Question Number : 134 Question Id : 1626532166 Question Type : MCQ Option Shuffling : Yes Display Question Number : Yes  
Single Line Question Option : No Option Orientation : Vertical

Correct Marks : 1 Wrong Marks : 0.25

\_\_\_\_\_ on Special Needs Education (1994) emphasises that schools should accommodate all children regardless of their physical, intellectual, social, emotional, linguistic or other conditions.

Options :

1. ❌ National Trust Act

2. ✖ Rehabilitation Council of India Act
3. ✔ The Salamanca Statement and Framework for Action
4. ✖ The National Policy on Education

Question Number : 134 Question Id : 1626532166 Question Type : MCQ Option Shuffling : Yes Display Question Number : Yes  
Single Line Question Option : No Option Orientation : Vertical

Correct Marks : 1 Wrong Marks : 0.25

विशेष आवश्यकता शिक्षा (1994) पर \_\_\_\_\_ इस बात पर जोर देता है कि विद्यालयों को बच्चों की शारीरिक, बौद्धिक, सामाजिक, भावनात्मक, भाषाई या अन्य स्थितियों से उदासीन होकर सभी को समायोजित करना चाहिए।

Options :

1. ✖ राष्ट्रीय न्यास अधिनियम
2. ✖ भारतीय पुनर्वास परिषद अधिनियम
3. ✔ सलामंका कथन और कार्रवाई हेतु रूपरेखा
4. ✖ राष्ट्रीय शिक्षा नीति

Question Number : 135 Question Id : 1626532167 Question Type : MCQ Option Shuffling : Yes Display Question Number : Yes  
Single Line Question Option : No Option Orientation : Vertical

Correct Marks : 1 Wrong Marks : 0.25

State whether or not you agree with the following statements.

Curriculum deals with goals and syllabus deals with objectives. Both can be achievable in term of all round development of the child.

Options :

1. ✔ I strongly agree with the statements
2. ✖ I agree with the first statement
3. ✖ I agree with the second statement
4. ✖ I strongly disagree with the statements

Question Number : 135 Question Id : 1626532167 Question Type : MCQ Option Shuffling : Yes Display Question Number : Yes  
Single Line Question Option : No Option Orientation : Vertical

Correct Marks : 1 Wrong Marks : 0.25

निम्नलिखित कथनों से अपनी सहमति या असहमति दर्शाएँ।

पाठ्यचर्या का सम्बन्ध लक्ष्यों से और पाठ्यक्रम का उद्देश्यों से सम्बंधित है। दोनों ही बच्चों के सर्वांगीण विकास के रूप में प्राप्त किए जा सकते हैं।

Options :

1. ☒ मैं कथन से दृढ़तापूर्वक सहमत हूँ
2. ☐ मैं पहले कथन से सहमत हूँ
3. ☐ मैं दूसरे कथन से सहमत हूँ
4. ☐ मैं कथन से दृढ़तापूर्वक असहमत हूँ

Question Number : 136 Question Id : 1626532168 Question Type : MCQ Option Shuffling : Yes Display Question Number : Yes  
Single Line Question Option : No Option Orientation : Vertical

Correct Marks : 1 Wrong Marks : 0.25

How can we assess whether or not a child has achieved the syllabus objectives?

Options :

1. ☐ By formative assessment
2. ☒ Through written test
3. ☐ Through oral test
4. ☐ Through semester examination

Question Number : 136 Question Id : 1626532168 Question Type : MCQ Option Shuffling : Yes Display Question Number : Yes  
Single Line Question Option : No Option Orientation : Vertical

Correct Marks : 1 Wrong Marks : 0.25

हम इसका आकलन किस प्रकार कर सकते हैं कि बच्चे ने पाठ्यक्रम उद्देश्यों को हासिल किया है अथवा नहीं?

Options :

1. ☐ रचनात्मक आकलन द्वारा
2. ☒ लिखित परीक्षा के माध्यम से
3. ☐ मौखिक परीक्षा के माध्यम से
4. ☐ सेमेस्टर/सत्र परीक्षा के माध्यम से

Question Number : 137 Question Id : 1626532169 Question Type : MCQ Option Shuffling : Yes Display Question Number : Yes  
Single Line Question Option : No Option Orientation : Vertical

Correct Marks : 1 Wrong Marks : 0.25

What is the most important in a curriculum for assessing students?

Options :

1. ✖ Content
2. ✖ Methods
3. ✔ Continuous and comprehensive evaluation
4. ✖ Use of media

Question Number : 137 Question Id : 1626532169 Question Type : MCQ Option Shuffling : Yes Display Question Number : Yes  
Single Line Question Option : No Option Orientation : Vertical

Correct Marks : 1 Wrong Marks : 0.25

छात्रों का आकलन करने के लिए पाठ्यक्रम में सबसे अधिक महत्वपूर्ण क्या है?

Options :

1. ✖ सामग्री
2. ✖ पद्धतियां
3. ✔ निरंतर और व्यापक मूल्यांकन
4. ✖ मीडिया का प्रयोग

Question Number : 138 Question Id : 1626532170 Question Type : MCQ Option Shuffling : Yes Display Question Number : Yes  
Single Line Question Option : No Option Orientation : Vertical

Correct Marks : 1 Wrong Marks : 0.25

What is required for any curriculum to meet global standards?

Options :

1. ✖ Updated knowledge
2. ✖ Advanced pedagogy
3. ✔ Curriculum which fulfills the needs of the students
4. ✖ Multimedia

Question Number : 138 Question Id : 1626532170 Question Type : MCQ Option Shuffling : Yes Display Question Number : Yes  
Single Line Question Option : No Option Orientation : Vertical



Correct Marks : 1 Wrong Marks : 0.25

वैश्विक मानकों को पूरा करने के लिए किसी भी पाठ्यक्रम के लिए क्या आवश्यक है?

Options :

1. ✖ अद्यतन ज्ञान
2. ✖ उन्नत अध्यापन
3. ✔ पाठ्यक्रम जो छात्रों की जरूरतों को पूरा करता है
4. ✖ मल्टीमीडिया

Question Number : 139 Question Id : 1626532171 Question Type : MCQ Option Shuffling : Yes Display Question Number : Yes  
Single Line Question Option : No Option Orientation : Vertical

Correct Marks : 1 Wrong Marks : 0.25

Who is the father of Param Computer?

Options :

1. ✖ Charles Babbage
2. ✖ Marks Zukerberg
3. ✔ Dr Vijay Bhatkar
4. ✖ Dr Abdul Kalam

Question Number : 139 Question Id : 1626532171 Question Type : MCQ Option Shuffling : Yes Display Question Number : Yes  
Single Line Question Option : No Option Orientation : Vertical

Correct Marks : 1 Wrong Marks : 0.25

परम कंप्यूटर के जनक कौन हैं?

Options :

1. ✖ चार्ल्स बैबेज
2. ✖ मार्क जुकरबर्ग
3. ✔ डॉ. विजय भटकर
4. ✖ डॉ. अब्दुल कलाम

Question Number : 140 Question Id : 1626532172 Question Type : MCQ Option Shuffling : Yes Display Question Number : Yes  
Single Line Question Option : No Option Orientation : Vertical



Correct Marks : 1 Wrong Marks : 0.25

What is required for a smart classroom?

Options :

1. ✖ Computer with internet, LCD projector, screen
2. ✖ Laptop, internet connection, LCD, screen
3. ✖ Smart board, e-learning software
4. ✔ Smart board system, trained teachers, effective methods of teaching and evaluation

Question Number : 140 Question Id : 1626532172 Question Type : MCQ Option Shuffling : Yes Display Question Number : Yes  
Single Line Question Option : No Option Orientation : Vertical

Correct Marks : 1 Wrong Marks : 0.25

स्मार्ट कक्षा के लिए क्या आवश्यक है?

Options :

1. ✖ इंटरनेट के साथ कंप्यूटर, LCD प्रोजेक्टर, स्क्रीन
2. ✖ लैपटॉप, इंटरनेट कनेक्शन, LCD, स्क्रीन
3. ✖ स्मार्ट बोर्ड, ई-लर्निंग सॉफ्टवेयर
4. ✔ स्मार्ट बोर्ड सिस्टम, प्रशिक्षित शिक्षक, शिक्षण और मूल्यांकन की प्रभावी विधियां

Subject Related

Group Number :	8
Group Id :	162653108
Group Maximum Duration :	0
Group Minimum Duration :	0
Revisit allowed for view? :	No
Revisit allowed for edit? :	No
Break time:	0
Group Marks:	20
Revisit allowed for group Instructions? :	Yes
Maximum Instruction Time:	0
Minimum Instruction Time:	0

Subject Related

Section Id :	162653108
Section Number :	1

Section type :	Online
Mandatory or Optional:	Mandatory
Number of Questions:	20
Number of Questions to be attempted:	20
Section Marks:	20
Display Number Panel:	Yes
Group All Questions:	No

Sub-Section Number:	1
Sub-Section Id:	162653142
Question Shuffling Allowed :	Yes

Question Number : 141 Question Id : 1626532173 Question Type : MCQ Option Shuffling : Yes Display Question Number : Yes  
Single Line Question Option : No Option Orientation : Vertical

Correct Marks : 1 Wrong Marks : 0.25

Which of the following is a technological barrier in communication?

Options :

1. ✖ Language of instruction
2. ✖ Cost of technology
3. ✖ Training of teachers
4. ✔ Availability of electricity

Question Number : 141 Question Id : 1626532173 Question Type : MCQ Option Shuffling : Yes Display Question Number : Yes  
Single Line Question Option : No Option Orientation : Vertical

Correct Marks : 1 Wrong Marks : 0.25

निम्नलिखित में, संचार की तकनीकी बाधा क्या हैं?

Options :

1. ✖ निर्देश की भाषा
2. ✖ प्रौद्योगिकी की लागत
3. ✖ शिक्षकों का प्रशिक्षण
4. ✔ बिजली की उपलब्धता

Question Number : 142 Question Id : 1626532174 Question Type : MCQ Option Shuffling : Yes Display Question Number : Yes  
Single Line Question Option : No Option Orientation : Vertical

Correct Marks : 1 Wrong Marks : 0.25

Why can't we use web based learning for primary level?

Options :

1. ✖ It requires knowledge of technology
2. ✖ Primary students are too young to understand the technology
3. ✖ Internet use is not safe for kids
4. ✔ Use of technology in early ages is not safe for kid's physical and mental health

Question Number : 142 Question Id : 1626532174 Question Type : MCQ Option Shuffling : Yes Display Question Number : Yes  
Single Line Question Option : No Option Orientation : Vertical

Correct Marks : 1 Wrong Marks : 0.25

हम प्राथमिक स्तर के लिए वेब आधारित शिक्षा का उपयोग क्यों नहीं कर सकते?

Options :

1. ✖ इसके लिए प्रौद्योगिकी के ज्ञान की आवश्यकता है
2. ✖ प्राथमिक छात्र तकनीक को समझने के लिए बहुत छोटे हैं
3. ✖ बच्चों के लिए इंटरनेट का उपयोग सुरक्षित नहीं है

4. ✔

शुरुआती उम्र में प्रौद्योगिकी का उपयोग बच्चे के शारीरिक और मानसिक स्वास्थ्य के लिए सुरक्षित नहीं है

Question Number : 143 Question Id : 1626532175 Question Type : MCQ Option Shuffling : Yes Display Question Number : Yes  
Single Line Question Option : No Option Orientation : Vertical

Correct Marks : 1 Wrong Marks : 0.25

Which of the following is NOT a source of computer virus?

Options :

1. ✖ Pen drive, CD, MP3
2. ✖ Mobile phone
3. ✔ Mail merge
4. ✖ E- mail, Chat

Question Number : 143 Question Id : 1626532175 Question Type : MCQ Option Shuffling : Yes Display Question Number : Yes  
Single Line Question Option : No Option Orientation : Vertical

Correct Marks : 1 Wrong Marks : 0.25

निम्नलिखित में से कौन कंप्यूटर वायरस का स्रोत नहीं है?

Options :

1. ✖ पेन ड्राइव, CD, MP3
2. ✖ मोबाइल फोन
3. ✔ मेल मर्ज
4. ✖ ई-मेल, चैट

Question Number : 144 Question Id : 1626532176 Question Type : MCQ Option Shuffling : Yes Display Question Number : Yes  
Single Line Question Option : No Option Orientation : Vertical

Correct Marks : 1 Wrong Marks : 0.25

Which of the following is useful for visually impaired students?

Options :

1. ✖ Video clips
2. ✖ Presentations
3. ✔ Talking software
4. ✖ Smart board

Question Number : 144 Question Id : 1626532176 Question Type : MCQ Option Shuffling : Yes Display Question Number : Yes  
Single Line Question Option : No Option Orientation : Vertical

Correct Marks : 1 Wrong Marks : 0.25

दृष्टि बाधित छात्रों के लिए निम्नलिखित में से कौन उपयोगी है?

Options :

1. ✖ वीडियो क्लिप
2. ✖ प्रस्तुतियाँ
3. ✔ बात करते सॉफ्टवेयर
4. ✖ स्मार्ट बोर्ड

Question Number : 145 Question Id : 1626532177 Question Type : MCQ Option Shuffling : Yes Display Question Number : Yes  
Single Line Question Option : No Option Orientation : Vertical

Correct Marks : 1 Wrong Marks : 0.25

How can one motivate students to learn through Computer Assisted Instruction Programme?

Options :

1. ✓ Adding motivational frames

2. ✗ Adding animated pictures

3. ✗ Adding videos

4. ✗ Adding questions

Question Number : 145 Question Id : 1626532177 Question Type : MCQ Option Shuffling : Yes Display Question Number : Yes  
Single Line Question Option : No Option Orientation : Vertical

Correct Marks : 1 Wrong Marks : 0.25

कंप्यूटर सहायक निर्देशित कार्यक्रम के माध्यम से सीखने के लिए आप छात्रों को कैसे प्रेरित कर सकते हैं?

Options :

1. ✓ प्रेरक फ्रेम जोड़कर

2. ✗ एनिमेटेड चित्र जोड़कर

3. ✗ वीडियो जोड़कर

4. ✗ प्रश्न जोड़कर

Question Number : 146 Question Id : 1626532178 Question Type : MCQ Option Shuffling : Yes Display Question Number : Yes  
Single Line Question Option : No Option Orientation : Vertical

Correct Marks : 1 Wrong Marks : 0.25

What are the advanced technological techniques of evaluation in today's era?

Options :

1. ✓ Online tests and immediate results

2. ✗ Formative assessment techniques

3. ✗ Journal writing

4. ✗ Blogs on evaluation

Question Number : 146 Question Id : 1626532178 Question Type : MCQ Option Shuffling : Yes Display Question Number : Yes  
Single Line Question Option : No Option Orientation : Vertical

Correct Marks : 1 Wrong Marks : 0.25

आज के युग में मूल्यांकन की उन्नत प्रौद्योगिकी तकनीक क्या हैं?

Options :



1. ✓ ऑनलाइन परीक्षण और तत्काल परिणाम

2. ✗ रचनात्मक मूल्यांकन तकनीकें

3. ✗ जर्नल लेखन

4. ✗ मूल्यांकन ब्लॉग

Question Number : 147 Question Id : 1626532179 Question Type : MCQ Option Shuffling : Yes Display Question Number : Yes  
Single Line Question Option : No Option Orientation : Vertical

Correct Marks : 1 Wrong Marks : 0.25

Which option best describes formative assessment?

Options :

1. ✗ A set of techniques teachers adopt

2. ✓ A learning partnership between teacher and student

3. ✗ Series of tests

4. ✗ Grading of students

Question Number : 147 Question Id : 1626532179 Question Type : MCQ Option Shuffling : Yes Display Question Number : Yes  
Single Line Question Option : No Option Orientation : Vertical

Correct Marks : 1 Wrong Marks : 0.25

कौन सा विकल्प रचनात्मक मूल्यांकन का सबसे अच्छा वर्णन करता है?

Options :

1. ✗ शिक्षकों द्वारा अपनाई जाने वाली तकनीकों का समुच्चय

2. ✓ शिक्षक और छात्र के बीच एक अध्ययन साझेदारी

3. ✗ परीक्षण की शृंखला

4. ✗ छात्रों का श्रेणीकरण

Question Number : 148 Question Id : 1626532180 Question Type : MCQ Option Shuffling : Yes Display Question Number : Yes  
Single Line Question Option : No Option Orientation : Vertical

Correct Marks : 1 Wrong Marks : 0.25

Overall curriculum expectations are assessed in:

Options :

1. ✖ Assessment for learning
2. ✔ Assessment of learning
3. ✖ Assessment as learning
4. ✖ Assessment in learning

Question Number : 148 Question Id : 1626532180 Question Type : MCQ Option Shuffling : Yes Display Question Number : Yes  
Single Line Question Option : No Option Orientation : Vertical

Correct Marks : 1 Wrong Marks : 0.25

पाठ्यचर्या अपेक्षाओं का कुल मूल्यांकन \_\_\_\_\_ में किया जाता है।

Options :

1. ✖ अध्ययन के लिए आकलन
2. ✔ अध्ययन का आकलन
3. ✖ अध्ययन के रूप में आकलन
4. ✖ अध्ययन में आकलन

Question Number : 149 Question Id : 1626532181 Question Type : MCQ Option Shuffling : Yes Display Question Number : Yes  
Single Line Question Option : No Option Orientation : Vertical

Correct Marks : 1 Wrong Marks : 0.25

What is main objective behind providing primary education in students' mother tongue?

Options :

1. ✖ To sustain regional language
2. ✖ To avoid giving too much importance to English language
3. ✔ To make all concepts clear to students and help in transferring cultural and social values
4. ✖ To follow the suggestions given by education commissions

Question Number : 149 Question Id : 1626532181 Question Type : MCQ Option Shuffling : Yes Display Question Number : Yes  
Single Line Question Option : No Option Orientation : Vertical

Correct Marks : 1 Wrong Marks : 0.25

विद्यार्थियों की मातृभाषा में प्राथमिक शिक्षा देने का मुख्य उद्देश्य क्या है?

Options :

1. ✖ क्षेत्रीय भाषा को बनाए रखना

2. ✖ अंग्रेजी भाषा को अत्यधिक महत्व देने से बचना

3. ✔

सभी अवधारणाओं को स्पष्ट करने तथा सांस्कृतिक एवं सामाजिक मूल्यों को स्थानांतरित करने में मदद करना

4. ✖ शिक्षा आयोग द्वारा दिए गए सुझावों का पालन करना

Question Number : 150 Question Id : 1626532182 Question Type : MCQ Option Shuffling : Yes Display Question Number : Yes  
Single Line Question Option : No Option Orientation : Vertical

Correct Marks : 1 Wrong Marks : 0.25

What is the role of a language teacher in achieving 21<sup>st</sup> century skills among students?

Options :

1. ✖ Language trainer

2. ✖ Communicator

3. ✔ Facilitator

4. ✖ Instructor

Question Number : 150 Question Id : 1626532182 Question Type : MCQ Option Shuffling : Yes Display Question Number : Yes  
Single Line Question Option : No Option Orientation : Vertical

Correct Marks : 1 Wrong Marks : 0.25

छात्रों के बीच 21<sup>वीं</sup> सदी के कौशल को प्राप्त करने में भाषा शिक्षक की क्या भूमिका है?

Options :

1. ✖ भाषा प्रशिक्षक

2. ✖ संचारक

3. ✔ सूत्रधार

4. ✖ प्रशिक्षक

Question Number : 151 Question Id : 1626532183 Question Type : MCQ Option Shuffling : Yes Display Question Number : Yes  
Single Line Question Option : No Option Orientation : Vertical

Correct Marks : 1 Wrong Marks : 0.25

Which type of intelligence is tested by oral and written examination?

Options :

1. ✓ Verbal intelligence
2. ✗ Logical intelligence
3. ✗ Spatial intelligence
4. ✗ Audio intelligence

Question Number : 151 Question Id : 1626532183 Question Type : MCQ Option Shuffling : Yes Display Question Number : Yes  
Single Line Question Option : No Option Orientation : Vertical

Correct Marks : 1 Wrong Marks : 0.25

मौखिक और लिखित परीक्षा द्वारा किस प्रकार का प्रज्ञता परीक्षण किया जाता है?

Options :

1. ✓ मौखिक प्रज्ञता
2. ✗ तार्किक प्रज्ञता
3. ✗ स्थानिक प्रज्ञता
4. ✗ श्रव्य प्रज्ञता

Question Number : 152 Question Id : 1626532184 Question Type : MCQ Option Shuffling : Yes Display Question Number : Yes  
Single Line Question Option : No Option Orientation : Vertical

Correct Marks : 1 Wrong Marks : 0.25

When young children begin to learn standard grammar, they tend to over regularise it. What does this mean?

Options :

1. ✗ They consistently use correct grammar in virtually every sentence
2. ✗ They excessively regulate or control what they say to the point that they become inhibited
3. ✓ They assume that common syntax rules apply in all situations
4. ✗ They use correct grammar only in classrooms where they can receive help from a teacher

Question Number : 152 Question Id : 1626532184 Question Type : MCQ Option Shuffling : Yes Display Question Number : Yes  
Single Line Question Option : No Option Orientation : Vertical

Correct Marks : 1 Wrong Marks : 0.25

जब छोटे बच्चे मानक व्याकरण सीखना शुरू करते हैं, तो वे इसे अति नियमित करते हैं। इसका क्या मतलब है?

Options :



1. ✖ वे लगातार हर वाक्य में वस्तुतः सही व्याकरण का उपयोग करते हैं।
2. ✖ वे जो कहते हैं उस पर इतने अत्यधिक नियमित या नियंत्रित होते हैं जिससे वे संकोची हो जाते हैं।
3. ✔ वे मानते हैं कि सभी स्थितियों में सामान्य वाक्यविन्यास नियम लागू होते हैं।
4. ✖ वे सही व्याकरण केवल कक्षा में प्रयोग करते हैं जहां वे शिक्षक से मदद प्राप्त कर सकते हैं।

Question Number : 153 Question Id : 1626532185 Question Type : MCQ Option Shuffling : Yes Display Question Number : Yes  
Single Line Question Option : No Option Orientation : Vertical  
Correct Marks : 1 Wrong Marks : 0.25

The best time to learn a second language is:

Options :

1. ✔ early childhood
2. ✖ in college
3. ✖ middle school
4. ✖ high school

Question Number : 153 Question Id : 1626532185 Question Type : MCQ Option Shuffling : Yes Display Question Number : Yes  
Single Line Question Option : No Option Orientation : Vertical  
Correct Marks : 1 Wrong Marks : 0.25

दूसरी भाषा सीखने का सबसे अच्छा समय कब है?

Options :

1. ✔ बचपन में
2. ✖ कॉलेज में
3. ✖ माध्यमिक पाठशाला में
4. ✖ उच्च विद्यालय में

Question Number : 154 Question Id : 1626532186 Question Type : MCQ Option Shuffling : Yes Display Question Number : Yes  
Single Line Question Option : No Option Orientation : Vertical  
Correct Marks : 1 Wrong Marks : 0.25

Which of the given options is NOT a learning strategy?



Options :

1. ✖ Cognitive
2. ✖ Metacognitive
3. ✔ Achievement
4. ✖ Social/affective

Question Number : 154 Question Id : 1626532186 Question Type : MCQ Option Shuffling : Yes Display Question Number : Yes  
Single Line Question Option : No Option Orientation : Vertical

Correct Marks : 1 Wrong Marks : 0.25

दिये गए विकल्पों में से कौन सीखने की रणनीति नहीं है?

Options :

1. ✖ संज्ञानात्मक
2. ✖ मेटा संज्ञानात्मक
3. ✔ उपलब्धि
4. ✖ सामाजिक / भावात्मक

Question Number : 155 Question Id : 1626532187 Question Type : MCQ Option Shuffling : Yes Display Question Number : Yes  
Single Line Question Option : No Option Orientation : Vertical

Correct Marks : 1 Wrong Marks : 0.25

Constructive feedback to the learners helps in:

Options :

1. ✖ pointing out their mistakes so that they can improve
2. ✔ diagnosing problems and guide learners to improve
3. ✖ demotivating the learners so that they improve
4. ✖ giving appropriate time and space to improve

Question Number : 155 Question Id : 1626532187 Question Type : MCQ Option Shuffling : Yes Display Question Number : Yes  
Single Line Question Option : No Option Orientation : Vertical

Correct Marks : 1 Wrong Marks : 0.25

रचनात्मक प्रतिपुष्टि शिक्षार्थियों की किस प्रकार मदद करती है?

Options :

1. ✖ उनकी गलतियों को इंगित करती है जिससे वे सुधार कर सकें।
2. ✔ समस्याओं का निदान करने में और शिक्षार्थियों को सुधार लाने हेतु मार्गदर्शन करने में
3. ✖ शिक्षार्थियों को हतोत्साहित करने में ताकि वे सुधार कर सकें
4. ✖ सुधार करने के लिए उचित समय और स्थान देने में

Question Number : 156 Question Id : 1626532188 Question Type : MCQ Option Shuffling : Yes Display Question Number : Yes  
Single Line Question Option : No Option Orientation : Vertical

Correct Marks : 1 Wrong Marks : 0.25

Using some of the aspects that are applicable to the previous language while learning a new one as part of the process of understanding or learning the new language is called:

Options :

1. ✖ overgeneralisation
2. ✔ language transfer
3. ✖ interference
4. ✖ fossilisation

Question Number : 156 Question Id : 1626532188 Question Type : MCQ Option Shuffling : Yes Display Question Number : Yes  
Single Line Question Option : No Option Orientation : Vertical

Correct Marks : 1 Wrong Marks : 0.25

'नई भाषा को समझने या सीखने की प्रक्रिया के एक हिस्से के रूप में एक नई भाषा सीखने के दौरान पिछली भाषा पर लागू होने वाले कुछ पहलुओं का उपयोग करना क्या कहलाता है?

Options :

1. ✖ अतिसामान्यीकरण
2. ✔ भाषा हस्तांतरण
3. ✖ व्यवधान
4. ✖ रूढ़िवादी होना

Question Number : 157 Question Id : 1626532189 Question Type : MCQ Option Shuffling : Yes Display Question Number : Yes  
Single Line Question Option : No Option Orientation : Vertical

Correct Marks : 1 Wrong Marks : 0.25

The role of strategies on second language acquisition relates to:

Options :

1. ✖ affective factors
2. ✔ cognitive factors
3. ✖ individual differences
4. ✖ psychomotor factors

Question Number : 157 Question Id : 1626532189 Question Type : MCQ Option Shuffling : Yes Display Question Number : Yes  
Single Line Question Option : No Option Orientation : Vertical

Correct Marks : 1 Wrong Marks : 0.25

दूसरी भाषा के उपार्जन में रणनीतियों की भूमिका \_\_\_\_\_ से संबंधित होती है।

Options :

1. ✖ भावात्मक कारक
2. ✔ संज्ञानात्मक कारक
3. ✖ व्यक्तिगत मतभेद
4. ✖ मनःप्रेरक कारक

Question Number : 158 Question Id : 1626532190 Question Type : MCQ Option Shuffling : Yes Display Question Number : Yes  
Single Line Question Option : No Option Orientation : Vertical

Correct Marks : 1 Wrong Marks : 0.25

Which of the following technology can be used to teach mathematics in rural areas?

Options :

1. ✖ Magic slate, book, magic lantern, blackboard
2. ✖ OHP, radio, slide rule video tape, television, calculator, computer, interactive board
3. ✔ Paper money and coins, beans, Bears, buttons and other small items
4. ✖ Clinometers, straws grouped by tens

Question Number : 158 Question Id : 1626532190 Question Type : MCQ Option Shuffling : Yes Display Question Number : Yes  
Single Line Question Option : No Option Orientation : Vertical

Correct Marks : 1 Wrong Marks : 0.25

ग्रामीण क्षेत्रों में गणित पढ़ाने के लिए निम्नलिखित में से कौन सी तकनीक का उपयोग किया जा सकता है?

Options :

1. ✖ मैजिक स्लेट, किताबें, मैजिक लालटेन, ब्लैकबोर्ड
2. ✖ OHP, रेडियो, स्लाइड रूल वीडियो टेप, टेलीविजन, कैलकुलेटर, कंप्यूटर, इंटरैक्टिव बोर्ड
3. ✔ कागजी मुद्रा और सिक्के, बीज, जई, बटन और अन्य छोटी वस्तुएं
4. ✖ ढालमापी, दस-दस के समूह में स्ट्रॉ

Question Number : 159 Question Id : 1626532191 Question Type : MCQ Option Shuffling : Yes Display Question Number : Yes  
Single Line Question Option : No Option Orientation : Vertical

Correct Marks : 1 Wrong Marks : 0.25

Where can we get digital mathematics textbooks?

Options :

1. ✖ Open universities
2. ✖ Private universities
3. ✔ NCERT
4. ✖ Library

Question Number : 159 Question Id : 1626532191 Question Type : MCQ Option Shuffling : Yes Display Question Number : Yes  
Single Line Question Option : No Option Orientation : Vertical

Correct Marks : 1 Wrong Marks : 0.25

हम डिजिटल गणित पाठ्यपुस्तक कहाँ प्राप्त कर सकते हैं?

Options :

1. ✖ खुले विश्वविद्यालयों में
2. ✖ निजी विश्वविद्यालयों में
3. ✔ NCERT (एनसीईआरटी) में
4. ✖ पुस्तकालय में

Question Number : 160 Question Id : 1626532192 Question Type : MCQ Option Shuffling : Yes Display Question Number : Yes  
Single Line Question Option : No Option Orientation : Vertical

Correct Marks : 1 Wrong Marks : 0.25



Which of the following are formative assessments for teaching learning mathematics?

Options :

1. ☒ Journal writing, role play, debate, group discussion
2. ☐ Unit test
3. ☐ Preliminary examination
4. ☐ Oral test, written test

Question Number : 160 Question Id : 1626532192 Question Type : MCQ Option Shuffling : Yes Display Question Number : Yes  
Single Line Question Option : No Option Orientation : Vertical

Correct Marks : 1 Wrong Marks : 0.25

गणित अध्ययन शिक्षण के लिए निम्नलिखित में से कौन रचनात्मक आंकलन है?

Options :

1. ☒ जर्नल लेखन, भूमिका अदायगी, बहस, समूह चर्चा
2. ☐ इकाई परीक्षा
3. ☐ प्रारंभिक परीक्षा
4. ☐ मौखिक परीक्षा, लिखित परीक्षा

Subject Related

Group Number :	9
Group Id :	162653109
Group Maximum Duration :	0
Group Minimum Duration :	0
Revisit allowed for view? :	No
Revisit allowed for edit? :	No
Break time:	0
Group Marks:	20
Revisit allowed for group Instructions? :	Yes
Maximum Instruction Time:	0
Minimum Instruction Time:	0

Subject Related

Section Id :	162653109
Section Number :	1
Section type :	Online
Mandatory or Optional:	Mandatory



Number of Questions:	20
Number of Questions to be attempted:	20
Section Marks:	20
Display Number Panel:	Yes
Group All Questions:	No

Sub-Section Number:	1
Sub-Section Id:	162653143
Question Shuffling Allowed :	Yes

Question Number : 161 Question Id : 1626532193 Question Type : MCQ Option Shuffling : Yes Display Question Number : Yes  
Single Line Question Option : No Option Orientation : Vertical

Correct Marks : 1 Wrong Marks : 0.25

Which of the following is a student centric approach of teaching mathematics?

Options :

1. ✖ Demonstration
2. ✔ Math-lab approach
3. ✖ Discovery approach
4. ✖ Inquiry teaching

Question Number : 161 Question Id : 1626532193 Question Type : MCQ Option Shuffling : Yes Display Question Number : Yes  
Single Line Question Option : No Option Orientation : Vertical

Correct Marks : 1 Wrong Marks : 0.25

निम्नलिखित में से कौन गणित पढ़ाने का छात्र-केंद्रित दृष्टिकोण है?

Options :

1. ✖ प्रतिपादन
2. ✔ गणित-लैब दृष्टिकोण
3. ✖ खोज दृष्टिकोण
4. ✖ पूछताछ शिक्षण

Question Number : 162 Question Id : 1626532194 Question Type : MCQ Option Shuffling : Yes Display Question Number : Yes  
Single Line Question Option : No Option Orientation : Vertical

Correct Marks : 1 Wrong Marks : 0.25

What is the disadvantage of Socratic method of teaching mathematics?

Options :

1. ☒ It assumes that everyone knows nothing
2. ☐ It involves students discussions
3. ☐ It is easy to understand
4. ☐ Students can exchange opinions and ideas

Question Number : 162 Question Id : 1626532194 Question Type : MCQ Option Shuffling : Yes Display Question Number : Yes  
Single Line Question Option : No Option Orientation : Vertical

Correct Marks : 1 Wrong Marks : 0.25

गणित पढ़ाने की सुकराती विधि का क्या नुकसान है?

Options :

1. ☒ यह मानता है कि किसी को भी कुछ भी नहीं आता।
2. ☐ इसमें छात्र परिचर्चा शामिल है।
3. ☐ इसे समझना आसान है।
4. ☐ छात्र मतों और विचारों का आदान-प्रदान कर सकते हैं।

Question Number : 163 Question Id : 1626532195 Question Type : MCQ Option Shuffling : Yes Display Question Number : Yes  
Single Line Question Option : No Option Orientation : Vertical

Correct Marks : 1 Wrong Marks : 0.25

\_\_\_\_\_ is about helping learners become global citizens with critical thinking skills, sensitivities and respect for the natural environment, and pragmatism towards the socio-economic environment.

Options :

1. ☐ Citizenship education
2. ☒ Environmental education
3. ☐ Education for sensitisation
4. ☐ Pragmatic education

Question Number : 163 Question Id : 1626532195 Question Type : MCQ Option Shuffling : Yes Display Question Number : Yes  
Single Line Question Option : No Option Orientation : Vertical

Correct Marks : 1 Wrong Marks : 0.25

\_\_\_\_\_ शिक्षार्थियों को महत्वपूर्ण सोच कौशल के साथ वैश्विक नागरिक बनने में मदद करने; प्राकृतिक पर्यावरण के प्रति संवेदनशील और उसका सम्मान करने तथा सामाजिक-आर्थिक वातावरण की दिशा में व्यावहारिक होने से संबंधित है।

Options :

1. ✖ नागरिकता शिक्षा
2. ✔ पर्यावरण शिक्षा
3. ✖ संवेदीकरण हेतु शिक्षा
4. ✖ व्यावहारिक शिक्षा

Question Number : 164 Question Id : 1626532196 Question Type : MCQ Option Shuffling : Yes Display Question Number : Yes  
Single Line Question Option : No Option Orientation : Vertical

Correct Marks : 1 Wrong Marks : 0.25

The curriculum of work experience, popularly known as \_\_\_\_\_ was reorganised to introduce a rigour and systematic gradation in the programme with the provision of direct participation of children in environment related fields, like planting and nurturing of trees, environmental sanitation, etc.

Options :

1. ✖ Environmental Consciousness Programme
2. ✔ Socially Useful Productive Work
3. ✖ Art of Healthy and Productive Living
4. ✖ Basic Education

Question Number : 164 Question Id : 1626532196 Question Type : MCQ Option Shuffling : Yes Display Question Number : Yes  
Single Line Question Option : No Option Orientation : Vertical

Correct Marks : 1 Wrong Marks : 0.25

कार्य जनित अनुभव का पाठ्यक्रम, जिसे \_\_\_\_\_ के नाम से जाना जाता है, को पर्यावरण से संबंधित क्षेत्रों, जैसे वृक्षारोपण और वृक्षों का पोषण, पर्यावरणीय स्वच्छता इत्यादि में बच्चों की सीधी भागीदारी के प्रावधान के साथ कार्यक्रम में दृढ़ता और व्यवस्थित क्रमिकता शुरू करने के लिए पुनर्गठित किया गया था।

Options :

1. ✖ पर्यावरण चेतना कार्यक्रम
2. ✔ सामाजिक रूप से उपयोगी उत्पादक कार्य
3. ✖ स्वस्थ और उत्पादक जीवन की कला
4. ✖ प्राथमिक शिक्षा

Question Number : 165 Question Id : 1626532197 Question Type : MCQ Option Shuffling : Yes Display Question Number : Yes  
Single Line Question Option : No Option Orientation : Vertical

Correct Marks : 1 Wrong Marks : 0.25

EVS in the elementary education is visualized as an integrated subject area which draws upon insights from \_\_\_\_\_.

Options :

1. ✖ physical, chemical and biological sciences
2. ✖ history, geography and civics
3. ✔ sciences, social studies and environmental education
4. ✖ protection and conservation studies

Question Number : 165 Question Id : 1626532197 Question Type : MCQ Option Shuffling : Yes Display Question Number : Yes  
Single Line Question Option : No Option Orientation : Vertical

Correct Marks : 1 Wrong Marks : 0.25

प्राथमिक शिक्षा में पर्यावरण अध्ययन (EVS) को एकीकृत विषय क्षेत्र के रूप में देखा जाता है जो \_\_\_\_\_ की अंतर्दृष्टि से प्रेरित होता है।

Options :

1. ✖ भौतिक, रासायनिक और जैविक विज्ञान
2. ✖ इतिहास, भूगोल और नागरिकशास्त्र
3. ✔ विज्ञान, सामाजिक अध्ययन और पर्यावरण शिक्षा
4. ✖ संरक्षण और परिरक्षण अध्ययन

Question Number : 166 Question Id : 1626532198 Question Type : MCQ Option Shuffling : Yes Display Question Number : Yes  
Single Line Question Option : No Option Orientation : Vertical

Correct Marks : 1 Wrong Marks : 0.25

Which of the following statements is NOT true?

Options :

1. ✔  
Environmental education encompasses a varied mix of subjects that makes it difficult to teach in the classroom and complex to assess and evaluate.
2. ✖  
Environmental education aims at bringing about a change in the cognitive, affective and psychomotor behaviours of children.
3. ✖  
Environmental education enables the development of self-confidence, positive attitudes and personal commitment towards environmental protection



4. ✖ Environmental education is an action-oriented, project centered and participatory process.

Question Number : 166 Question Id : 1626532198 Question Type : MCQ Option Shuffling : Yes Display Question Number : Yes  
Single Line Question Option : No Option Orientation : Vertical

Correct Marks : 1 Wrong Marks : 0.25

निम्नलिखित में से कौन सा कथन सत्य नहीं है?

Options :

1. ✔ पर्यावरण शिक्षा में विषयों के विभिन्न मिश्रण शामिल हैं जो इसे कक्षा में पढ़ाने में कठिन बनाते हैं तथा आकलन और मूल्यांकन करने में जटिल होते हैं।
2. ✖ पर्यावरण शिक्षा का उद्देश्य बच्चों के संज्ञानात्मक, भावात्मक और मनःप्रेरक व्यवहार में बदलाव लाना है।
3. ✖ पर्यावरण शिक्षा पर्यावरण संरक्षण के प्रति आत्मविश्वास, सकारात्मक दृष्टिकोण और व्यक्तिगत प्रतिबद्धता के विकास को सक्षम बनाता है।
4. ✖ यह एक क्रिया-उन्मुख, परियोजना केंद्रित, और सहभागिता प्रक्रिया है।

Question Number : 167 Question Id : 1626532199 Question Type : MCQ Option Shuffling : Yes Display Question Number : Yes  
Single Line Question Option : No Option Orientation : Vertical

Correct Marks : 1 Wrong Marks : 0.25

What should be the focus of teaching environmental sciences at primary level?

- a. To wxplore and experience different things
- b. To connect with natural and human made environment
- c. To understand man's dependence on the various components of environment
- d. To plan and organize learning experiences that would incorporate many different forms of learning situations

Options :

1. ✖ a and b
2. ✖ a, b and c
3. ✔ b, c and d
4. ✖ a and d

Question Number : 167 Question Id : 1626532199 Question Type : MCQ Option Shuffling : Yes Display Question Number : Yes  
Single Line Question Option : No Option Orientation : Vertical

Correct Marks : 1 Wrong Marks : 0.25



प्राथमिक स्तर पर पर्यावरण विज्ञान पढ़ाने का केंद्र-बिंदु क्या होना चाहिए?

- a. विभिन्न चीजों का अन्वेषण और अनुभव
- b. प्राकृतिक और मानव निर्मित वातावरण से जुड़ना
- c. पर्यावरण के विभिन्न घटकों पर मनुष्य की निर्भरता को समझना
- d. सीखने के अनुभवों की योजना बनाना और उन्हें व्यवस्थित करना, जिसमें सीखने की स्थितियों के कई अलग-अलग रूप शामिल हैं।

Options :

- 1. ✖ a और b
- 2. ✖ a, b और c
- 3. ✔ b, c और d
- 4. ✖ a और d

Question Number : 168 Question Id : 1626532200 Question Type : MCQ Option Shuffling : Yes Display Question Number : Yes  
Single Line Question Option : No Option Orientation : Vertical

Correct Marks : 1 Wrong Marks : 0.25

\_\_\_\_\_ teachers prepare the learners for wholesome social living by making them understand and analyse the subject matter to imbibe some essential knowledge about their social environment.

Options :

- 1. ✖ Sociology
- 2. ✔ Social science
- 3. ✖ Social work
- 4. ✖ Environmental science

Question Number : 168 Question Id : 1626532200 Question Type : MCQ Option Shuffling : Yes Display Question Number : Yes  
Single Line Question Option : No Option Orientation : Vertical

Correct Marks : 1 Wrong Marks : 0.25

\_\_\_\_\_ के शिक्षक, शिक्षार्थियों को उनके सामाजिक परिवेश की कुछ आवश्यक जानकारी को आत्मसात करने के लिए, विषय वस्तु को समझने और विश्लेषण करने में सक्षम बनाकर स्वस्थ सामाजिक जीवन के लिए तैयार करते हैं।

Options :

- 1. ✖ समाज शास्त्र
- 2. ✔ सामाजिक विज्ञान

3. ✖ सामाजिक कार्य

4. ✖ पर्यावरण विज्ञान

Question Number : 169 Question Id : 1626532201 Question Type : MCQ Option Shuffling : Yes Display Question Number : Yes  
Single Line Question Option : No Option Orientation : Vertical

Correct Marks : 1 Wrong Marks : 0.25

What are the major differences between social sciences and social studies?

- a. Social science provides knowledge about human affairs while social studies provides insight into man and society
- b. Social science represents an adult approach while social studies represents a child's approach
- c. Social science provides guidance in selected learning portions while social studies discovers truths about human relationships

Options :

- 1. ✔ a and b are correct but c is not correct
- 2. ✖ a is correct but b and c are not correct
- 3. ✖ a and b are correct
- 4. ✖ a and b are incorrect while c is correct

Question Number : 169 Question Id : 1626532201 Question Type : MCQ Option Shuffling : Yes Display Question Number : Yes  
Single Line Question Option : No Option Orientation : Vertical

Correct Marks : 1 Wrong Marks : 0.25

सामाजिक विज्ञान और सामाजिक अध्ययन में प्रमुख अंतर क्या हैं?

- a. सामाजिक विज्ञान मानवीय कार्यों का ज्ञान देता है जबकि सामाजिक अध्ययन मनुष्य और समाज में अंतर्दृष्टि देता है।
- b. सामाजिक विज्ञान वयस्क दृष्टिकोण का प्रतिनिधित्व करता है जबकि सामाजिक अध्ययन बाल दृष्टिकोण का प्रतिनिधित्व करता है।
- c. सामाजिक विज्ञान चुनिन्दा शिक्षण भागों में मार्गदर्शन प्रदान करता है जबकि सामाजिक अध्ययन मानव संबंधों के बारे में सच्चाइयों की खोज करता है।

Options :

- 1. ✔ a और b सही हैं लेकिन c सही नहीं है
- 2. ✖ a सही है लेकिन b तथा c सही नहीं हैं
- 3. ✖ a और b सही हैं
- 4. ✖ a, b गलत हैं, c सही है

Question Number : 170 Question Id : 1626532202 Question Type : MCQ Option Shuffling : Yes Display Question Number : Yes  
Single Line Question Option : No Option Orientation : Vertical

Correct Marks : 1 Wrong Marks : 0.25

For teaching social studies, a teacher adopts play way method, project work, excursion and observation method. These are \_\_\_\_\_ approaches.

Options :

1. ✖ group directed
2. ✖ teacher directed
3. ✖ peer directed
4. ✔ learner directed

Question Number : 170 Question Id : 1626532202 Question Type : MCQ Option Shuffling : Yes Display Question Number : Yes  
Single Line Question Option : No Option Orientation : Vertical

Correct Marks : 1 Wrong Marks : 0.25

सामाजिक अध्ययन के अध्यापन के लिए शिक्षक खेल विधि, परियोजना कार्य, भ्रमण और निरीक्षण विधि अपनाता है। ये \_\_\_\_\_ दृष्टिकोण हैं।

Options :

1. ✖ समूह निर्देशित
2. ✖ शिक्षक निर्देशित
3. ✖ समकक्ष निर्देशित
4. ✔ शिक्षार्थी निर्देशित

Question Number : 171 Question Id : 1626532203 Question Type : MCQ Option Shuffling : Yes Display Question Number : Yes  
Single Line Question Option : No Option Orientation : Vertical

Correct Marks : 1 Wrong Marks : 0.25

Which of the following can be categorized as performing art?

Options :

1. ✖ Painting
2. ✖ Sculpture
3. ✔ Dance
4. ✖ Craft work

Question Number : 171 Question Id : 1626532203 Question Type : MCQ Option Shuffling : Yes Display Question Number : Yes  
Single Line Question Option : No Option Orientation : Vertical

Correct Marks : 1 Wrong Marks : 0.25

निम्नलिखित में से किसे प्रदर्शन कला के रूप में वर्गीकृत किया जा सकता है?

Options :

1. ✖ चित्र
2. ✖ मूर्ति
3. ✔ नृत्य
4. ✖ शिल्प कार्य

Question Number : 172 Question Id : 1626532204 Question Type : MCQ Option Shuffling : Yes Display Question Number : Yes  
Single Line Question Option : No Option Orientation : Vertical

Correct Marks : 1 Wrong Marks : 0.25

Why do schools need to pay attention to arts and drama subjects?

Options :

1. ✖ It helps student understand the importance of art and drama subject
2. ✖ It removes stage fear of students
3. ✔ It helps them discover their own abilities and potential
4. ✖ It helps teachers engage students in different activities

Question Number : 172 Question Id : 1626532204 Question Type : MCQ Option Shuffling : Yes Display Question Number : Yes  
Single Line Question Option : No Option Orientation : Vertical

Correct Marks : 1 Wrong Marks : 0.25

विद्यालयों को कला और नाटक विषयों पर क्यों ध्यान देना चाहिए?

Options :

1. ✖ यह छात्रों को कला और नाटक विषय के महत्व को समझने में मदद करेगा
2. ✖ यह छात्रों के मन से मंच के डर को हटा देगा
3. ✔ इससे उन्हें अपनी क्षमताओं और योग्यताओं को खोजने में मदद मिलेगी
4. ✖ यह छात्रों को गतिविधियों में शामिल करवाने में शिक्षकों की मदद करेगा



Question Number : 173 Question Id : 1626532205 Question Type : MCQ Option Shuffling : Yes Display Question Number : Yes  
Single Line Question Option : No Option Orientation : Vertical  
Correct Marks : 1 Wrong Marks : 0.25

‘The students performed a historical play.’ This statement shows that:

Options :

1. ✖ there is a correlation between arts and history
2. ✖ studying history is important to perform arts
3. ✖ arts is helpful to study history
4. ✔ This helps to develop cognitive and psycho motor abilities

Question Number : 173 Question Id : 1626532205 Question Type : MCQ Option Shuffling : Yes Display Question Number : Yes  
Single Line Question Option : No Option Orientation : Vertical  
Correct Marks : 1 Wrong Marks : 0.25

‘छात्र एक ऐतिहासिक नाट्य प्रदर्शन करते हैं’, यह कथन दिखाता है:

Options :

1. ✖ कला और इतिहास के बीच एक सहसंबंध है
2. ✖ कला का प्रदर्शन करने के लिए इतिहास का अध्ययन महत्वपूर्ण है
3. ✖ कला इतिहास का अध्ययन करने में सहायक है
4. ✔ यह संज्ञानात्मक और मनोप्रेरणा क्षमताओं को विकसित करने में मदद करता है

Question Number : 174 Question Id : 1626532206 Question Type : MCQ Option Shuffling : Yes Display Question Number : Yes  
Single Line Question Option : No Option Orientation : Vertical  
Correct Marks : 1 Wrong Marks : 0.25

Which of the following helps in improving flexibility, strength, balance and endurance among the students?

Options :

1. ✔ Yoga
2. ✖ Pranayam
3. ✖ Meditation
4. ✖ Warm-up exercises



Question Number : 174 Question Id : 1626532206 Question Type : MCQ Option Shuffling : Yes Display Question Number : Yes  
Single Line Question Option : No Option Orientation : Vertical

Correct Marks : 1 Wrong Marks : 0.25

निम्नलिखित में से कौन छात्रों में नम्रता, शक्ति, संतुलन और सहनशक्ति में सुधार लाने में सहायक होता है?

Options :

1. ☒ योग
2. ☐ प्राणायाम
3. ☐ ध्यान
4. ☐ वार्म-अप व्यायाम

Question Number : 175 Question Id : 1626532207 Question Type : MCQ Option Shuffling : Yes Display Question Number : Yes  
Single Line Question Option : No Option Orientation : Vertical

Correct Marks : 1 Wrong Marks : 0.25

How can we motivate students to do daily exercise?

Options :

1. ☐ By showing them videos of doing exercise
2. ☐ By giving lectures on benefits of exercise
3. ☐ By taking interview of a doctor about health and exercise
4. ☒ By exercising with them

Question Number : 175 Question Id : 1626532207 Question Type : MCQ Option Shuffling : Yes Display Question Number : Yes  
Single Line Question Option : No Option Orientation : Vertical

Correct Marks : 1 Wrong Marks : 0.25

हम छात्रों को दैनिक अभ्यास करने के लिए कैसे प्रेरित कर सकते हैं?

Options :

1. ☐ अभ्यास करने के वीडियो दिखाकर
2. ☐ व्यायाम के लाभ पर व्याख्यान देकर
3. ☐ स्वास्थ्य और व्यायाम के बारे में एक डॉक्टर के साक्षात्कार ले कर
4. ☒ उनके साथ अभ्यास कर

Question Number : 176 Question Id : 1626532208 Question Type : MCQ Option Shuffling : Yes Display Question Number : Yes  
Single Line Question Option : No Option Orientation : Vertical

Correct Marks : 1 Wrong Marks : 0.25

State whether or not you agree with the following statements.

Science, geography, history, civics, environmental science and drawing are subjects that have correlation with gardening. They are helpful in stating importance and developing interest in gardening.

Options :

1. ☒ I strongly agree with the statements
2. ☐ I agree with the statements
3. ☐ I strongly disagree with the statements
4. ☐ I disagree with the statements

Question Number : 176 Question Id : 1626532208 Question Type : MCQ Option Shuffling : Yes Display Question Number : Yes  
Single Line Question Option : No Option Orientation : Vertical

Correct Marks : 1 Wrong Marks : 0.25

निम्नलिखित कथनों से अपनी सहमति अथवा असहमति दर्शाएँ।

विज्ञान, भूगोल, इतिहास, नागरिक शास्त्र, पर्यावरण विज्ञान, चित्रकारी विषयों का बागवानी के साथ सहसंबंध है। ये बागवानी का महत्व बताने और उसमें रुचि उत्पन्न करने में सहायक होते हैं।

Options :

1. ☒ मैं इस कथन से दृढ़तापूर्वक सहमत हूँ।
2. ☐ मैं इस कथन से सहमत हूँ।
3. ☐ मैं इस कथन से दृढ़तापूर्वक असहमत हूँ।
4. ☐ मैं इस कथन से असहमत हूँ।

Question Number : 177 Question Id : 1626532209 Question Type : MCQ Option Shuffling : Yes Display Question Number : Yes  
Single Line Question Option : No Option Orientation : Vertical

Correct Marks : 1 Wrong Marks : 0.25

फ्रायड के साइको-सेक्सुअल सिद्धांत के अनुसार, 12 साल और उससे ऊपर की आयु को निम्नलिखित में से किस शब्द से संदर्भित किया जाता है?

Options :

1. ☐ गुदा
2. ☐ लैंगिक

3. ✖ प्रसुप्ति

4. ✔ जनन

Question Number : 177 Question Id : 1626532209 Question Type : MCQ Option Shuffling : Yes Display Question Number : Yes  
Single Line Question Option : No Option Orientation : Vertical

Correct Marks : 1 Wrong Marks : 0.25

According to the Psychosexual Theory by Freud, the age of 12 years and above is referred to by which of these terms?

Options :

1. ✖ Anal

2. ✖ Phallic

3. ✖ Latency

4. ✔ Genital

Question Number : 178 Question Id : 1626532210 Question Type : MCQ Option Shuffling : Yes Display Question Number : Yes  
Single Line Question Option : No Option Orientation : Vertical

Correct Marks : 1 Wrong Marks : 0.25

Erickson's theory differs from that of Freud because it lays emphasis on:

Options :

1. ✔ influence of society and culture on development

2. ✖ influence of genetic makeup of the individual on development

3. ✖ Influence of biological changes on development

4. ✖ Influence of physiological changes on development

Question Number : 178 Question Id : 1626532210 Question Type : MCQ Option Shuffling : Yes Display Question Number : Yes  
Single Line Question Option : No Option Orientation : Vertical

Correct Marks : 1 Wrong Marks : 0.25

एरिकसन का सिद्धांत फ्रायड से अलग है क्योंकि यह \_\_\_\_\_ पर जोर देता है।

Options :

1. ✔ विकास पर समाज और संस्कृति के प्रभाव

2. ✖ विकास पर व्यक्ति की आनुवांशिक रचना का प्रभाव

3. ✖ विकास पर जैविक परिवर्तन का प्रभाव

4. ✖ विकास पर शारीरिक परिवर्तन का प्रभाव

Question Number : 179 Question Id : 1626532211 Question Type : MCQ Option Shuffling : Yes Display Question Number : Yes  
Single Line Question Option : No Option Orientation : Vertical

Correct Marks : 1 Wrong Marks : 0.25

Preference to perform tasks like eating, picking up an object, kicking a ball etc, using one side of the body is called as \_\_\_\_\_.

Options :

1. ✖ Cerebral collosum

2. ✔ Cerebral lateralisation

3. ✖ Cerebral palsy

4. ✖ Cerebral cortex

Question Number : 179 Question Id : 1626532211 Question Type : MCQ Option Shuffling : Yes Display Question Number : Yes  
Single Line Question Option : No Option Orientation : Vertical

Correct Marks : 1 Wrong Marks : 0.25

शरीर के एक तरफ से खाने, कोई वस्तु उठाने, गेंद को मारने जैसे कार्यो को करने की प्राथमिकता किशोरावस्था को दर्शाती है और इसे \_\_\_\_\_ कहा जाता है।

Options :

1. ✖ प्रमस्तिष्क कोलोसम

2. ✔ प्रमस्तिष्क पार्श्वकरण

3. ✖ प्रमस्तिष्क पक्षाघात

4. ✖ प्रमस्तिष्क बल्कुट

Question Number : 180 Question Id : 1626532212 Question Type : MCQ Option Shuffling : Yes Display Question Number : Yes  
Single Line Question Option : No Option Orientation : Vertical

Correct Marks : 1 Wrong Marks : 0.25

Which of the following body parts actually overshoots adult levels in childhood and then declines to adult levels later in adulthood?

Options :

1. ✖ The head and the brain

2. ✖ The muscular system



3. ✓ The lymphoid system

4. ✗ The skeletal system

Question Number : 180 Question Id : 1626532212 Question Type : MCQ Option Shuffling : Yes Display Question Number : Yes  
Single Line Question Option : No Option Orientation : Vertical

Correct Marks : 1 Wrong Marks : 0.25

निम्नलिखित में से शरीर का कौन सा भाग वास्तव में बचपन में प्रौढ़ स्तरों को पार कर जाता है और फिर प्रौढ़ावस्था में प्रौढ़ स्तर से नीचे गिर जाता है?

Options :

1. ✗ सिर और मस्तिष्क

2. ✗ मांसपेशी प्रणाली

3. ✓ लसीकाभ प्रणाली

4. ✗ कंकाल प्रणाली

#### Subject Related

Group Number :	10
Group Id :	162653110
Group Maximum Duration :	0
Group Minimum Duration :	120
Revisit allowed for view? :	No
Revisit allowed for edit? :	No
Break time:	0
Group Marks:	20
Revisit allowed for group Instructions? :	Yes
Maximum Instruction Time:	0
Minimum Instruction Time:	0

#### Subject Related

Section Id :	162653110
Section Number :	1
Section type :	Online
Mandatory or Optional:	Mandatory
Number of Questions:	20
Number of Questions to be attempted:	20
Section Marks:	20
Display Number Panel:	Yes
Group All Questions:	No



Sub-Section Number: 1  
Sub-Section Id: 162653144  
Question Shuffling Allowed : Yes

Question Number : 181 Question Id : 1626532213 Question Type : MCQ Option Shuffling : Yes Display Question Number : Yes  
Single Line Question Option : No Option Orientation : Vertical

Correct Marks : 1 Wrong Marks : 0.25

According to Vygotsky, development should be evaluated from the perspective of four interrelated levels interacting in the child's environment. Which of the following is NOT one of them?

Options :

1. ✖ Phylogenetic
2. ✖ Ontogenetic
3. ✔ Sociogenetic
4. ✖ Microgenetic

Question Number : 181 Question Id : 1626532213 Question Type : MCQ Option Shuffling : Yes Display Question Number : Yes  
Single Line Question Option : No Option Orientation : Vertical

Correct Marks : 1 Wrong Marks : 0.25

वाईगोत्स्की के अनुसार, विकास का मूल्यांकन बच्चे के परिवेश में बातचीत से जुड़े चार पारस्परिक स्तरों के परिप्रेक्ष्य से किया जाना चाहिए। निम्नलिखित में से कौन उनमें से एक नहीं है?

Options :

1. ✖ वंशावली
2. ✖ व्यक्ति विकास
3. ✔ सामाजिक आनुवांशिकी
4. ✖ सूक्ष्म आनुवांशिकी

Question Number : 182 Question Id : 1626532214 Question Type : MCQ Option Shuffling : Yes Display Question Number : Yes  
Single Line Question Option : No Option Orientation : Vertical

Correct Marks : 1 Wrong Marks : 0.25

Recalling items from the same category together in a recall task is referred to as:

Options :

1. ✖ categorising
2. ✔ clustering

3. ✖ combining

4. ✖ classifying

Question Number : 182 Question Id : 1626532214 Question Type : MCQ Option Shuffling : Yes Display Question Number : Yes  
Single Line Question Option : No Option Orientation : Vertical

Correct Marks : 1 Wrong Marks : 0.25

एक स्मरण कार्य में एक ही श्रेणी से सम्बंधित वस्तुओं को याद करने को \_\_\_\_\_ के रूप में संदर्भित किया जाता है।

Options :

1. ✖ श्रेणीबद्ध करने

2. ✔ समूहित करने

3. ✖ संयोजित करने

4. ✖ वर्गीकृत करने

Question Number : 183 Question Id : 1626532215 Question Type : MCQ Option Shuffling : Yes Display Question Number : Yes  
Single Line Question Option : No Option Orientation : Vertical

Correct Marks : 1 Wrong Marks : 0.25

Which of the following is appropriate option?

Options :

1. ✔ School location should be safe and protected from any hazard

2. ✖ School building should be in proper shape so that principal can pay attention to all classes

3. ✖ Classrooms should be big and proper ventilation should be seen

4. ✖ School premises should have been surrounded by many trees

Question Number : 183 Question Id : 1626532215 Question Type : MCQ Option Shuffling : Yes Display Question Number : Yes  
Single Line Question Option : No Option Orientation : Vertical

Correct Marks : 1 Wrong Marks : 0.25

निम्नलिखित में से कौन सा विकल्प उचित है?

Options :

1. ✔ विद्यालय की अवस्थिति किसी भी खतरे से सुरक्षित और संरक्षित होनी चाहिए

2. ✖

विद्यालय की इमारत उचित आकार में होनी चाहिए ताकि प्राचार्य सभी कक्षाओं पर ध्यान दे सकें

3. ✖

कक्षाएं बड़ी और उचित वातायन वाली होनी चाहिए

4. ✖

विद्यालय परिसर के चारों ओर कई पेड़ होने चाहिए

Question Number : 184 Question Id : 1626532216 Question Type : MCQ Option Shuffling : Yes Display Question Number : Yes  
Single Line Question Option : No Option Orientation : Vertical

Correct Marks : 1 Wrong Marks : 0.25

When should school renovation be done?

Options :

1. ✖

During recess

2. ✖

Before the start of school

3. ✖

After the end of school

4. ✔

During vacations

Question Number : 184 Question Id : 1626532216 Question Type : MCQ Option Shuffling : Yes Display Question Number : Yes  
Single Line Question Option : No Option Orientation : Vertical

Correct Marks : 1 Wrong Marks : 0.25

विद्यालय का नवोन्मेषण कब किया जाना चाहिए?

Options :

1. ✖

मध्यावकाश के दौरान

2. ✖

विद्यालय खुलने से पहले

3. ✖

विद्यालय बंद होने के बाद

4. ✔

छुट्टियों में

Question Number : 185 Question Id : 1626532217 Question Type : MCQ Option Shuffling : Yes Display Question Number : Yes  
Single Line Question Option : No Option Orientation : Vertical

Correct Marks : 1 Wrong Marks : 0.25

What are the hazards of keeping chemicals in the open in science labs?

Options :

1. ✖ It may cause practical arrangement problems for teachers
2. ✔ It may come in contact with air and harm students by reacting with air
3. ✖ It may get mixed with other chemicals
4. ✖ It may cause a financial loss to the school

Question Number : 185 Question Id : 1626532217 Question Type : MCQ Option Shuffling : Yes Display Question Number : Yes  
Single Line Question Option : No Option Orientation : Vertical

Correct Marks : 1 Wrong Marks : 0.25

विज्ञान प्रयोगशाला में रसायनों को खुले में रखने के क्या खतरे हैं?

Options :

1. ✖ यह शिक्षकों के लिए व्यावहारिक व्यवस्था की समस्याएँ पैदा कर सकता है।
2. ✔ यह हवा के संपर्क में आ सकता है और प्रतिक्रिया कर छात्रों को नुकसान पहुंचा सकता है।
3. ✖ यह अन्य रसायनों के साथ मिश्रित हो सकता है।
4. ✖ इससे स्कूल के लिए वित्तीय नुकसान हो सकता है।

Question Number : 186 Question Id : 1626532218 Question Type : MCQ Option Shuffling : Yes Display Question Number : Yes  
Single Line Question Option : No Option Orientation : Vertical

Correct Marks : 1 Wrong Marks : 0.25

How can we ensure safety of students, when it comes to drinking water?

Options :

1. ✖ By telling them to bring their own sterilised water from home
2. ✖ By cleaning the drinking water area
3. ✖ By cleaning the water tanks from time to time
4. ✔ By using water filters in schools

Question Number : 186 Question Id : 1626532218 Question Type : MCQ Option Shuffling : Yes Display Question Number : Yes  
Single Line Question Option : No Option Orientation : Vertical

Correct Marks : 1 Wrong Marks : 0.25

हम छात्रों के लिए पेयजल से सम्बंधित सुरक्षा कैसे सुनिश्चित कर सकते हैं?

Options :



1. ✖ उन्हें खुद के लिए घर से विसंक्रमित पानी लाने के लिए कह कर
2. ✖ पेयजल क्षेत्र की सफाई कर
3. ✖ समय-समय पर पानी की टंकी की सफाई कर
4. ✔ स्कूल में पानी के फिल्टर का उपयोग कर

Question Number : 187 Question Id : 1626532219 Question Type : MCQ Option Shuffling : Yes Display Question Number : Yes  
Single Line Question Option : No Option Orientation : Vertical

Correct Marks : 1 Wrong Marks : 0.25

How will you protect students from natural disasters?

Options :

1. ✖ By giving them books to read about disaster management
2. ✔ By organising mock drill practices
3. ✖ By keeping school safe from disasters
4. ✖ By involving parents in such prevention activities

Question Number : 187 Question Id : 1626532219 Question Type : MCQ Option Shuffling : Yes Display Question Number : Yes  
Single Line Question Option : No Option Orientation : Vertical

Correct Marks : 1 Wrong Marks : 0.25

आप प्राकृतिक आपदाओं से छात्रों की रक्षा कैसे करेंगे?

Options :

1. ✖ उन्हें आपदा प्रबंधन के बारे में पढ़ने के लिए किताबें देकर
2. ✔ मॉक ड्रिल का अभ्यास करवा कर
3. ✖ स्कूल को आपदाओं से सुरक्षित रखकर
4. ✖ ऐसी निवारण गतिविधियों में अभिभावकों को शामिल कर

Question Number : 188 Question Id : 1626532220 Question Type : MCQ Option Shuffling : Yes Display Question Number : Yes  
Single Line Question Option : No Option Orientation : Vertical

Correct Marks : 1 Wrong Marks : 0.25

How can we protect students from strangers?



Options :

1. ✖ By ensuring that strangers are given valid gate pass.
2. ✖ By using CCTV cameras
3. ✖ By restricting entry of strangers
4. ✔ By making students aware of the threats of strangers

Question Number : 188 Question Id : 1626532220 Question Type : MCQ Option Shuffling : Yes Display Question Number : Yes  
Single Line Question Option : No Option Orientation : Vertical

Correct Marks : 1 Wrong Marks : 0.25

हम अजनबियों से छात्रों की रक्षा कैसे कर सकते हैं?

Options :

1. ✖ यह सुनिश्चित करके कि अजनबियों को वैध गेट पास दिया जाता है।
2. ✖ सीसीटीवी कैमरों का उपयोग कर
3. ✖ अजनबियों के प्रवेश को प्रतिबंधित कर
4. ✔ अजनबियों से खतरों के बारे में छात्रों को जागरूक करके

Question Number : 189 Question Id : 1626532221 Question Type : MCQ Option Shuffling : Yes Display Question Number : Yes  
Single Line Question Option : No Option Orientation : Vertical

Correct Marks : 1 Wrong Marks : 0.25

Psychologically, \_\_\_\_\_ balances the practical and intellectual part of education. It helps develop skills, values and dignity for work and also, children can apply their minds to something constructive/productive.

Options :

1. ✖ work environment
2. ✔ work education
3. ✖ work culture
4. ✖ work experience

Question Number : 189 Question Id : 1626532221 Question Type : MCQ Option Shuffling : Yes Display Question Number : Yes  
Single Line Question Option : No Option Orientation : Vertical

Correct Marks : 1 Wrong Marks : 0.25

मनोवैज्ञानिक रूप से, \_\_\_\_\_ शिक्षा के व्यावहारिक और बौद्धिक हिस्से को संतुलित करेगा। इससे काम के लिए कौशल, मूल्य और गरिमा विकसित करने में मदद मिलेगी और साथ ही, बच्चे कुछ रचनात्मक / उत्पादक कार्यों के लिए अपने मस्तिष्क का इस्तेमाल कर सकते हैं।

Options :

1. ✖ कार्य वातावरण
2. ✔ कार्य शिक्षा
3. ✖ कार्य संस्कृति
4. ✖ कार्य का अनुभव

Question Number : 190 Question Id : 1626532222 Question Type : MCQ Option Shuffling : Yes Display Question Number : Yes  
Single Line Question Option : No Option Orientation : Vertical

Correct Marks : 1 Wrong Marks : 0.25

Which of the following is NOT a function that a teacher teaching work education in school is expected to perform?

Options :

1. ✖ Prepare students for involvement in activities
2. ✔ Observe and evaluate students for behavioral change
3. ✖ Explain the concept, importance and relevance of related areas and implications of personal and social development
4. ✖ Select activities based on the principles given in the guidelines

Question Number : 190 Question Id : 1626532222 Question Type : MCQ Option Shuffling : Yes Display Question Number : Yes  
Single Line Question Option : No Option Orientation : Vertical

Correct Marks : 1 Wrong Marks : 0.25

विद्यालय में कार्य शिक्षा पढ़ाने वाले शिक्षकों से निम्नलिखित में से किस कार्य को करने की उम्मीद नहीं की जाती है?

Options :

1. ✖ गतिविधियों में शामिल होने के लिए छात्रों को तैयार करना
2. ✔ व्यवहार परिवर्तन के लिए छात्रों का निरीक्षण और मूल्यांकन करना
3. ✖ संबंधित क्षेत्रों में अवधारणा, महत्व, प्रासंगिकता तथा व्यक्तिगत और सामाजिक विकास पर निहितार्थ बताना
4. ✖ दिशानिर्देशों में दिए गए सिद्धांतों के आधार पर गतिविधियों का चयन करना

Question Number : 191 Question Id : 1626532223 Question Type : MCQ Option Shuffling : Yes Display Question Number : Yes  
Single Line Question Option : No Option Orientation : Vertical

Correct Marks : 1 Wrong Marks : 0.25

Nutrition education, health education, population education, culture and recreation, value development, media and mass communication, information technology, consumer education and environment are the core areas of \_\_\_\_\_ at the secondary school stage of CBSE curriculum.

Options :

1. ☒ work education
2. ☐ social sciences
3. ☐ environmental education
4. ☐ value education

Question Number : 191 Question Id : 1626532223 Question Type : MCQ Option Shuffling : Yes Display Question Number : Yes  
Single Line Question Option : No Option Orientation : Vertical

Correct Marks : 1 Wrong Marks : 0.25

पोषण शिक्षा, स्वास्थ्य शिक्षा, जनसंख्या शिक्षा, संस्कृति और मनोरंजन, मूल्य विकास, मीडिया और मास संचार, सूचना प्रौद्योगिकी, उपभोक्ता शिक्षा और पर्यावरण, CBSE पाठ्यक्रम के माध्यमिक विद्यालय चरण में \_\_\_\_\_ के मुख्य क्षेत्र हैं।

Options :

1. ☒ कार्य शिक्षा
2. ☐ सामाजिक विज्ञान
3. ☐ पर्यावरण शिक्षा
4. ☐ मूल्य शिक्षा

Question Number : 192 Question Id : 1626532224 Question Type : MCQ Option Shuffling : Yes Display Question Number : Yes  
Single Line Question Option : No Option Orientation : Vertical

Correct Marks : 1 Wrong Marks : 0.25

Teachers' self-perceptions of their own teaching effectiveness is known as teachers' \_\_\_\_\_.

Options :

1. ☐ self-confidence
2. ☐ self-respect
3. ☒ self-concept

4. ✖ self-criticism

Question Number : 192 Question Id : 1626532224 Question Type : MCQ Option Shuffling : Yes Display Question Number : Yes  
Single Line Question Option : No Option Orientation : Vertical

Correct Marks : 1 Wrong Marks : 0.25

शिक्षकों की अपनी स्वयं की शिक्षण प्रभावशीलता की आत्म-धारणाओं को शिक्षक के \_\_\_\_\_ के रूप में जाना जाता है।

Options :

1. ✖ आत्मविश्वास

2. ✖ आत्म-सम्मान

3. ✔ स्व-अवधारणा

4. ✖ आत्म-आलोचना

Question Number : 193 Question Id : 1626532225 Question Type : MCQ Option Shuffling : Yes Display Question Number : Yes  
Single Line Question Option : No Option Orientation : Vertical

Correct Marks : 1 Wrong Marks : 0.25

What are the principles of in-service education?

- a. An in-service programme should provide for keeping abreast with research and advances in education
- b. An in-service programme would not be most effective if not planned and initiated cooperatively
- c. All school personnel do not necessarily need in-service education
- d. Improving the quality of instruction is the immediate and long range objective of in-service education.

Options :

1. ✖ d, c, and b

2. ✖ a, c, and d

3. ✖ a, b, and c

4. ✔ a, b and d

Question Number : 193 Question Id : 1626532225 Question Type : MCQ Option Shuffling : Yes Display Question Number : Yes  
Single Line Question Option : No Option Orientation : Vertical

Correct Marks : 1 Wrong Marks : 0.25



सेवाकालीन शिक्षा के सिद्धांत क्या हैं?

- a. शिक्षा में अनुसंधान और प्रगति के साथ सामान रूप से अग्रसर रखने के लिए सेवाकालीन कार्यक्रम प्रदान किया जाना चाहिए
- b. यदि सेवाकालीन कार्यक्रम योजनाबद्ध नहीं है और सहकारी रूप से शुरू नहीं किया गया है तो यह अधिक प्रभावी नहीं होगा
- c. सभी विद्यालय कर्मियों को सेवाकालीन शिक्षा की आवश्यकता नहीं होती है
- d. निर्देश की गुणवत्ता में सुधार करना सेवाकालीन शिक्षा की तत्काल और लंबी दूरी का लक्ष्य है।

Options :

- 1. ✗ d, c और b
- 2. ✗ a, c और d
- 3. ✗ a, b और c
- 4. ✓ a, b और d

Question Number : 194 Question Id : 1626532226 Question Type : MCQ Option Shuffling : Yes Display Question Number : Yes  
Single Line Question Option : No Option Orientation : Vertical

Correct Marks : 1 Wrong Marks : 0.25

Why is parent and community engagement in school important?

Options :

- 1. ✓ To work together to maximise student learning
- 2. ✗ To deliver powerful outcomes for the school
- 3. ✗ To reduce teachers' work load collectively
- 4. ✗ To improve students' academic achievement

Question Number : 194 Question Id : 1626532226 Question Type : MCQ Option Shuffling : Yes Display Question Number : Yes  
Single Line Question Option : No Option Orientation : Vertical

Correct Marks : 1 Wrong Marks : 0.25

विद्यालय में अभिभावक और सामुदायिक भागीदारी क्यों महत्वपूर्ण है?

Options :

- 1. ✓ विद्यार्थी अध्ययन को अधिकतम करने के लिए मिलकर काम करना
- 2. ✗ विद्यालय के लिए उत्कृष्ट परिणाम प्राप्त करने हेतु



3. ✖ शिक्षकों के कार्य भार को सामूहिक रूप से कम करने के लिए

4. ✖ छात्रों की शैक्षिक उपलब्धि में सुधार लाने के लिए

Question Number : 195 Question Id : 1626532227 Question Type : MCQ Option Shuffling : Yes Display Question Number : Yes  
Single Line Question Option : No Option Orientation : Vertical

Correct Marks : 1 Wrong Marks : 0.25

PTA is formed to perform distinct functions. They are:

- a. raising money to help both the running and the activities of the school
- b. explaining the roles of the school to the community
- c. suggesting improvement in discipline and moral standards of the schools
- d. putting forth parents' points of view to the teachers concerning academic modifications and curriculum reforms

Options :

1. ✖ a and d

2. ✖ c and b

3. ✖ a, b and d

4. ✔ a, b and c

Question Number : 195 Question Id : 1626532227 Question Type : MCQ Option Shuffling : Yes Display Question Number : Yes  
Single Line Question Option : No Option Orientation : Vertical

Correct Marks : 1 Wrong Marks : 0.25

अभिभावक-शिक्षक संघ (पीटीए) का गठन सुनिश्चित कार्यों को करने के लिए किया जाता है। वे हैं:

- a. विद्यालय के सुचारु रूप से चलने और गतिविधियों दोनों में सहायता के लिए धन जुटाने के लिए
- b. समुदाय के प्रति विद्यालय की भूमिकाओं की व्याख्या करने के लिए
- c. स्कूलों में अनुशासन और नैतिक मानकों पर सुधार का सुझाव देने के लिए
- d. शैक्षिक संशोधन और पाठ्यचर्या सुधार के संबंध में शिक्षकों को अभिभावक का चतुर्थ दृष्टिकोण देने के लिए

Options :

1. ✖ a और d

2. ✖ c और b

3. ✖ a, b और d

4. ✔ a, b और c

Question Number : 196 Question Id : 1626532228 Question Type : MCQ Option Shuffling : Yes Display Question Number : Yes  
Single Line Question Option : No Option Orientation : Vertical

Correct Marks : 1 Wrong Marks : 0.25

The critical managerial functions of a modern age class teacher in elementary education are mainly:

Options :

1. ✖ administration, planning, personnel management
2. ✖ financial management, control and direction
3. ✖ supervision, monitoring and support
4. ✔ information management and communication, planning and administration

Question Number : 196 Question Id : 1626532228 Question Type : MCQ Option Shuffling : Yes Display Question Number : Yes  
Single Line Question Option : No Option Orientation : Vertical

Correct Marks : 1 Wrong Marks : 0.25

प्राथमिक शिक्षा में आधुनिक कक्षा शिक्षक के महत्वपूर्ण प्रबंधकीय कार्य मुख्य रूप से क्या हैं?

Options :

1. ✖ प्रशासन, योजना, कार्मिक प्रबंधन
2. ✖ वित्तीय प्रबंधन, नियंत्रण और दिशा
3. ✖ पर्यवेक्षण, निगरानी और समर्थन
4. ✔ सूचना प्रबंधन और संचार, योजना और प्रशासन

Question Number : 197 Question Id : 1626532229 Question Type : MCQ Option Shuffling : Yes Display Question Number : Yes  
Single Line Question Option : No Option Orientation : Vertical

Correct Marks : 1 Wrong Marks : 0.25

The primary focus of the classroom teacher is to:

- a. plan and prepare to promote students to the next grade
- b. get involved in critical reflection to improve knowledge and skills to effectively engage students and improve their learning
- c. undertake other duties in addition to their rostered teaching duties

Options :

1. ✖ a and b are correct
2. ✔ b and c are correct
3. ✖ a and c are not correct

4. ✖ a, b, and c are correct

Question Number : 197 Question Id : 1626532229 Question Type : MCQ Option Shuffling : Yes Display Question Number : Yes  
Single Line Question Option : No Option Orientation : Vertical

Correct Marks : 1 Wrong Marks : 0.25

कक्षा शिक्षक का प्राथमिक संकेन्द्रण है:

- a. अगले ग्रेड में छात्रों को प्रोन्नत करने के लिए योजना बनाना और तैयारी करना
- b. छात्रों को प्रभावी ढंग से संलग्न करने और उनकी शिक्षा में सुधार करने के लिए ज्ञान और कौशल में सुधार हेतु महत्वपूर्ण प्रतिबिंब में शामिल होना
- c. अपने निर्दिष्ट शिक्षण कर्तव्यों के अलावा अन्य कर्तव्यों का पालन करना

Options :

1. ✖ a और b सही हैं

2. ✔ b और c सही हैं

3. ✖ a और c सही नहीं हैं

4. ✖ a, b और c सही हैं

Question Number : 198 Question Id : 1626532230 Question Type : MCQ Option Shuffling : Yes Display Question Number : Yes  
Single Line Question Option : No Option Orientation : Vertical

Correct Marks : 1 Wrong Marks : 0.25

The capabilities of teachers are measured against certain generic parameters, such as, quality of performance, communication skills, sincerity and devotion to duty, initiative, creativity, resourcefulness, willingness to take on responsibility and leadership qualities.

These are essential for \_\_\_\_\_ of teachers.

Options :

1. ✖ academic management

2. ✔ capacity building

3. ✖ personnel management

4. ✖ personality development

Question Number : 198 Question Id : 1626532230 Question Type : MCQ Option Shuffling : Yes Display Question Number : Yes  
Single Line Question Option : No Option Orientation : Vertical

Correct Marks : 1 Wrong Marks : 0.25



शिक्षकों की क्षमताओं को कुछ सामान्य मानकों पर मापा जाता है, जैसे: प्रदर्शन की गुणवत्ता, संचार कौशल, ईमानदारी और कर्तव्य निष्ठा, पहल, रचनात्मकता, उपाय कुशलता, जिम्मेदारी लेने की इच्छा और नेतृत्व गुण।

ये शिक्षकों के \_\_\_\_\_ के लिए आवश्यक हैं।

Options :

1. ✖ शैक्षिक प्रबंधन
2. ✔ क्षमता निर्माण
3. ✖ कार्मिक प्रबंधन
4. ✖ व्यक्तित्व विकास

Question Number : 199 Question Id : 1626532231 Question Type : MCQ Option Shuffling : Yes Display Question Number : Yes  
Single Line Question Option : No Option Orientation : Vertical

Correct Marks : 1 Wrong Marks : 0.25

How do schools foster successful parent involvement?

Options :

1. ✔ By improving communication, workshops for parents and parent-school collaborations
2. ✖ By meeting with parents and assessing their needs and expectations
3. ✖ By helping parents solve problems related to their child through counseling
4. ✖ By celebrating parents day at school to make them aware of school culture

Question Number : 199 Question Id : 1626532231 Question Type : MCQ Option Shuffling : Yes Display Question Number : Yes  
Single Line Question Option : No Option Orientation : Vertical

Correct Marks : 1 Wrong Marks : 0.25

स्कूल कैसे अभिभावक की सफल भागीदारी को बढ़ावा देते हैं?

Options :

1. ✔ संचार में सुधार, अभिभावकों के लिए कार्यशाला और अभिभावक-स्कूल सहयोग द्वारा
2. ✖ अभिभावकों के साथ बैठक करना और उनकी जरूरतों और अपेक्षाओं का आकलन करना
3. ✖ अभिभावकों को परामर्श के माध्यम से उनके बच्चे से संबंधित समस्याओं को हल करने में मदद करना

4. ✖ विद्यालय संस्कृति के बारे में जागरूक करने के लिए स्कूल में 'अभिभावक दिवस' मनाना

Question Number : 200 Question Id : 1626532232 Question Type : MCQ Option Shuffling : Yes Display Question Number : Yes  
Single Line Question Option : No Option Orientation : Vertical

Correct Marks : 1 Wrong Marks : 0.25

Ensuring timely access to information, using effective communications tools that address various family structures and are translated into languages that parents/families understand, are major prerequisites to ensure:

Options :

1. ✖ collaboration with other educational institutions
2. ✖ family-friendly design of policies and laws
3. ✔ more engagements of parents, families, and communities in education
4. ✖ professional growth of teachers and school management

Question Number : 200 Question Id : 1626532232 Question Type : MCQ Option Shuffling : Yes Display Question Number : Yes  
Single Line Question Option : No Option Orientation : Vertical

Correct Marks : 1 Wrong Marks : 0.25

विभिन्न संचार संरचनाओं को संबोधित करने वाले प्रभावी संचार उपकरणों का उपयोग कर सूचनाओं का समय पर पहुंच सुनिश्चित करना जो अभिभावक / परिवारों की अपनी भाषा में अनुदित हों, \_\_\_\_\_ सुनिश्चित करने की प्रमुख आवश्यकता है।

Options :

1. ✖ अन्य शैक्षिक संस्थानों के साथ सहयोग
2. ✖ नीतियों और नियमों का परिवार के अनुकूल डिजाइन
3. ✔ शिक्षा में अभिभावकों, परिवारों और समुदायों का अधिक जुड़ाव
4. ✖ शिक्षकों और स्कूल प्रबंधन का पेशेवर विकास